


МИНИСТЕРСТВО НАУКИ И ВЫСШЕГО ОБРАЗОВАНИЯ РОССИЙСКОЙ ФЕДЕРАЦИИ
федеральное государственное автономное образовательное учреждение
высшего образования
«САНКТ-ПЕТЕРБУРГСКИЙ ГОСУДАРСТВЕННЫЙ УНИВЕРСИТЕТ
АЭРОКОСМИЧЕСКОГО ПРИБОРОСТРОЕНИЯ»

Кафедра №31

«УТВЕРЖДАЮ»
Руководитель направления
д.т.н., проф.
(должность, уч. степень, звание)
 А.Ф. Крячко
(подпись)

«22» июня 2020 г

РАБОЧАЯ ПРОГРАММА ДИСЦИПЛИНЫ

«Электротехника»
(Название дисциплины)

Код направления	25.05.03
Наименование направления/ специальности	Техническая эксплуатация транспортного радиооборудования
Наименование направленности	Техническая эксплуатация радиоэлектронного оборудования воздушных судов и аэропортов
Форма обучения	заочная

Санкт-Петербург 2020 г.

Лист согласования рабочей программы дисциплины

Программу составил (а)

доц., к.т.н.,

22.06.20



А.Л. Ляшенко

(должность, уч. степень, звание)

(подпись, дата)

(инициалы, фамилия)

Программа одобрена на заседании кафедры № 31

«22» июня 2020 г, протокол №7

Заведующий кафедрой № 31

д.т.н., проф.

22.06.20

В.Ф. Шишлаков

(уч. степень, звание)

(подпись, дата)

(инициалы, фамилия)

Ответственный за ОП 25.05.03(01)

доц, к.т.н.

22.06.20



Н.А. Гладкий

(должность, уч. степень, звание)

(подпись, дата)

(инициалы, фамилия)

Заместитель директора института №2 по методической работе

доц., к.т.н., доц.

22.06.20



О.Л. Балышева

(должность, уч. степень, звание)

(подпись, дата)

(инициалы, фамилия)

Аннотация

Дисциплина «Электротехника» входит в базовую часть образовательной программы подготовки обучающихся по специальности 25.05.03 «Техническая эксплуатация транспортного радиооборудования» направленность «Техническая эксплуатация радиоэлектронного оборудования воздушных судов и аэропортов». Дисциплина реализуется кафедрой №31.

Дисциплина нацелена на формирование у выпускника

профессиональных компетенций:

ПК-1 «способность возглавить проведение комплекса планово- предупредительных работ по обеспечению исправности, работоспособности и готовности транспортного радиоэлектронного оборудования, его силовых и энергетических систем к использованию по назначению с наименьшими эксплуатационными затратами».

Содержание дисциплины охватывает круг вопросов, связанных с:

- законами теории электрических и магнитных цепей;
- расчетом и анализом параметров электрических цепей постоянного и переменного токов, их переменных в установившихся и переходных режимах работы линейных и нелинейных схем замещения;
- проведением экспериментальных испытаний электрических и магнитных цепей, электротехнических устройств с анализом результатов испытаний.

Преподавание дисциплины предусматривает следующие формы организации учебного процесса: лекции, лабораторные работы, самостоятельная работа студента, консультации.

Программой дисциплины предусмотрены следующие виды контроля: текущий контроль успеваемости, промежуточная аттестация в форме экзамена.

Общая трудоемкость освоения дисциплины составляет 4 зачетных единицы, 144 часа.

Язык обучения по дисциплине «русский».

1. Перечень планируемых результатов обучения по дисциплине

1.1. Цели преподавания дисциплины

Целью преподавания дисциплины является формирование у студентов необходимых знаний о законах и методах расчета электрических и магнитных цепей электротехнических устройств, приобретение навыков расчета и анализа параметров электрических цепей, токов и напряжений в установившихся и переходных режимах работы линейных и нелинейных схем замещения электрических цепей, умение пользоваться электроизмерительными приборами. Обучающиеся должны освоить дисциплину на уровне, позволяющем им использовать на практике методы расчета и анализа электрических и магнитных цепей. Уровень освоения дисциплины должен позволять студентам проводить типовые расчеты основных электрических схем, проводить элементарные лабораторные испытания электротехнических устройств

1.2. Перечень планируемых результатов обучения по дисциплине, соотнесенных с планируемыми результатами освоения ОП

В результате освоения дисциплины обучающийся должен обладать следующими компетенциями:

ПК-1 «способность возглавить проведение комплекса планово- предупредительных работ по обеспечению исправности, работоспособности и готовности транспортного радиоэлектронного оборудования, его силовых и энергетических систем к использованию по назначению с наименьшими эксплуатационными затратами»:

знать – методы анализа электрических цепей

уметь – самостоятельно проводить расчет и анализ установившихся и переходных режимов работы линейных и нелинейных схем замещения электрических и магнитных цепей;

владеть навыками расчетов электрических цепей на компьютере

иметь опыт деятельности - в области проведения компьютерных расчетов электрических цепей.

2. Место дисциплины в структуре ОП

Дисциплина базируется на знаниях, ранее приобретенных студентами при изучении следующих дисциплин:

- Математика. Аналитическая геометрия и линейная алгебра;
- Математика. Математический анализ;
- Физика;

Знания, полученные при изучении материала данной дисциплины, имеют как самостоятельное значение, так и используются при изучении других дисциплин:

- Электроника.

3. Объем дисциплины в ЗЕ/академ. час

Данные об общем объеме дисциплины, трудоемкости отдельных видов учебной работы по дисциплине (и распределение этой трудоемкости по семестрам) представлены в таблице 1

Таблица 1 – Объем и трудоемкость дисциплины

Вид учебной работы	Всего	Трудоемкость по семестрам
		№3
1	2	3

Общая трудоемкость дисциплины, ЗЕ/(час)	4/ 144	4/ 144
Аудиторные занятия , всего час., В том числе	12	12
лекции (Л), (час)	8	8
Практические/семинарские занятия (ПЗ), (час)		
лабораторные работы (ЛР), (час)	4	4
курсовой проект (работа) (КП, КР), (час)		
Экзамен, (час)	9	9
Самостоятельная работа , всего (час)	123	123
Вид промежуточного контроля: зачет, дифф. зачет, экзамен (Зачет, Дифф. зач, Экз.)	Экз.	Экз.

4. Содержание дисциплины

4.1. Распределение трудоемкости дисциплины по разделам и видам занятий

Разделы и темы дисциплины и их трудоемкость приведены в таблице 2.

Таблица 2. – Разделы, темы дисциплины и их трудоемкость

Разделы, темы дисциплины	Лекции (час)	ПЗ (СЗ) (час)	ЛР (час)	КП (час)	СРС (час)
Семестр 3					
Раздел 1. Введение, основные определения электрических цепей.	1		1		24
Тема 1.1. Цели и задачи курса. Место курса в системе дисциплин, обеспечивающих электротехническую подготовку студента по данной направленности.	0.5				12
Тема 1.2. Электрическая цепь - электромагнитная модель устройства или системы. Система величин, используемая при описании цепи.	0.5		1		12
Раздел 2. Электрические цепи постоянного тока.	2		1		24
Тема 2.1. Структура, классификация, параметры элементов. Законы электрических цепей.	0.5				10
Тема 2.2. Электрическая схема. Основные топологические понятия.	0.5		0.5		10
Тема 2.3. Преобразование электрических схем. Расчет цепей постоянного тока.	1		0.5		4
Раздел 3. Электрические цепи гармонического (синусоидального) тока.	1		1		24
Тема 3.1. Элементы цепей синусоидального тока. Изображение синусоидальных величин векторами на комплексной плоскости. Векторные диаграммы.	0.5		0.5		12

Тема 3.2. Простейшие цепи синусоидального тока. Мощность в цепи синусоидального тока. Резонанс напряжений. Резонанс токов.	0.5		0.5		12
Раздел 4. Переходные процессы в линейных электрических цепях.	2		1		24
Тема 4.1. Законы коммутации и начальные условия. Принужденный и свободный режимы. Расчет переходных процессов классическим методом.	1				12
Тема 4.2. Операторный метод расчета переходных процессов.	1		1		12
Раздел 5. Трехфазные цепи.	2				27
Тема 5.1. Определения и свойства трехфазных цепей. Схемы соединения трехфазных цепей. Связь фазных и линейных величин.	0.5				10
Тема 5.2. Соединение нагрузки звездой (симметричная и несимметричная нагрузка). Соединение нагрузки треугольником (симметричная и несимметричная нагрузка).	0.5				10
Тема 5.3. Активная, реактивная и полная мощности. Измерение активной и реактивной мощности.	1				7
Итого в семестре:	8		4		123
Итого	8	0	4	0	123

4.2. Содержание разделов и тем лекционных занятий

Содержание разделов и тем лекционных занятий приведено в таблице 3.

Таблица 3 - Содержание разделов и тем лекционных занятий

Номер раздела, темы	Название и содержание разделов и тем лекционных занятий
Раздел 1.	Введение, основные определения электрических цепей.
Тема 1.1.	Цели и задачи курса. Место курса в системе дисциплин, обеспечивающих электротехническую подготовку студента по данной направленности.
Тема 1.2.	Электрическая цепь - электромагнитная модель устройства или системы. Система величин, используемая при описании цепи.
Раздел 2.	Электрические цепи постоянного тока.
Тема 2.1.	Структура, классификация, параметры элементов. Законы электрических цепей. Структурные элементы цепи (активные и пассивные), их свойства, уравнения и параметры элементов. Линейные и нелинейные элементы. Цепи с сосредоточенными и распределенными параметрами.
Тема 2.2.	Математическая модель цепи (уравнения цепи) - совокупность уравнений элементов с уравнениями соединений. Электрическая схема. Основные топологические понятия (двухполюсник, узел, сечение, контур). Закон токов Кирхгофа и закон напряжений Кирхгофа как уравнения состояний.
Тема 2.3.	Правила преобразования электрических схем. Задача расчета, понятие о ветви как о расчетном двухполюснике, ток и напряжение которого связаны соотношением - уравнением ветви. Расчет цепей постоянного тока.
Раздел 3.	Электрические цепи гармонического (синусоидального) тока.
Тема 3.1.	Основные величины, характеризующие гармонический режим. Действующее и среднее значения. Мощность. Пассивные элементы в гармоническом режиме. Изображение синусоидальных величин векторами на комплексной плоскости. Комплексные амплитуды и действующие значения. Векторные диаграммы.
Тема 3.2.	Комплексные сопротивления и проводимости. Уравнения элементов и соединений в

	комплексной форме. Комплексная мощность. Простейшие цепи синусоидального тока. Мощности в цепях синусоидального тока. Резонанс напряжений. Резонанс токов.
Раздел 4.	Переходные процессы в линейных электрических цепях.
Тема 4.1.	Виды нестационарных (переходных) режимов, их связь с установившимися. Правила коммутации, переменные состояния. Начальные условия. Принужденный и свободный режимы. Порядок составления и аналитического решения уравнений состояния. Характеристики свободных процессов в цепях 1-го и 2-го порядков. Расчет переходных процессов классическим методом. О численном решении уравнений состояния.
Тема 4.2.	Операторный метод расчета переходных процессов. Связь между преобразованиями Фурье и Лапласа. Свойства операторных изображений. Составление и решение уравнений цепи в операторной форме. Переход от изображений к оригиналам. Теорема разложения.
Раздел 5.	Трехфазные цепи.
Тема 5.1.	Преимущества многофазных цепей и систем. Определения и свойства трехфазных цепей. Связь фазных и линейных величин.
Тема 5.2.	Расчет трехфазных цепей при включении нагрузки звездой (симметричная и несимметричная нагрузка). Расчет трехфазных цепей при включении нагрузки треугольником (симметричная и несимметричная нагрузка).
Тема 5.3	Активная, реактивная и полная мощности. Измерение активной и реактивной мощности.

4.3. Практические (семинарские) занятия

Темы практических занятий и их трудоемкость приведены в таблице 4.

Таблица 4 – Практические занятия и их трудоемкость

№ п/п	Темы практических занятий	Формы практических занятий	Трудоемкость, (час)	№ раздела дисциплины
Учебным планом не предусмотрено				

4.4. Лабораторные занятия

Темы лабораторных занятий и их трудоемкость приведены в таблице 5.

Таблица 5 – Лабораторные занятия и их трудоемкость

№ п/п	Наименование лабораторных работ	Трудоемкость, (час)	№ раздела дисциплины
Семестр 3			
1.	Электроизмерительные приборы и измерения.	1	1
2.	Исследование резистивной цепи на постоянном токе.	0.5	2
3.	Исследование линии передачи энергии от источника к приемнику.	0.5	2
4.	Исследование одноэлементных двухполюсников на переменном токе.	0.5	3
5.	Исследование двухэлементных двухполюсников на переменном токе.	0.5	3
6.	Переходные процессы в цепях постоянного тока.	1	4
Всего		4	

4.5. Курсовое проектирование (работа)

Учебным планом не предусмотрено

4.6. Самостоятельная работа обучающихся

Виды самостоятельной работы и ее трудоемкость приведены в таблице 6.

Таблица 6 Виды самостоятельной работы и ее трудоемкость

Вид самостоятельной работы	Всего, час	Семестр 3, час
1	2	3
Самостоятельная работа, всего	123	123
изучение теоретического материала дисциплины (ТО)	40	40
Подготовка к текущему контролю (ТК)	40	40
контрольные работы заочников (КРЗ)	43	43

5. Перечень учебно-методического обеспечения для самостоятельной работы обучающихся по дисциплине (модулю)

Учебно-методические материалы для самостоятельной работы обучающихся указаны в п.п. 8-10.

6. Перечень основной и дополнительной литературы

6.1. Основная литература

Перечень основной литературы приведен в таблице 7.

Таблица 7 – Перечень основной литературы

Шифр	Библиографическая ссылка / URL адрес	Количество экземпляров в библиотеке (кроме электронных экземпляров)
	Основы теории цепей : Переходные процессы [Электронный ресурс] : учебное пособие / В. Я. Лавров ; С.-Петерб. гос. ун-т аэрокосм. приборостроения. - Электрон. текстовые дан. - СПб. : Изд-во ГУАП, 2012. - 123 с.	
	Электротехника. Линейная электрическая цепь с сосредоточенными параметрами в установившемся режиме [Электронный ресурс] : учебное пособие / Б. А. Артемьев ; С.-Петерб. гос. ун-т аэрокосм. приборостроения. - Электрон. текстовые дан. - СПб. : Изд-во ГУАП, 2013. - 86 с.	
	Электротехника и основы электроники [Текст] : учебное пособие / Н. В. Белов, Ю. С. Волков. - СПб. [и др.] : Лань, 2012. - 430 с.	

6.2. Дополнительная литература

Перечень дополнительной литературы приведен в таблице 8.

Таблица 8 – Перечень дополнительной литературы

Шифр	Библиографическая ссылка/ URL адрес	Кол-во экз. в
------	-------------------------------------	---------------

		библиотеке (кроме электронных экземпляров)
621.3 К 89	Теоретическая электротехника [Текст] : учебник / В. А. Кузовкин. - М. : Университетская книга ; М. : Логос, 2005. - 480 с.	10
621.3 К 28	Электротехника [Текст] : учебник / А. С. Касаткин, М. В. Немцов. - 9-е изд., стер. - М. : Академия, 2005. - 544 с.	22
621.3 Б 43	Электротехника и основы электроники [Текст] : учебное пособие / Н. В. Белов, Ю. С. Волков. - СПб. [и др.] : Лань, 2012. - 430 с.	10
621.3 Б 93	Электротехника [Текст] : учебник для СПО / П. А. Бутырин. - М. : Академия, 2006. - 272 с. : рис. - (Начальное профессиональное образование). - Библиогр.: с. 263	10
	Основы теории цепей. Переходные процессы и четырехполюсники [Электронный ресурс] : текст лекций / В. В. Колесников ; С.-Петербург. гос. ун-т аэрокосм. приборостроения. - Документ включает в себя 2 файла, размер: (643, 805 Kb). - СПб. : Изд-во ГУАП, 2006. - 111 с.	
	Основы теории цепей. Установившиеся режимы [Электронный ресурс] : текст лекций / В. В. Колесников ; С.-Петербург. гос. ун-т аэрокосм. приборостроения. - Документ включает в себя 1 файл, размер: (1175 Kb). - СПб. : Изд-во ГУАП, 2006. - 100 с.	
621.372 К 60	Основы теории цепей. Нелинейные цепи. Длинные линии [Текст] : текст лекций / В. В. Колесников ; С.-Петербург. гос. ун-т аэрокосм. приборостроения. - СПб. : Изд-во ГУАП, 2007. - 100 с.	93

7. Перечень ресурсов информационно-телекоммуникационной сети ИНТЕРНЕТ, необходимых для освоения дисциплины

Перечень ресурсов информационно-телекоммуникационной сети ИНТЕРНЕТ, необходимых для освоения дисциплины приведен в таблице 9.

Таблица 9 – Перечень ресурсов информационно-телекоммуникационной сети ИНТЕРНЕТ, необходимых для освоения дисциплины

URL адрес	Наименование
www.kurstoe.ru	Курс лекций по ТОЭ
www.bourabai.ru	Теоретические основы электротехники и электроники
www.toehelp.ru	Текции и задачи по ТОЭ

8. Перечень информационных технологий, используемых при осуществлении образовательного процесса по дисциплине

8.1. Перечень программного обеспечения

Перечень используемого программного обеспечения представлен в таблице 10.

Таблица 10 – Перечень программного обеспечения

№ п/п	Наименование
	Не предусмотрено

8.2. Перечень информационно-справочных систем

Перечень используемых информационно-справочных систем представлен в таблице 11.

Таблица 11 – Перечень информационно-справочных систем

№ п/п	Наименование
	Не предусмотрено

9. Материально-техническая база, необходимая для осуществления образовательного процесса по дисциплине

Состав материально-технической базы представлен в таблице 12.

Таблица 12 – Состав материально-технической базы

№ п/п	Наименование составной части материально-технической базы	Номер аудитории (при необходимости)
1	Лекционная аудитория общего доступа.	на ул. Гастелло, 15.
2	Специализированные лаборатории «Линейные электрические цепи» и «Нелинейные электрические и магнитные цепи».	ауд.14-04 и 14-06 на ул. Гастелло, 15.

10. Фонд оценочных средств для проведения промежуточной аттестации обучающихся по дисциплине

10.1. Состав фонда оценочных средств приведен в таблице 13

Таблица 13 - Состав фонда оценочных средств для промежуточной аттестации

Вид промежуточной аттестации	Примерный перечень оценочных средств
Экзамен	Список вопросов к экзамену; Задачи; Тесты.

10.2. Перечень компетенций, относящихся к дисциплине, и этапы их формирования в процессе освоения образовательной программы приведены в таблице 14.

Таблица 14 – Перечень компетенций с указанием этапов их формирования в процессе освоения образовательной программы

Номер семестра	Этапы формирования компетенций по дисциплинам/практикам в процессе освоения ОП
	ПК-1 «способность возглавить проведение комплекса планово- предупредительных работ по обеспечению исправности, работоспособности и готовности транспортного радиоэлектронного оборудования, его силовых и энергетических систем к использованию по назначению с наименьшими эксплуатационными затратами»
3	Электротехника
4	Производственная практика по получению профессиональных умений и опыта профессиональной деятельности
5	Электропреобразовательные устройства и системы
6	Производственная практика по получению профессиональных умений и опыта профессиональной деятельности
8	Производственная практика по получению профессиональных умений и опыта профессиональной деятельности
9	Энергосиловое оборудование аэропортов
10	Производственная практика по получению профессиональных умений и опыта профессиональной деятельности
10	Организация технического обслуживания и ремонта радиоэлектронных систем воздушного транспорта

11	Организация технического обслуживания и ремонта радиоэлектронных систем воздушного транспорта
----	---

10.3. В качестве критериев оценки уровня сформированности (освоения) у обучающихся компетенций применяется шкала модульно–рейтинговой системы университета. В таблице 15 представлена 100–балльная и 4–балльная шкалы для оценки сформированности компетенций.

Таблица 15 –Критерии оценки уровня сформированности компетенций

Оценка компетенции		Характеристика сформированных компетенций
100-балльная шкала	4-балльная шкала	
$85 \leq K \leq 100$	«отлично» «зачтено»	<ul style="list-style-type: none"> - обучающийся глубоко и всесторонне усвоил программный материал; - уверенно, логично, последовательно и грамотно его излагает; - опираясь на знания основной и дополнительной литературы, тесно привязывает усвоенные научные положения с практической деятельностью направления; - умело обосновывает и аргументирует выдвигаемые им идеи; - делает выводы и обобщения; - свободно владеет системой специализированных понятий.
$70 \leq K \leq 84$	«хорошо» «зачтено»	<ul style="list-style-type: none"> - обучающийся твердо усвоил программный материал, грамотно и по существу излагает его, опираясь на знания основной литературы; - не допускает существенных неточностей; - увязывает усвоенные знания с практической деятельностью направления; - аргументирует научные положения; - делает выводы и обобщения; - владеет системой специализированных понятий.
$55 \leq K \leq 69$	«удовлетворительно» «зачтено»	<ul style="list-style-type: none"> - обучающийся усвоил только основной программный материал, по существу излагает его, опираясь на знания только основной литературы; - допускает несущественные ошибки и неточности; - испытывает затруднения в практическом применении знаний направления; - слабо аргументирует научные положения; - затрудняется в формулировании выводов и обобщений; - частично владеет системой специализированных понятий.
$K \leq 54$	«неудовлетворительно» «не зачтено»	<ul style="list-style-type: none"> - обучающийся не усвоил значительной части программного материала; - допускает существенные ошибки и неточности при рассмотрении проблем в конкретном направлении; - испытывает трудности в практическом применении знаний; - не может аргументировать научные положения; - не формулирует выводов и обобщений.

10.4. Типовые контрольные задания или иные материалы:

1. Вопросы (задачи) для экзамена (таблица 16)

Таблица 16 – Вопросы (задачи) для экзамена

№ п/п	Перечень вопросов (задач) для экзамена
1	Взаимная индуктивность. ЭДС взаимной индукции. Маркировка одноименных зажимов.
2	Согласное и встречное включение индуктивно-связанных катушек.

3	Определение переходной характеристики интеграла Дюамеля.
4	Расчет переходного процесса при произвольной форме входного воздействия.
5	Пассивные четырехполюсники: уравнения в [A] коэффициентах.
6	Расчет [A] коэффициентов пассивного четырехполюсника.
7	Электрические схемы для определения [A] коэффициентов пассивного четырехполюсника.
8	Виды соединений и эквивалентные преобразования пассивных четырехполюсников.
9	Управляемые источники электрической энергии.
10	Операционный усилитель, его свойства.
11	Обратные связи в усилителях.
12	Расчет и построение передаточной функции, АЧХ и ФЧХ интегратора на основе операционного усиления.
13	Расчет и построение передаточной функции, АЧХ и ФЧХ дифференцирующего звена на основе операционного усилителя.
14	Расчет линейной ЭЦ при периодическом несинусоидальном сигнале (напряжении).
15	Нелинейные элементы, их характеристики.
16	Графический расчет нелинейной ЭЦ.
17	Расчет нелинейной ЭЦ методом эквивалентного источника напряжения.
18	Методы аппроксимации нелинейных зависимостей.
19	Феррорезонансный стабилизатор напряжений.
20	Генератор релаксационных колебаний.
21	Магнитная и электрическая цепи: аналогия формул расчета.
22	Расчет линейной неразветвленной магнитной цепи с постоянными МДС.
23	Расчет линейной разветвленной магнитной цепи с постоянными МДС.
24	Расчет нелинейной магнитной цепи с постоянными МДС.
25	Трансформатор: схемы замещения.
26	Что такое последовательное соединение двух резисторов?
27	Как можно определить входное сопротивление последовательно соединённых резисторов?
28	Какие значения сопротивления, тока и напряжения соответствуют режиму холостого хода?
29	Что такое параллельное соединение резисторов?
30	Как можно определить входную проводимость параллельно соединённых резисторов?
31	Какие значения сопротивления, напряжения и тока соответствуют режиму короткого замыкания?
32	Как нужно соединить резисторы, чтобы увеличить входное сопротивление?
33	Как нужно соединить резисторы, чтобы уменьшить входное сопротивление?
34	Как построить граф электрической цепи?
35	Из каких ветвей графа состоит главный контур?
36	Какие ветви графа составляют главное сечение?
37	Какие уравнения составляются для главных сечений?
38	Какие уравнения составляются для главных контуров?
39	Чему равно число уравнений токов связей?
40	Чему равно число уравнений угловых напряжений?
41	Что такое комплексная амплитуда?
42	Какими величинами связаны комплексные амплитуды напряжения и тока?
43	Что такое индуктивное и ёмкостное сопротивление?
44	Что называется индуктивной и ёмкостной проводимостью?
45	Какими комплексными сопротивлениями обладают резистор, индуктивность и ёмкость?
46	Какие комплексные проводимости имеют резистор, индуктивность и ёмкость?
47	Какие углы между напряжением и током имеют место в резисторе, индуктивности и ёмкости ?
48	Что такое векторная диаграмма?
49	Какое условие должно соблюдаться, чтобы в цепи имел место режим резонанса?
50	При каких условиях в цепи возникает переходный процесс?
51	Что такое независимые начальные условия, как их определить?
52	Какие уравнения описывают линейную электрическую цепь в переходном процессе?
53	Из каких частей состоит решение системы линейных дифференциальных уравнений?
54	Как определить порядок решения линейных дифференциальных уравнений, как он влияет на

	форму решения?
55	Что представляет собой индуктивность и ёмкость в постоянном режиме?
56	Что такое постоянная времени, как связать её с длительностью переходного процесса?
57	Какого вида переходные процессы существуют в цепях второго порядка, от чего это зависит?
58	Какие величины используют для характеристики переходных процессов второго порядка?

2. Вопросы (задачи) для зачета / дифференцированного зачета (таблица 17)

Таблица 17 – Вопросы (задачи) для зачета / дифф. зачета

№ п/п	Перечень вопросов (задач) для зачета / дифференцированного зачета
	Учебным планом не предусмотрено

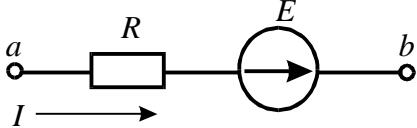
3. Темы и задание для выполнения курсовой работы / выполнения курсового проекта (таблица 18)

Таблица 18 – Примерный перечень тем для выполнения курсовой работы / выполнения курсового проекта

№ п/п	Примерный перечень тем для выполнения курсовой работы / выполнения курсового проекта
	Учебным планом не предусмотрено

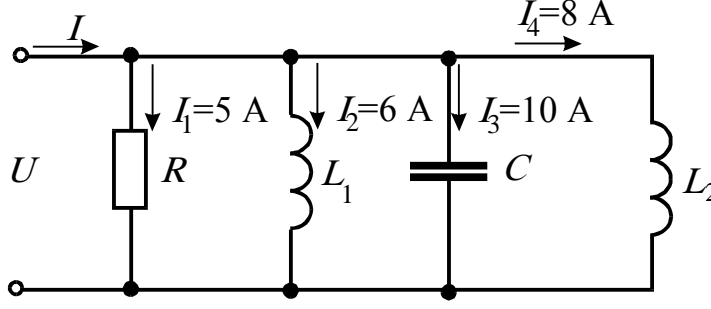
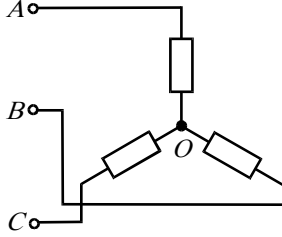
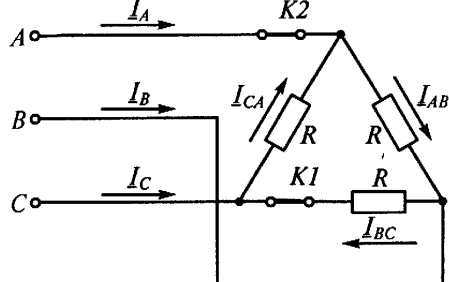
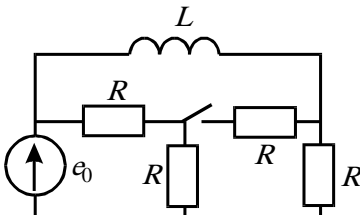
4. Вопросы для проведения промежуточной аттестации при тестировании (таблица 19)

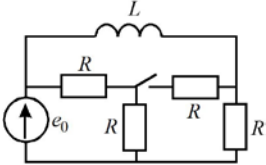
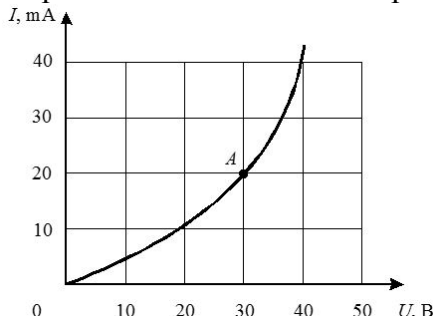
Таблица 19 – Примерный перечень вопросов для тестов

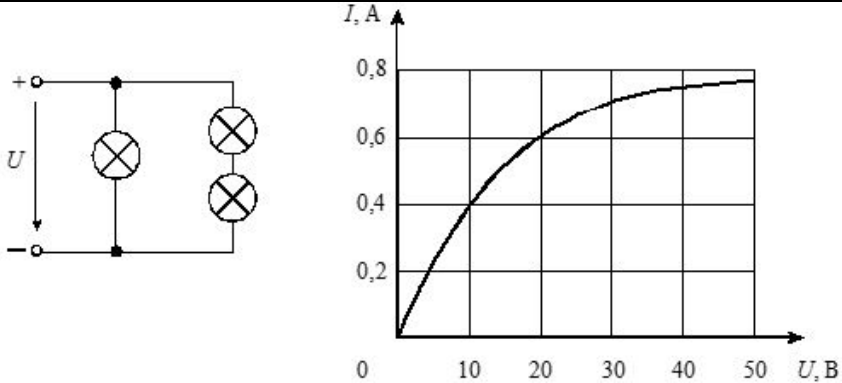
№ п/п	Примерный перечень вопросов для тестов
1	ЭДС – работа по перемещению единицы заряда 1) по внешнему участку цепи; 2) по всей замкнутой цепи; 3) внутри источника; 4) по сопротивлению нагрузки
2	Электрическое сопротивление – это скалярная величина равная отношению электрического напряжения на зажимах двухполюсника к... 1) проводимости двухполюсника; 2) ЭДС двухполюсника; 3) току в двухполюснике; 4) сопротивлению двухполюсника.
3	Укажите правильную формулу закона Ома для участка цепи, содержащего ЭДС.  1) $I = \frac{\varphi_a - \varphi_b - E}{R}$ 2) $I = \frac{\varphi_a - \varphi_b + E}{R}$ 3) $I = \frac{\varphi_b - \varphi_a + E}{R}$ 4) $I = (\varphi_b - \varphi_a + E)R$
4	Укажите, сколько уравнений по законам Кирхгофа необходимо составить для расчета токов данной схеме.

		<p>1) 6 уравнений (из них 3 – по I закону, 3 – по II закону). 2) 5 уравнений (из них 2 – по I закону, 3 – по II закону). 3) 3 уравнения (из них 1 – по I закону, 2 – по II закону). 4) 5 уравнений (из них 3 – по I закону, 2 – по II закону).</p>
<p>5</p>	<p>Выберите графическую зависимость, соответствующую изменению напряжения от тока $U = f(I)$ на зажимах идеального источника ЭДС.</p>	<p>1) 4; 2) 1; 3) 2; 4) 3.</p>
<p>6</p>	<p>Определите величину тока I_1.</p>	<p>1) 2А; 2) 4А; 3) -2А; 4) -4А.</p>
<p>7</p>	<p>Определить сопротивление R_2 при известных значениях параметров элементов показаниях амперметров</p>	<p>1) 15 Ом; 2) 12 Ом; 3) 20 Ом; 4) 30 Ом.</p>
<p>8</p>	<p>Как изменится показание амперметра при замыкании ключа?</p>	<p>1) не изменится; 2) увеличится; 3) станет равным нулю; 4) уменьшится.</p>

9	<p>В цепи $R_1=15\text{ Ом}$; $R_2=25\text{ Ом}$; $E_1=120\text{ В}$; $E_2=40\text{ В}$. Определить показания вольтметра.</p>  <p>1) 170 В; 2) 80 В; 3) 160 В; 4) 90 В.</p>
10	<p>Какой параметр переменного тока влияет на индуктивное сопротивление катушки?</p> <p>1) начальная фаза тока; 2) амплитуда тока; 3) действующее значение тока; 4) период тока.</p>
11	<p>Мгновенные значения тока и напряжения в нагрузке заданы следующими выражениями: $i = 0,2 \sin(376,8t + 80^\circ)$ А, $u = 250 \sin(376,8t + 170^\circ)$ В. Определить тип нагрузки.</p> <p>1) активная; 2) активно-индуктивная; 3) активно-емкостная; 4) индуктивная.</p>
12	<p>Как изменится ток i при увеличении расстояния между обкладками воздушного конденсатора?</p> <p>1) увеличится; 2) уменьшится; 3) не изменится.</p>
13	<p>Определите начальную фазу переменного тока, представленного на графике.</p>  <p>1) $\pi/6$; 2) $-\pi/6$; 3) $3\pi/6$; 4) $5\pi/6$.</p>
14	<p>Выберите правильную формулу связи амплитудного и действующего значения.</p> <p>1) $I_m = I/\sqrt{2}$; 2) $I = \sqrt{2}/I_m$; 3) $I_m = I\sqrt{2}$; 4) $I = I_m\sqrt{2}$.</p>
15	<p>В какой цепи можно получить резонанс напряжений?</p> <p>1) с последовательным соединением резистора и катушки; 2) с последовательным соединением резистора и емкостного элемента; 3) с последовательным соединением катушки и емкостного элемента; 4) с параллельным соединением катушки и емкостного элемента.</p>
16	<p>Определить величину сопротивления X_L, если $U=100\text{ В}$, ваттметр показывает 400 Вт, амперметр – 5 Ампер.</p>  <p>1) 20 Ом; 2) 12 Ом; 3) 30 Ом; 4) 60 Ом.</p>

17	<p>Определите ток в неразветвленной части цепи.</p>  <p>1) $\sqrt{29}$ А; 2) $\sqrt{41}$ А; 3) 12 А; 4) 29 А.</p>
18	<p>Между какими точками надо включить вольтметр для измерения фазного напряжения?</p>  <p>1) AB; 2) BC; 3) AC; 4) AO.</p>
19	<p>Может ли нулевой провод в четырехпроводной цепи обеспечивать симметрию фазных напряжений при несимметричной нагрузке?</p> <p>1) может, если обладает пренебрежительно малым сопротивлением; 2) может, если обладает достаточно большим сопротивлением; 3) может, если нагрузка чисто активная; 4) не может.</p>
20	<p>Линейное напряжение 220 В. Определить фазное напряжение, если нагрузка соединена треугольником</p> <p>1) 220 В ; 2) 127 В; 3) 380 В; 4) 110 В.</p>
21	<p>21. Как изменятся токи при размыкании ключа К1. Укажите неправильный ответ.</p>  <p>1) I_A - уменьшится; 2) I_B - уменьшится; 3) I_{AB} - не изменится; 4) I_{BC} - станет равным нулю.</p>
22	<p>Если в результате коммутации ключ оказался разомкнутым, то установившееся значение тока на индуктивности i_L (при $t \rightarrow \infty$) равно:</p>  <p>1) $e_0/0,5R$; 2) $e_0/2R$; 3) $3e_0/2R$; 4) e_0/R ; 5) $e_0/3R$;</p>
23	<p>Постоянная времени в цепи с последовательно соединенными элементами R и L при увеличении сопротивления R:</p>

	<p>1) увеличивается;</p> <p>2) уменьшается;</p> <p>3) остается неизменной;</p> <p>4) ответ зависит от характера приложенного к цепи напряжения;</p> <p>5) ответ зависит от начального значения тока на индуктивности $i_L(0)$</p>
24	<p>Если в результате коммутации ключ оказался замкнутым, то ток на индуктивности в начальный момент времени $i(0)$ равен:</p>  <p>1) $e_0/0,5R$;</p> <p>2) e_0/R;</p> <p>3) $3e_0/2R$;</p> <p>4) $e_0/2R$;</p> <p>5) $e_0/3R$.</p>
25	<p>Выберите вид решения для свободных составляющих токов для случая, когда характеристическое уравнение имеет один корень:</p> <p>1) $i_{св} = Ae^{pt}$;</p> <p>2) $i_{св} = A_1e^{p_1t} + A_2e^{p_2t}$;</p> <p>3) $i_{св} = Ae^{-\delta t} \sin(\omega_0t + \gamma)$.</p>
26	<p>Какие начальные условия необходимо знать, чтобы найти постоянные интегрирования A и γ для свободного тока $i_{св} = Ae^{-\delta t} \sin(\omega_0t + \gamma)$?</p> <p>1) $i_{св}(0_+), \frac{di_{св}}{dt} / 0_+$;</p> <p>2) $i_{св}(0_+), \frac{du_{св}}{dt} / 0_+$;</p> <p>3) $\frac{di_{св}}{dt} / 0_+$;</p> <p>4) $\frac{du_{св}}{dt} / 0_+$.</p>
27	<p>На графике представлена вольтамперная характеристика нелинейного элемента. Определить статическое сопротивление НЭ для точки A характеристики.</p>  <p>1) 1,5 кОм, 2) 0,6 Ом, 3) 1 кОм</p>
28	<p>Три лампы с одинаковыми вольтамперными характеристиками соединены по смешанной схеме. Определить ток в неразветвленной части цепи, если напряжение на входе цепи равно 20 В. Вольтамперная характеристика лампы приведена на графике.</p>

	 <p>1) 2 A, 2) 1 A 3) 1,8 A.</p>
29	<p>Магнитная цепь содержит два последовательно соединенных стальных участка одинаковой длины с сечениями, отличающимися в два раза по площади. Как различаются в них значения магнитной индукции?</p> <p>1) Значения одинаковые. 2) Индукция там больше, где больше площадь сечения. 3) Индукция там больше, где меньше площадь сечения. 4) Ответа нет, так как индукция не зависит от геометрии магнитопровода.</p>
30	<p>Какая форма записи уравнений четырехполюсников используется для описания каскадного соединения?</p> <p>1) в Y - параметрах; 2) в H - параметрах; 3) в Z - параметрах; 4) в A- параметрах.</p>
31	<p>Уравнение четырехполюсника имеет вид:</p> $\begin{cases} U_1 = 5U_2 + 3iI_2 \\ I_1 = -4iU_2 + 4I_2 \end{cases}$ <p>Чему равно входное сопротивление четырехполюсника при питании его со стороны вторичных зажимов в режиме холостого хода?</p> <p>1) $-1,25$, 2) $20i$, 3) $-i$, 4) i</p>
32	<p>Скорость вращения n ротора синхронного двигателя с числом пар полюсов p :</p> <p>1) равна скорости вращения электромагнитного поля; 2) пропорциональна числу пар полюсов; 3) обратно пропорциональна числу пар полюсов.</p>
33	<p>Скорость вращения электромагнитного поля асинхронного двигателя:</p> <p>1) больше скорости ротора; 2) меньше скорости ротора; 3) равна скорости ротора.</p>
34	<p>Сердечник трансформаторов изготавливается из стальных листов, изолированных друг от друга с целью:</p> <p>1) повышения магнитной индукции в сердечнике, 2) снижения потерь от вихревых токов, 3) увеличения коэффициента трансформации.</p>

5. Контрольные и практические задачи / задания по дисциплине (таблица 20)

Таблица 20 – Примерный перечень контрольных и практических задач / заданий

Примерный перечень контрольных и практических задач / заданий	
1.	Переходный процесс в линейной ЭЦ 1-го порядка при коммутации (операционный метод).

2. Свойства преобразований Лапласа.
3. Формула разложения в расчете переходного процесса операционным методом.
4. Законы Кирхгофа в операционной форме.
5. Построение операционной схемы замещения.
6. Построить в операционной форме систему уравнений переходного процесса в ЭЦ 2-го порядка.
7. Способы нахождения оригинала $x(t)$ по изображению $X(p)$.
8. Расчет трехфазных цепей при соединении звездой
9. Расчет трехфазных цепей при соединении треугольником
10. Пассивные четырехполюсники: уравнения в $[A]$ коэффициентах.
11. Расчет $[A]$ коэффициентов пассивного четырехполюсника.
12. Электрические схемы для определения $[A]$ коэффициентов пассивного четырехполюсника.
13. Эквивалентные преобразования пассивных четырехполюсников.
14. Расчет и построение передаточной функции, АЧХ и ФЧХ интегратора на основе операционного усиления.
15. Расчет и построение передаточной функции, АЧХ и ФЧХ дифференцирующего звена на основе операционного усилителя.
16. Расчет линейной ЭЦ при периодическом несинусоидальном сигнале (напряжении).
17. Нелинейные элементы, их характеристики.
18. Графический расчет нелинейной ЭЦ.
19. Расчет нелинейной ЭЦ методом эквивалентного источника напряжения.
20. Расчет нелинейной ЭЦ методом итераций

10.5. Методические материалы, определяющие процедуры оценивания знаний, умений, навыков и / или опыта деятельности, характеризующих этапы формирования компетенций, содержатся в Положениях «О текущем контроле успеваемости и промежуточной аттестации студентов ГУАП, обучающихся по программам высшего образования» и «О модульно-рейтинговой системе оценки качества учебной работы студентов в ГУАП».

11. Методические указания для обучающихся по освоению дисциплины

Целью преподавания дисциплины является формирование у студентов необходимых знаний о законах и методах расчета электрических и магнитных цепей электротехнических устройств, приобретение навыков расчета и анализа параметров электрических цепей, токов и напряжений в установившихся и переходных режимах работы линейных и нелинейных схем замещения электрических цепей, умение пользоваться электроизмерительными приборами. Обучающиеся должны освоить дисциплину на уровне, позволяющем им использовать на практике методы расчета и анализа электрических и магнитных цепей. Уровень освоения дисциплины должен позволять студентам проводить типовые расчеты основных электрических схем, проводить элементарные лабораторные испытания электротехнических устройств.

Методические указания для обучающихся по освоению лекционного материала

Основное назначение лекционного материала – логически стройное, системное, глубокое и ясное изложение учебного материала. Назначение современной лекции в рамках дисциплины не в том, чтобы получить всю информацию по теме, а в освоении фундаментальных проблем дисциплины, методов научного познания, новейших достижений научной мысли. В учебном процессе лекция выполняет методологическую, организационную и информационную функции. Лекция раскрывает понятийный аппарат конкретной области знания, её проблемы, дает цельное представление о дисциплине, показывает взаимосвязь с другими дисциплинами.

Планируемые результаты при освоении обучающимся лекционного материала:

- получение современных, целостных, взаимосвязанных знаний, уровень которых определяется целевой установкой к каждой конкретной теме;
- получение опыта творческой работы совместно с преподавателем;
- развитие профессионально–деловых качеств, любви к предмету и самостоятельного творческого мышления.
- появление необходимого интереса, необходимого для самостоятельной работы;
- получение знаний о современном уровне развития науки и техники и о прогнозе их развития на ближайшие годы;
- научиться методически обрабатывать материал (выделять главные мысли и положения, приходить к конкретным выводам, повторять их в различных формулировках);
- получение точного понимания всех необходимых терминов и понятий.

Лекционный материал может сопровождаться демонстрацией слайдов и использованием раздаточного материала при проведении коротких дискуссий об особенностях применения отдельных тематик по дисциплине.

Структура предоставления лекционного материала:

Методические указания по освоению лекционного материала имеются в виде электронных ресурсов:

Лавров В.Я. Линейные электрические цепи. Установившиеся процессы: учебное пособие. СПб.: ГУАП. 2010. - 232 с. Количество экз. в библ. - 240.

Электротехника. Линейная электрическая цепь с сосредоточенными параметрами в установившемся режиме [Текст] : учебное пособие / Б. А. Артемьев ; С.-Петербург. гос. ун-т аэрокосм. приборостроения. - СПб. : Изд-во ГУАП, 2013. - 86 с..

Методические указания для обучающихся по прохождению лабораторных работ

В ходе выполнения лабораторных работ обучающийся должен углубить и закрепить знания, практические навыки, овладеть современной методикой и техникой эксперимента в соответствии с квалификационной характеристикой обучающегося. Выполнение лабораторных работ состоит из экспериментально-практической, расчетно-аналитической частей и контрольных мероприятий.

Выполнение лабораторных работ обучающимся является неотъемлемой частью изучения дисциплины, определяемой учебным планом, и относится к средствам, обеспечивающим решение следующих основных задач у обучающегося:

- приобретение навыков исследования процессов, явлений и объектов, изучаемых в рамках данной дисциплины;
- закрепление, развитие и детализация теоретических знаний, полученных на лекциях;
- получение новой информации по изучаемой дисциплине;
- приобретение навыков самостоятельной работы с лабораторным оборудованием и приборами.

Подробные методические указания по прохождению лабораторных работ приведены в:

Лабораторный практикум по электротехническим курсам дисциплин: учеб. пособие/С.И. Бардинский, В.А.Голубков, А.А. Ефимов, В.Д. Косулин, С.Ю. Мельников. Под редакцией д.т.н. проф. А.А. Ефимова. - СПб.: ГУАП, 2017. - 161 с.: ил.

Задание и требования к проведению лабораторных работ

Методические указания по проведению лабораторных работ материала имеются в виде электронных ресурсов.

Структура и форма отчета о лабораторной работе приведены в методических указаниях по прохождению лабораторных работ в виде электронных ресурсов

Требования к оформлению отчета о лабораторной работе имеются в изданном виде, в виде электронных ресурсов кафедры

Методические указания для обучающихся по прохождению самостоятельной работы

В ходе выполнения самостоятельной работы, обучающийся выполняет работу по заданию и при методическом руководстве преподавателя, но без его непосредственного участия.

Для обучающихся по заочной форме обучения, самостоятельная работа может включать в себя контрольную работу.

В процессе выполнения самостоятельной работы, у обучающегося формируется целесообразное планирование рабочего времени, которое позволяет им развивать умения и навыки в усвоении и систематизации приобретаемых знаний, обеспечивает высокий уровень успеваемости в период обучения, помогает получить навыки повышения профессионального уровня.

Методическими материалами, направляющими самостоятельную работу обучающихся являются:

- учебно-методический материал по дисциплине;
- методические указания по выполнению контрольных работ (для обучающихся по заочной форме обучения).

Методические указания для обучающихся по прохождению промежуточной аттестации

Промежуточная аттестация обучающихся предусматривает оценивание промежуточных и окончательных результатов обучения по дисциплине. Она включает в себя:

- экзамен – форма оценки знаний, полученных обучающимся в процессе изучения всей дисциплины или ее части, навыков самостоятельной работы, способности применять их для решения практических задач. Экзамен, как правило, проводится в период экзаменационной сессии и завершается аттестационной оценкой «отлично», «хорошо», «удовлетворительно», «неудовлетворительно».

Система оценок при проведении промежуточной аттестации осуществляется в соответствии с требованиями Положений «О текущем контроле успеваемости и промежуточной аттестации студентов ГУАП, обучающихся по программам высшего образования» и «О модульно-рейтинговой системе оценки качества учебной работы студентов в ГУАП».

Лист внесения изменений в рабочую программу дисциплины

Дата внесения изменений и дополнений. Подпись внесшего изменения	Содержание изменений и дополнений	Дата и № протокола заседания кафедры	Подпись зав. кафедрой