

МИНИСТЕРСТВО НАУКИ И ВЫСШЕГО ОБРАЗОВАНИЯ РОССИЙСКОЙ  
ФЕДЕРАЦИИ  
федеральное государственное автономное образовательное учреждение высшего  
образования  
"САНКТ-ПЕТЕРБУРГСКИЙ ГОСУДАРСТВЕННЫЙ УНИВЕРСИТЕТ  
АЭРОКОСМИЧЕСКОГО ПРИБОРОСТРОЕНИЯ"

Кафедра № 1

УТВЕРЖДАЮ

Руководитель направления

д.т.н., проф.

(должность, уч. степень, звание)

А.П. Ковалев

(инициалы, фамилия)

(подпись)

«14» \_\_мая\_\_ 2020 г

РАБОЧАЯ ПРОГРАММА ДИСЦИПЛИНЫ

«Прикладная механика»  
(Наименование дисциплины)

Код направления подготовки/ специальности	25.03.01
Наименование направления подготовки/ специальности	Техническая эксплуатация летательных аппаратов и двигателей
Наименование направленности	Эксплуатация и испытания авиационной и космической техники
Форма обучения	заочная

Санкт-Петербург– 2020

Лист согласования рабочей программы дисциплины

Программу составил (а)

доц., к.т.н., доц.

(должность, уч. степень, звание)



14.05.2020

(подпись, дата)

О. В. Опалихина

(инициалы, фамилия)

Программа одобрена на заседании кафедры № 1

«14» мая 2020 г, протокол № 5/1

Заведующий кафедрой № 1

д.ф.-м.н., доц.

(уч. степень, звание)



14.05.2020

(подпись, дата)

А.О. Смирнов

(инициалы, фамилия)

Ответственный за ОП ВО 25.03.01(01)

доц., к.т.н.

(должность, уч. степень, звание)



14.05.2020

(подпись, дата)

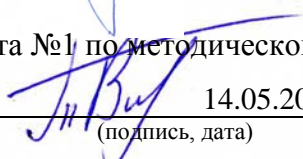
С.Г. Бурлуцкий

(инициалы, фамилия)

Заместитель директора института №1 по методической работе

ассистент

(должность, уч. степень, звание)



14.05.2020

(подпись, дата)

В.Е. Таратун

(инициалы, фамилия)

## Аннотация

Дисциплина «Прикладная механика» входит в образовательную программу высшего образования по направлению подготовки/ специальности 25.03.01 «Техническая эксплуатация летательных аппаратов и двигателей» направленности «Эксплуатация и испытания авиационной и космической техники». Дисциплина реализуется кафедрой «№1».

Дисциплина нацелена на формирование у выпускника следующих компетенций:

ОПК-3 «Способен применять теорию технической эксплуатации, основы конструкции и систем воздушных судов, электрических и электронных источников питания приборного оборудования и систем индикации воздушных судов, систем управления воздушным судном и бортовых систем навигационного и связного оборудования»

ОПК-5 «Способен применять современные средства выполнения и редактирования изображений и чертежей и подготовки конструкторско-технологической документации»

ОПК-6 «Способен применять основные методы анализа современных тенденций развития материалов, технологий их производства и авиационной техники в своей профессиональной деятельности»

Содержание дисциплины «Прикладная механика» охватывает круг вопросов, связанных с предметной областью решения профессиональных задач расчета, проектирования и конструирования механических и электромеханических элементов и устройств, используемых в изделиях авиационной и космической техники. Формирование базовых знаний по расчету, проектированию и конструированию механических и электромеханических элементов и устройств основано на изучении студентами основных понятий и законов механики в приложении к вопросам оптимального построения структурных и кинематических схем механизмов, расчета на прочность и жесткость деталей и узлов механизмов, оптимизации конструктивных параметров и проектирования механизмов..

Преподавание дисциплины предусматривает следующие формы организации учебного процесса: *лекции, практические занятия, самостоятельная работа обучающегося, курсовое проектирование.*

Программой дисциплины предусмотрены следующие виды контроля: текущий контроль успеваемости, промежуточная аттестация в форме экзамена.

Общая трудоемкость освоения дисциплины составляет 4 зачетных единицы, 144 часа.

Язык обучения по дисциплине «русский»

## 1. Перечень планируемых результатов обучения по дисциплине

### 1.1. Цели преподавания дисциплины

Цель преподавания дисциплины состоит в формировании базовых знаний по расчету, проектированию и конструированию механических и электромеханических элементов и устройств, изучении методов моделирования, конструирования и проектирования, исследования и оптимизации параметров и конструкций механических и электромеханических элементов и устройств, используемых в изделиях авиационной и космической техники.

1.2. Дисциплина входит в состав обязательной части образовательной программы высшего образования (далее – ОП ВО).

1.3. Перечень планируемых результатов обучения по дисциплине, соотнесенных с планируемыми результатами освоения ОП ВО.

В результате изучения дисциплины обучающийся должен обладать следующими компетенциями или их частями. Компетенции и индикаторы их достижения приведены в таблице 1.

Таблица 1 – Перечень компетенций и индикаторов их достижения

Категория (группа) компетенции	Код и наименование компетенции	Код и наименование индикатора достижения компетенции
Общепрофессиональные компетенции	ОПК-3 Способен применять теорию технической эксплуатации, основы конструкции и систем воздушных судов, электрических и электронных источников питания приборного оборудования и систем индикации воздушных судов, систем управления воздушным судном и бортовых систем навигационного и связанного оборудования	ОПК-3.3.1 знать методы диагностики и оценки технического состояния авиационной техники в различных условиях эксплуатации; методы расчетов по данным эксплуатационных наблюдений показателей надежности, нормативных значений обобщенных показателей эксплуатационной технологичности с выбором рациональных стратегий технического обслуживания воздушных судов; методы контроля статической и динамической прочности элементов авиационных конструкций; методики оценивания по различным критериям технического состояния систем воздушных судов, включая системы управления, электронные и цифровые системы летательного аппарата и силовой установки
Общепрофессиональные компетенции	ОПК-5 Способен применять современные средства выполнения и редактирования изображений и чертежей и подготовки конструкторско-технологической	ОПК-5.У.2 уметь проектировать детали, узлы и механизмы с составлением проектно-конструкторской документации в машинной графике стандартных средств автоматизации ОПК-5.В.3 владеть проектированием деталей, узлов и механизмов с составлением проектно-конструкторской документации с использованием методов машинной графики стандартных средств автоматизации

	документации	
Общепрофессиональные компетенции	ОПК-6 Способен применять основные методы анализа современных тенденций развития материалов, технологий их производства и авиационной техники в своей профессиональной деятельности	ОПК-6.У.2 уметь выбирать и рационально использовать современные материалы для деталей машин; выбирать способы технологической обработки элементов авиационных конструкций при их проектировании и производстве для получения свойств, обеспечивающих высокую прочностную надежность; прогнозировать и моделировать характер изменения свойств и параметров материалов летательных аппаратов и двигателей с целью своевременной их замены в процессах эксплуатации и ремонтов ОПК-6.В.3 владеть методиками выбора современных материалов для деталей машин; способами технологической обработки элементов авиационных конструкций; моделированием динамики свойств и параметров материалов летательных аппаратов и двигателей в процессах эксплуатации

## 2. Место дисциплины в структуре ОП

Дисциплина может базироваться на знаниях, ранее приобретенных обучающимися при изучении следующих дисциплин:

- «Математика. Аналитическая геометрия и линейная алгебра»,
- «Математика. Математический анализ»,
- «Математика. Дифференциальные уравнения»

Знания, полученные при изучении материала данной дисциплины, имеют как самостоятельное значение, так и могут использоваться при изучении других дисциплин:

- «Метрология, стандартизация и сертификация»,
- «Основы теории технической диагностики летательных аппаратов»,
- «Техническая диагностика»

## 3. Объем и трудоемкость дисциплины

Данные об общем объеме дисциплины, трудоемкости отдельных видов учебной работы по дисциплине (и распределение этой трудоемкости по семестрам) представлены в таблице 2.

Таблица 2 – Объем и трудоемкость дисциплины

Вид учебной работы	Всего	Трудоемкость по семестрам
		№5
1	2	3
<b>Общая трудоемкость дисциплины, ЗЕ/ (час)</b>	4/ 144	4/ 144
<b>Аудиторные занятия, всего час.</b>	24	24
в том числе:		
лекции (Л), (час)	8	8
практические/семинарские занятия (ПЗ),	16	16

(час)		
лабораторные работы (ЛР), (час)		
курсовой проект (работа) (КП, КР), (час)	*	*
экзамен, (час)	9	9
<b>Самостоятельная работа</b> , всего (час)	111	111
<b>Вид промежуточной аттестации:</b> зачет, дифф. зачет, экзамен (Зачет, Дифф. зач, Экз.**)	Экз.	Экз.

Примечание: \*\* кандидатский экзамен

\* - часы , не входящие в аудиторную нагрузку

#### 4. Содержание дисциплины

4.1. Распределение трудоемкости дисциплины по разделам и видам занятий.

Разделы, темы дисциплины и их трудоемкость приведены в таблице 3.

Таблица 3 – Разделы, темы дисциплины, их трудоемкость

Разделы, темы дисциплины	Лекции (час)	ПЗ (СЗ) (час)	ЛР (час)	КП (час)	СРС (час)
<b>Семестр 5</b>					
Раздел 1. Основные положения кинематического и силового анализа и синтеза механизмов. Тема 1.1. Тема 1.2.	1 1	2 2			27
Раздел 2. Оценка и обеспечение прочности и жесткости элементов и механизмов, используемых в изделиях авиационной и космической техники. Тема 2.1. Тема 2.2.	1 1	2 2			28
Раздел 3. Типовые детали и узлы механизмов, используемых в изделиях авиационной и космической техники. Тема 3.1. Тема 3.2.	1 1	2 2			28
Раздел 4. Проектирование типовых механизмов, используемых в изделиях авиационной и космической техники. Тема 4.1. Тема 4.2.	1 1	2 2			28
Выполнение курсовой работы				0	
Итого в семестре:	8	16			111
Итого	8	16	0	0	111

4.2. Содержание разделов и тем лекционных занятий.

Содержание разделов и тем лекционных занятий приведено в таблице 4.

Таблица 4 – Содержание разделов и тем лекционного цикла

Номер раздела	Название и содержание разделов и тем лекционных занятий
Раздел 1.	<u>Основные положения кинематического и силового анализа и синтеза механизмов.</u> Кинематика: задание движения, скорости и ускорения центра тяжести твердого тела. Виды движения твердого тела. Понятие о числе степеней свободы и степени подвижности механизма.

	Структурный, кинематический и силовой анализ и синтез механизмов. Аксиомы статики и основная теорема статики.
Раздел 2.	<u>Оценка и обеспечение прочности и жесткости элементов и механизмов, используемых в изделиях авиационной и космической техники.</u> Основные требования, предъявляемые к конструкциям деталей механизмов. Основные показатели надежности изделий. Основные понятия оценки прочности, жесткости и устойчивости элементов конструкций. Типовые расчетные схемы реальных объектов. Виды деформаций и напряжений. Методы определения деформаций элементов конструкций. Расчеты на прочность и жесткость элементов конструкций при различных видах деформаций. Оценка работоспособности элементов конструкций в общем случае комплексных воздействий внешних силовых факторов.
Раздел 3.	<u>Типовые детали и узлы механизмов, используемых в изделиях авиационной и космической техники.</u> Валы и оси. Общие сведения и классификация. Конструкция валов и осей, расчеты на прочность и жесткость. Выбор материалов. Типовые соединения деталей. Конструкции, особенности применения. Муфты электромеханических и механических приводов. Корпусные детали механизмов. Опоры с трением скольжения и качения. Конструкции подшипниковых узлов. Критерии выбора и расчета. Уплотнительные устройства.
Раздел 4.	<u>Проектирование типовых механизмов, используемых в изделиях авиационной и космической техники.</u> Классификация типовых механизмов. Рекомендации к применению, исходя из требуемых показателей точности и надежности. Особенности проектирования, кинематические, силовые и геометрические параметры. Анализ точности зубчатых передач. Методы повышения точности. Эпициклические (планетарные) и волновые механизмы. Особенности проектирования, кинематические, силовые и геометрические параметры. Фрикционные передачи и передачи с гибкой связью. Основные характеристики. Винтовые и кулачковые механизмы. Обобщенные алгоритмы проектирования механизмов привода. Влияние технологических и конструктивных факторов на собственную вибрацию и резонансные режимы работы механизмов.

#### 4.3. Практические (семинарские) занятия

Темы практических занятий и их трудоемкость приведены в таблице 5.

Таблица 5 – Практические занятия и их трудоемкость

№ п/п	Темы практических занятий	Формы практических занятий	Трудоемкость, (час)	№ раздела дисциплины
Семестр 5				
1	Определение степени подвижности механизма. Разработка кинематической	решение типовых задач	2	1

	схемы механической передачи			
2	Задание движения, скорости и ускорения центра тяжести твердого тела	решение типовых задач	2	1
3	Равновесие твердого тела. Центр тяжести. Аксиомы статики и основная теорема статики	решение типовых задач	2	1
4	Расчеты на прочность и жесткость деталей и узлов механизмов при осевом растяжении (сжатии), сдвиге, кручении и изгибе	решение типовых задач	2	2
5	Оценка работоспособности элементов конструкций в общем случае комплексных воздействий внешних силовых факторов	решение типовых задач	2	2
6	Расчет валов в многоступенчатом редукторе	решение типовых задач	2	3
7	Кинематический и силовой расчет планетарного механизма	решение типовых задач	2	4
8	Расчет точности зубчатого механизма	решение типовых задач	2	4
Всего			16	

#### 4.4. Лабораторные занятия

Темы лабораторных занятий и их трудоемкость приведены в таблице 6.

Таблица 6 – Лабораторные занятия и их трудоемкость

№ п/п	Наименование лабораторных работ	Трудоемкость, (час)	№ раздела дисциплины
Учебным планом не предусмотрено			
Всего			

#### 4.5. Курсовое проектирование/ выполнение курсовой работы

Цель курсовой работы:

Примерные темы заданий на курсовую работу приведены в разделе 10 РПД.

Обязательно указать темы на курсовую работу и выделить для неё время в СРС

#### 4.6. Самостоятельная работа обучающихся

Виды самостоятельной работы и ее трудоемкость приведены в таблице 7.

Таблица 7 – Виды самостоятельной работы и ее трудоемкость



Вид самостоятельной работы	Всего, час	Семестр 5, час
1	2	3
Изучение теоретического материала дисциплины (ТО)	85	85
Курсовое проектирование (КП, КР)		
Расчетно-графические задания (РГЗ)		
Выполнение реферата (Р)		
Подготовка к текущему контролю успеваемости (ТКУ)	26	26
Домашнее задание (ДЗ)		
Контрольные работы заочников (КРЗ)		
Подготовка к промежуточной аттестации (ПА)		
Всего:	111	111

#### 5. Перечень учебно-методического обеспечения

для самостоятельной работы обучающихся по дисциплине (модулю)

Учебно-методические материалы для самостоятельной работы обучающихся указаны в п.п. 7-11.

#### 6. Перечень печатных и электронных учебных изданий

Перечень печатных и электронных учебных изданий приведен в таблице 8.

Таблица 8– Перечень печатных и электронных учебных изданий

Шифр/ URL адрес	Библиографическая ссылка	Количество экземпляров в библиотеке (кроме электронных экземпляров)
	Биргер, И.А. Сопротивление материалов: учебное пособие /И.А. Биргер, Р.Р. Мавлютов. - М.: Ленанд, 2015. - 560 с. - Режим доступа: <a href="http://znanium.com/catalog.php?item=booksearch&amp;code">http://znanium.com/catalog.php?item=booksearch&amp;code</a> Загл. с экрана	
	Степин, П. А. Сопротивление материалов: учебник/ П. А. Степин. – 13-е изд., стер. – СПб.: Лань, 2014 - 320 с.- Режим доступа: <a href="https://e.lanbook.com/book/3179#authors">https://e.lanbook.com/book/3179#authors</a> Загл. с экрана	
	Теория механизмов и машин (проектирование и моделирование механизмов и их элементов): Учебник. /Соболев А.Н., Некрасов А.Я., Схиртладзе А.Г. - М.:КУРС, НИЦ ИНФРА-М, 2016. - 256 с.- Режим доступа: <a href="http://znanium.com/catalog.php?item=booksearch&amp;code">http://znanium.com/catalog.php?item=booksearch&amp;code</a> Загл. с экрана	

#### 7. Перечень электронных образовательных ресурсов

информационно-телекоммуникационной сети «Интернет»

Перечень электронных образовательных ресурсов информационно-телекоммуникационной сети «Интернет», необходимых для освоения дисциплины приведен в таблице 9.

Таблица 9 – Перечень электронных образовательных ресурсов информационно-телекоммуникационной сети «Интернет»

URL адрес	Наименование
<a href="http://www.emomi.com/">http://www.emomi.com/</a>	Образование механика
<a href="https://e.lanbook.com/">https://e.lanbook.com/</a>	ЭБС «Лань»

## 8. Перечень информационных технологий

8.1. Перечень программного обеспечения, используемого при осуществлении образовательного процесса по дисциплине.

Перечень используемого программного обеспечения представлен в таблице 10.

Таблица 10– Перечень программного обеспечения

№ п/п	Наименование
	Не предусмотрено

8.2. Перечень информационно-справочных систем, используемых при осуществлении образовательного процесса по дисциплине

Перечень используемых информационно-справочных систем представлен в таблице 11.

Таблица 11– Перечень информационно-справочных систем

№ п/п	Наименование
	Не предусмотрено

## 9. Материально-техническая база

Состав материально-технической базы, необходимой для осуществления образовательного процесса по дисциплине, представлен в таблице 12.

Таблица 12 – Состав материально-технической базы

№ п/п	Наименование составной части материально-технической базы	Номер аудитории (при необходимости)
1	Лекционная аудитория – укомплектована специализированной (учебной) мебелью, набором демонстрационного оборудования и учебно-наглядными пособиями, обеспечивающими тематические иллюстрации, соответствующие рабочим учебным программам дисциплин (модулей).	Фонд лекционных аудиторий ГУАП
2	Аудитории для проведения практических занятий – укомплектованы специализированной (учебной) мебелью, набором демонстрационного оборудования и учебно-наглядными пособиями, обеспечивающими тематические иллюстрации, соответствующие рабочим учебным программам дисциплин (модулей).	Фонд аудиторий ГУАП
3	Помещение для самостоятельной работы – укомплектовано специализированной (учебной) мебелью, оснащено компьютерной техникой с возможностью подключения к сети "Интернет" и обеспечено доступом в электронную информационно-образовательную среду организации.	Фонд аудиторий ГУАП
4	Учебная аудитория для текущего контроля и промежуточной аттестации – укомплектована специализированной (учебной) мебелью, техническими средствами обучения, служащими	Фонд аудиторий ГУАП (ул. Гастелло 15,

для представления учебной информации.	ауд. 11-05, 12-06)
---------------------------------------	--------------------

10. Оценочные средства для проведения промежуточной аттестации

10.1. Состав оценочных средств для проведения промежуточной аттестации обучающихся по дисциплине приведен в таблице 13.

Таблица 13 – Состав оценочных средств для проведения промежуточной аттестации

Вид промежуточной аттестации	Перечень оценочных средств
Экзамен	Список вопросов к экзамену; Экзаменационные билеты; Задачи; Тесты.
Выполнение курсовой работы	Экспертная оценка на основе требований к содержанию курсовой работы по дисциплине.

10.2. В качестве критериев оценки уровня сформированности (освоения) компетенций обучающимися применяется 5-балльная шкала оценки сформированности компетенций, которая приведена в таблице 14. В течение семестра может использоваться 100-балльная шкала модульно-рейтинговой системы Университета, правила использования которой, установлены соответствующим локальным нормативным актом ГУАП.

Таблица 14 – Критерии оценки уровня сформированности компетенций

Оценка компетенции	Характеристика сформированных компетенций
5-балльная шкала	
«отлично» «зачтено»	<ul style="list-style-type: none"> <li>– обучающийся глубоко и всесторонне усвоил программный материал;</li> <li>– уверенно, логично, последовательно и грамотно его излагает;</li> <li>– опираясь на знания основной и дополнительной литературы, тесно привязывает усвоенные научные положения с практической деятельностью направления;</li> <li>– умело обосновывает и аргументирует выдвигаемые им идеи;</li> <li>– делает выводы и обобщения;</li> <li>– свободно владеет системой специализированных понятий.</li> </ul>
«хорошо» «зачтено»	<ul style="list-style-type: none"> <li>– обучающийся твердо усвоил программный материал, грамотно и по существу излагает его, опираясь на знания основной литературы;</li> <li>– не допускает существенных неточностей;</li> <li>– увязывает усвоенные знания с практической деятельностью направления;</li> <li>– аргументирует научные положения;</li> <li>– делает выводы и обобщения;</li> <li>– владеет системой специализированных понятий.</li> </ul>
«удовлетворительно» «зачтено»	<ul style="list-style-type: none"> <li>– обучающийся усвоил только основной программный материал, по существу излагает его, опираясь на знания только основной литературы;</li> <li>– допускает несущественные ошибки и неточности;</li> <li>– испытывает затруднения в практическом применении знаний направления;</li> <li>– слабо аргументирует научные положения;</li> <li>– затрудняется в формулировании выводов и обобщений;</li> <li>– частично владеет системой специализированных понятий.</li> </ul>

Оценка компетенции	Характеристика сформированных компетенций
5-балльная шкала	
«неудовлетворительно» «не зачтено»	<ul style="list-style-type: none"> <li>– обучающийся не усвоил значительной части программного материала;</li> <li>– допускает существенные ошибки и неточности при рассмотрении проблем в конкретном направлении;</li> <li>– испытывает трудности в практическом применении знаний;</li> <li>– не может аргументировать научные положения;</li> <li>– не формулирует выводов и обобщений.</li> </ul>

### 10.3. Типовые контрольные задания или иные материалы.

Вопросы (задачи) для экзамена представлены в таблице 15.

Таблица 15 – Вопросы (задачи) для экзамена

№ п/п	Перечень вопросов (задач) для экзамена
1	Задание движения, скорости и ускорения центра тяжести твердого тела. Виды движения твердого тела (поступательное, вращение вокруг неподвижной оси, плоское, сферическое).
2	Понятие о числе степеней свободы и степени подвижности механизма. Формулы Чебышева и Малышева.
3	Структура механизма. Звено. Кинематическая пара. Кинематическая цепь. Структурный анализ механизмов.
4	Кинематический анализ и синтез механизмов.
5	Классификация кинематических пар. Понятие о высших и низших кинематических парах.
6	Понятие о группе Ассура.
7	Аналитический метод кинематического анализа планетарного механизма (метод Виллиса).
8	Основной закон зацепления (теорема Виллиса).
9	Типы кинематических схем зубчатых механизмов.
10	Типы кинематических схем эпициклических механизмов.
11	Силовой анализ механизмов. Понятие о механической мощности и КПД механизма. Выбор двигателя.
12	Расчет мощностей и передаваемых крутящих моментов на валах.
13	Силы, действующие на звенья механизмов. Равновесие твердого тела. Центр тяжести.
14	Силы инерции звеньев механизма.
15	Аксиомы статики и основная теорема статики в приложении к вопросам силового расчета механизмов, расчета на прочность и жесткость деталей и узлов элементов конструкций.
16	Условия эксплуатации механизмов, используемых в изделиях авиационной и космической техники. Основные требования, предъявляемые к конструкциям деталей механизмов.
17	Надежность механизмов. Основные показатели надежности изделий.
18	Типовые расчетные схемы реальных объектов.
19	Силы внешние и внутренние. Метод сечений.
20	Виды деформаций и напряжений. Проверка прочности элементов конструкции при действии статических и динамических нагрузок.
21	Понятие об опасном и допускаемом напряжениях.
22	Методы определения деформаций элементов конструкций.
23	Механические характеристики материалов. Диаграмма растяжения.
24	Виды напряженного состояния. Обобщенный закон Гука.
25	Гипотеза плоских сечений. Границы применимости.
26	Расчеты на прочность и жесткость элементов конструкций при осевом

	растяжении (сжатии). Закон Гука.
27	Температурные и монтажные напряжения.
28	Особенности расчета соединений деталей на сдвиг.
29	Расчеты на прочность сварных и заклепочных соединений.
30	Резьбовые соединения. Особенности расчета.
31	Элементы теории винтовой пары.
32	Расчеты на прочность штифтовых, штыковых, шпоночных, зубчатых (шлицевых) и профильных соединений.
33	Расчет на прочность клеммовых соединений.
34	Особенности работы элементов конструкций в условиях кручения. Расчет на прочность и жесткость элементов конструкций при кручении. Закон Гука.
35	Особенности работы элементов конструкций в условиях изгиба. Расчет на прочность и жесткость элементов конструкций при изгибе. Закон Гука.
36	Типы опор и возникающие в них реакции.
37	Оценка работоспособности элементов конструкций в общем случае комплексных воздействий внешних силовых факторов: а) косо́й изгиб, б) изгиб с кручением.
38	Внецентренное растяжение (сжатие).
39	Ядро сечения.
40	Оценка прочности элементов конструкций при сложном напряженном состоянии.
41	Принцип суперпозиции (принцип независимости действия сил). Границы применимости.
42	Потеря сопротивления усталости. Проверка прочности элементов конструкций по пределу выносливости.
43	Критерии (гипотезы) прочности и пластичности материалов.
44	Контактные напряжения. Формула Герца.
45	Виды разрушения, вызываемые контактными напряжениями. Оценка прочности деталей с первоначальным контактом в точке или по линии.
46	Пластины и оболочки. Особенности расчета.
47	Расчет на прочность модуля зубчатой передачи.
47	Расчет на устойчивость элементов конструкций.
49	Вычисление напряжений при колебаниях конструкции. Влияние резонанса на величину напряжений.
50	Проверка прочности материала при переменных напряжениях. Предел выносливости при симметричном и несимметричном цикле.
51	Напряжения при ударе.

Вопросы (задачи) для зачета / дифф. зачета представлены в таблице 16.

Таблица 16 – Вопросы (задачи) для зачета / дифф. зачета

№ п/п	Перечень вопросов (задач) для зачета / дифф. зачета
	Учебным планом не предусмотрено

Перечень тем для курсового проектирования/выполнения курсовой работы представлены в таблице 17.

Таблица 17 – Перечень тем для курсового проектирования/выполнения курсовой работы

№ п/п	Примерный перечень тем для курсового проектирования/выполнения курсовой работы
1	Силовой механизм. Варианты заданий: 1.1. Усилие на тросе $P=80H$ Диаметр барабана $d=70$ мм

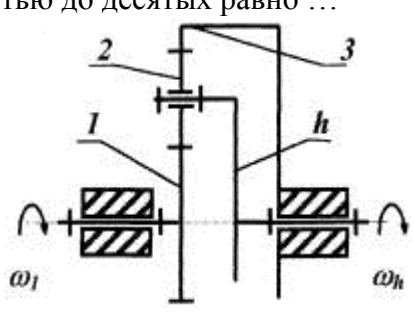
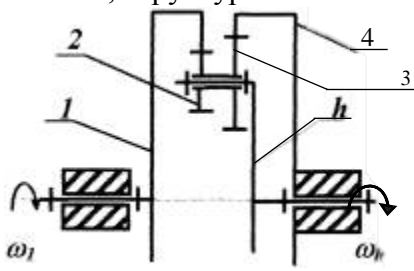
	<p>Число оборотов на выходе <math>n = 20</math> Об/мин  1.2. Усилие на тросе <math>P=60</math>Н  Диаметр барабана <math>d = 50</math> мм  Число оборотов на выходе <math>n = 40</math> Об/мин  1.3. Усилие на тросе <math>P=40</math>Н  Диаметр барабана <math>d = 90</math> мм  Число оборотов на выходе <math>n = 30</math> Об/мин  1.4. Усилие на тросе <math>P=70</math>Н  Диаметр барабана <math>d = 70</math> мм  Число оборотов на выходе <math>n = 50</math> Об/мин  1.5. Усилие на тросе <math>P=80</math>Н  Диаметр барабана <math>d = 40</math> мм  Число оборотов на выходе <math>n = 20</math> Об/мин  1.6. Усилие на тросе <math>P=60</math>Н  Диаметр барабана <math>d = 30</math> мм  Число оборотов на выходе <math>n = 40</math> Об/мин  1.7. Усилие на тросе <math>P=40</math>Н  Диаметр барабана <math>d = 50</math> мм  Число оборотов на выходе <math>n = 20</math> Об/мин  1.8. Усилие на тросе <math>P=70</math>Н  Диаметр барабана <math>d = 60</math> мм  Число оборотов на выходе <math>n = 50</math> Об/мин</p>
2	<p>Корректирующий механизм. Варианты заданий:  2.1. Максимальный момент на выходе <math>M=120</math> Нсм  Число оборотов на выходе <math>n = 20</math> Об/мин  2.2. Максимальный момент на выходе <math>M=60</math> Нсм  Число оборотов на выходе <math>n = 50</math> Об/мин  2.3. Максимальный момент на выходе <math>M=100</math> Нсм  Число оборотов на выходе <math>n = 40</math> Об/мин  2.4. Максимальный момент на выходе <math>M=80</math> Нсм  Число оборотов на выходе <math>n = 80</math> Об/мин  2.5. Максимальный момент на выходе <math>M=100</math> Нсм  Число оборотов на выходе <math>n = 60</math> Об/мин  2.6. Максимальный момент на выходе <math>M=80</math> Нсм  Число оборотов на выходе <math>n = 40</math> Об/мин  2.7. Максимальный момент на выходе <math>M=120</math> Нсм  Число оборотов на выходе <math>n = 60</math> Об/мин  2.8. Максимальный момент на выходе <math>M=100</math> Нсм  Число оборотов на выходе <math>n = 80</math> Об/мин</p>
3	<p>3.1. Скорость перемещения винта <math>V = 5</math> мм/с  Усилие на выходе <math>P = 200</math> Н  Число оборотов на выходе <math>n = 20</math> Об/мин  3.2. Скорость перемещения винта <math>V = 5</math> мм/с  Усилие на выходе <math>P = 150</math> Н  Число оборотов на выходе <math>n = 50</math> Об/мин  3.3. Скорость перемещения винта <math>V = 5</math> мм/с  Усилие на выходе <math>P = 100</math> Н  Число оборотов на выходе <math>n = 40</math> Об/мин  3.4. Скорость перемещения винта <math>V = 5</math> мм/с  Усилие на выходе <math>P = 250</math> Н  Число оборотов на выходе <math>n = 80</math> Об/мин  3.5. Скорость перемещения винта <math>V = 5</math> мм/с  Усилие на выходе <math>P = 120</math> Н  Число оборотов на выходе <math>n = 60</math> Об/мин</p>

	<p>3.6. Скорость перемещения винта <math>V = 5</math> мм/с Усилие на выходе <math>P = 180</math> Н Число оборотов на выходе <math>n = 40</math> Об/мин</p> <p>3.7. Скорость перемещения винта <math>V = 5</math> мм/с Усилие на выходе <math>P = 150</math> Н Число оборотов на выходе <math>n = 60</math> Об/мин</p> <p>3.8. Скорость перемещения винта <math>V = 5</math> мм/с Усилие на выходе <math>P = 100</math> Н Число оборотов на выходе <math>n = 80</math> Об/мин</p>
4	<p>Планетарный редуктор. Варианты заданий:</p> <p>4.1. Максимальный момент на выходе <math>M=100</math> Нсм Число оборотов на выходе <math>n=80</math> Об/мин</p> <p>4.2. Максимальный момент на выходе <math>M=110</math> Нсм Число оборотов на выходе <math>n=80</math> Об/мин</p> <p>4.3. Максимальный момент на выходе <math>M=110</math> Нсм Число оборотов на выходе <math>n=85</math> Об/мин</p> <p>4.4. Максимальный момент на выходе <math>M=110</math> Нсм Число оборотов на выходе <math>n=90</math> Об/мин</p> <p>4.5. Максимальный момент на выходе <math>M=120</math> Нсм Число оборотов на выходе <math>n=85</math> Об/мин</p> <p>4.6. Максимальный момент на выходе <math>M=130</math> Нсм Число оборотов на выходе <math>n=100</math> Об/мин</p> <p>4.7. Максимальный момент на выходе <math>M=125</math> Нсм Число оборотов на выходе <math>n=85</math> Об/мин</p> <p>4.8. Максимальный момент на выходе <math>M=125</math> Нсм Число оборотов на выходе <math>n=100</math> Об/мин</p>

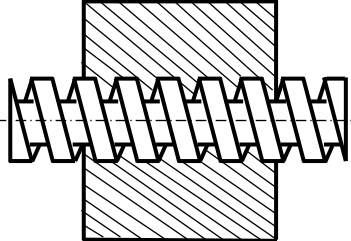
Вопросы для проведения промежуточной аттестации в виде тестирования представлены в таблице 18.

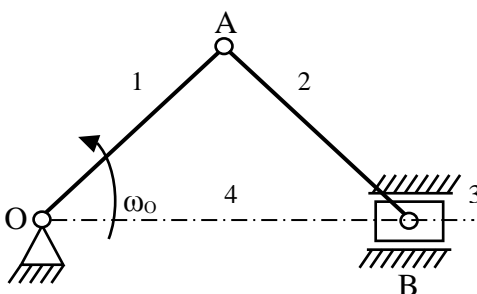
Таблица 18 – Примерный перечень вопросов для тестов

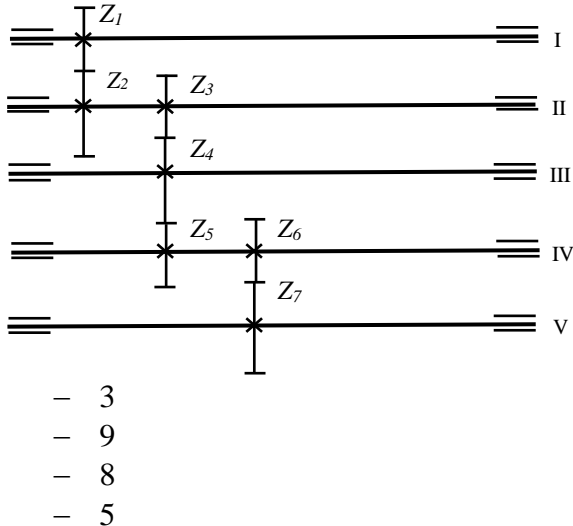
№ п/п	Примерный перечень вопросов для тестов
1	<p>Один из лучших материалов для вкладышей подшипников скольжения баббит является...</p> <ul style="list-style-type: none"> <li>– древесиной</li> <li>– сплавом на основе чугуна и стали</li> <li>– сплавом на основе свинца и олова</li> <li>– порошком</li> </ul>
2	<p>Сила прижатия колес фрикционной передачи увеличена в два раза. Напряжения в контакте изменятся так ...</p> <ul style="list-style-type: none"> <li>– увеличатся в 1,44 раза</li> <li>– увеличатся в 2 раза</li> <li>– не изменятся</li> <li>– уменьшатся в 1,44 раза</li> </ul>
3	<p>Оси валов должны пересекаться под прямым углом, а скорости вращения должны соотноситься как 2:1. Следует использовать передачу ...</p> <ul style="list-style-type: none"> <li>– планетарную</li> <li>– коническую</li> <li>– волновую</li> <li>– червячную</li> </ul>
4	<p>В червячном редукторе передача с однозаходным червяком заменена на передачу с двухзаходным червяком, скорость вращения вала колеса, при неизменной</p>

	<p>скорости вращения червяка, ...</p> <ul style="list-style-type: none"> <li>- уменьшится вдвое</li> <li>- увеличится вдвое</li> <li>- увеличится втрое</li> <li>- не изменится</li> </ul>
5	<p>Если <math>z_1=20</math>, <math>z_2=10</math>, <math>z_3=40</math>, то передаточное отношение планетарного редуктора с точностью до десятых равно ...</p>  <ul style="list-style-type: none"> <li>- 3</li> <li>- 1</li> <li>- 5</li> <li>- 4</li> <li>- 2</li> </ul>
6	<p>Круглая гладкая ось постоянного поперечного сечения диаметром <math>d=100\text{мм}</math> нагружена изгибающим моментом <math>M=10000\text{ Нм}</math>. Если предел текучести материала <math>\sigma_T=200\text{МПа}</math>, то ее запас прочности равен ...</p> <ul style="list-style-type: none"> <li>- 3</li> <li>- 4</li> <li>- 1,5</li> <li>- 2</li> </ul>
7	<p>Предел текучести материала сварной конструкции <math>\sigma_T=210\text{МПа}</math>. Если сварка автоматическая, то допускаемое напряжение для расчета на растяжение рекомендуется назначить ...</p> <ul style="list-style-type: none"> <li>- 140 МПа</li> <li>- 210 МПа</li> <li>- 280 МПа</li> <li>- 70 МПа</li> </ul>
8	<p>Концентраторы напряжений при работе вала ...</p> <ul style="list-style-type: none"> <li>- снижают вибрации</li> <li>- повышают статическую прочность</li> <li>- снижают сопротивление усталости</li> <li>- повышают допускаемые напряжения</li> </ul>
9	<p>Механизм, структурная схема которого показана на рисунке, относится к</p>  <ul style="list-style-type: none"> <li>- стержневым</li> <li>- планетарным</li> </ul>



	<ul style="list-style-type: none"> <li>- винтовым</li> <li>- волновым</li> </ul>
10	<p>Подшипник скольжения, в котором подъемная сила в масляном слое возникает в результате относительного движения рабочих поверхностей, является ...</p> <ul style="list-style-type: none"> <li>- гидродинамическим</li> <li>- гидростатическим</li> <li>- полужидкостным</li> <li>- полустатическим</li> </ul>
11	<p>Межосевое расстояние <math>a</math> для прямозубых колес с внешним зацеплением без смещения исходного контура с числами зубьев <math>z</math> и модулем <math>m</math> равно ...</p> <ul style="list-style-type: none"> <li>- <math>a = m(z_1 + z_2)</math></li> <li>- <math>a = 2m(z_1 + z_2)</math></li> <li>- <math>a = \frac{m(z_1 - z_2)}{2}</math></li> <li>- <math>a = \frac{m(z_1 + z_2)}{2}</math></li> </ul>
12	<p>Передачами, к основным характеристикам которых относятся высокая нагрузочная способность, большая долговечность и надежность, высокий КПД, постоянство передаточного отношения являются ...</p> <ul style="list-style-type: none"> <li>- червячные</li> <li>- зубчатые</li> <li>- цепные</li> <li>- фрикционные</li> </ul>
13	<p>Расчетная механическая мощность двигателя редуктора, работающего в режиме <math>\omega_{\text{вых}} = \text{const}</math> без реверса, <math>N_{\text{д}}^{\text{расч}} = 11 \text{ Вт}</math>. По какой механической мощности следует выбирать из каталога двигатель</p> <ul style="list-style-type: none"> <li>- 9 Вт</li> <li>- 11 Вт</li> <li>- 13,8 Вт</li> <li>- 16 Вт</li> </ul>
14	<p>Степень подвижности плоского механизма определяется по формуле Чебышева ...</p> <ul style="list-style-type: none"> <li>- <math>W = 3n - 2P_5 - 1P_4</math></li> <li>- <math>W = 3n - 2P_5 + 1P_4</math></li> <li>- <math>W = 6n - 2P_5 - 1P_4</math></li> <li>- <math>W = 6n + 2P_5 - 1P_4</math></li> </ul>
15	<p>Класс кинематической пары, приведенной на рисунке, равен ...</p> <div style="text-align: center;">  </div> <ul style="list-style-type: none"> <li>- 1</li> <li>- 2</li> <li>- 5</li> <li>- 4</li> <li>- 3</li> </ul>

16	<p>Основным достоинством соединения призматической шпонкой является ...</p> <ul style="list-style-type: none"> <li>- большая жесткость</li> <li>- высокая точность</li> <li>- простота конструкции</li> <li>- большая прочность</li> </ul>
17	<p>Шпонка может передавать большую нагрузку, если детали по цилиндрической поверхности соединены ...</p> <ul style="list-style-type: none"> <li>- с зазором</li> <li>- с натягом</li> <li>- по переходной посадке</li> <li>- с перекосом</li> </ul>
18	<p>Предохранительная муфта, обладающая наибольшей точностью срабатывания при перегрузке и исключающая ее повторение, это муфта ...</p> <ul style="list-style-type: none"> <li>- фрикционная</li> <li>- с разрушающимся элементом</li> <li>- кулачковая</li> <li>- шариковая</li> </ul>
19	<p>Межосевое расстояние червячной передачи при <math>q=10</math>, <math>m=8</math> мм, <math>z_1=1</math>, <math>u=40</math> равно ...</p> <ul style="list-style-type: none"> <li>- 280 мм</li> <li>- 200 мм</li> <li>- 220 мм</li> <li>- 160 мм</li> </ul>
20	<p>Уплотнительные устройства подшипниковых узлов применяются для ...</p> <ul style="list-style-type: none"> <li>- снижения стоимости конструкции</li> <li>- защиты валов от изнашивания</li> <li>- повышения мощности</li> <li>- защиты от загрязнения извне и предотвращения вытекания смазки</li> </ul>
21	<p>Степень подвижности механизма <math>W</math> равна ...</p>  <ul style="list-style-type: none"> <li>- <math>W=2</math></li> <li>- <math>W=0</math></li> <li>- <math>W=1</math></li> <li>- <math>W=3</math></li> </ul>
22	<p>Если <math>Z_1=20</math>, <math>Z_2=30</math>, <math>Z_3=18</math>, <math>Z_4=40</math>, <math>Z_5=36</math>, <math>Z_6=20</math>, <math>Z_7=60</math>, то передаточное отношение редуктора с развернутой кинематической цепью с точностью до десятых равно ...</p>

	 <p style="margin-left: 40px;">     – 3      – 9      – 8      – 5   </p>
23	<p>Модуль косозубой цилиндрической передачи рассчитывается на контактную прочность по формуле ...</p> $m \geq \sqrt[3]{\left(\frac{2380 K_E}{z_k [\tau]_k}\right)^2 \frac{U+1}{\psi} [M_k]_p}$ $m_s \geq \sqrt[3]{\left(\frac{1675}{z_{чк} [\tau]_{чк}}\right)^2 \frac{\cos \gamma}{q} [M_{чк}]_p}$ $m_n \geq \sqrt[3]{\left(\frac{1925 \cos^2 \beta K_E}{z_k [\tau]_k}\right)^2 \frac{U+1}{\psi} [M_k]_p}$ $m_{ср} \geq \sqrt[3]{\left(\frac{2380 K_E}{z_k [\tau]_k}\right)^2 \frac{\sqrt{U^2+1}}{\psi} [M_k]_p}$
24	<p>При частотах вращения, превышающих 100000 об/мин, может быть использована только ...</p> <ul style="list-style-type: none"> <li>– коническая передача</li> <li>– планетарная передача</li> <li>– червячная передача</li> <li>– рядовая цилиндрическая передача</li> </ul>
25	<p>Сварные угловые швы рассчитывают на прочность ...</p> <ul style="list-style-type: none"> <li>– по одному из катетов</li> <li>– по толщине детали</li> <li>– по длине шва</li> <li>– по биссектрисе прямого угла</li> </ul>
26	<p>Предохранительная муфта с разрушающимся элементом при перегрузке срабатывает так ...</p> <ul style="list-style-type: none"> <li>– срезается предохранительный элемент</li> <li>– изгибается предохранительный элемент</li> <li>– разрывается по шпоночной канавке полумуфта</li> <li>– закручивается шпонка</li> </ul>
27	<p>Укажите правильный вид расчетной формулы для предварительного определения диаметра вала <math>d</math>, нагруженного вращающим моментом <math>M</math>, где <math>[\tau]</math> – допускаемое</p>

	<p>напряжение при кручении ...</p> <ul style="list-style-type: none"> <li>- <math>d = \sqrt[3]{\frac{M}{0,2[\tau]}}</math></li> <li>- <math>d = \sqrt{\frac{M}{0,2[\tau]}}</math></li> <li>- <math>d = \sqrt{\frac{M^3}{0,2[\tau]}}</math></li> <li>- <math>d = \sqrt[3]{M(0,1[\tau])}</math></li> </ul>
28	<p>В клепаном соединении двух одинаковых листов толщиной <math>\delta_1 = \delta_2 = 3</math> мм поставлены 4 заклепки диаметром <math>d = 6,5</math> мм. При нагрузке усилием <math>P = 10</math> кН напряжения смятия <math>\sigma_{см}</math> в заклепках будут равны ...</p> <ul style="list-style-type: none"> <li>- <math>\sigma_{см} = 198</math> МПа</li> <li>- <math>\sigma_{см} = 128</math> МПа</li> <li>- <math>\sigma_{см} = 171</math> МПа</li> <li>- <math>\sigma_{см} = 142</math> МПа</li> </ul>
29	<p>Условие соосности соосной цилиндрической передачи при равенстве модулей всех ступеней рассчитывается по выражению ...</p> <ul style="list-style-type: none"> <li>- <math>(z_1 + z_2) = (z_3 + z_4) = \dots = (z_{n-1} + z_n)</math></li> <li>- <math>(z_1 - z_2) = (z_3 - z_4) = \dots = (z_{n-1} - z_n)</math></li> <li>- <math>(z_1 + z_2) - (z_3 + z_4) - \dots - (z_{n-1} + z_n) = 0</math></li> <li>- <math>(2z_1 + z_2) = (2z_3 + z_4) = \dots = (2z_{n-1} + z_n)</math></li> </ul>
30	<p>Для закрепления внутренних колец подшипников на валах применяют ...</p> <ul style="list-style-type: none"> <li>- сварку</li> <li>- клинья</li> <li>- заплечик вала, стопорные кольца</li> <li>- шпоночные канавки, шайбы пружинные</li> </ul>
31	<p>Передаточное отношение механизма, преобразующего вращательное движение в поступательное, рассчитывается по формуле ...</p> <ul style="list-style-type: none"> <li>- <math>U = \frac{\omega_{вх}}{\omega_{вых}}</math></li> <li>- <math>U = \frac{\omega_{вх}}{V_{вых}}</math></li> <li>- <math>U = \frac{V_{вх}}{\omega_{вых}}</math></li> <li>- <math>U = \frac{V_{вх}}{V_{вых}}</math></li> </ul>
32	<p>Условие проверки подшипника качения по статической грузоподъемности <math>C_0</math>, если его эквивалентная статическая нагрузка <math>P_0</math>, записывается так ...</p> <ul style="list-style-type: none"> <li>- <math>0,5 \cdot P_0 = C_0</math></li> <li>- <math>P_0 \leq C_0</math></li> <li>- <math>P_0 \geq C_0</math></li> <li>- <math>P_0 \geq 0,5 \cdot C_0</math></li> </ul>
33	<p>Механическая передача, обладающая возможностью передачи вращения в</p>

	герметизированное пространство, это ... <ul style="list-style-type: none"> <li>– червячная</li> <li>– планетарная</li> <li>– волновая</li> <li>– фрикционная</li> </ul>
34	Критерием работоспособности соединения стандартной призматической шпонкой является прочность по напряжениям ... <ul style="list-style-type: none"> <li>– смятия</li> <li>– растяжения</li> <li>– изгиба</li> <li>– среза</li> </ul>
35	По сравнению с другими зубчатыми передачами волновые имеют ... <ul style="list-style-type: none"> <li>– больший КПД, массу и размеры</li> <li>– меньший нагрев, меньшие передаточные числа</li> <li>– меньшие массу, габариты и шум, более высокую кинематическую точность</li> </ul>
36	Наивысшим КПД обладает передача <ul style="list-style-type: none"> <li>– цепная</li> <li>– ременная</li> <li>– червячная</li> <li>– зубчатая</li> </ul>
37	Степень подвижности пространственного механизма определяется по формуле Малышева ... <ul style="list-style-type: none"> <li>– <math>W=3n-2P_5-1P_4</math></li> <li>– <math>W=6n-2P_5-1P_4</math></li> <li>– <math>W=6n+2P_5-1P_4</math></li> <li>– <math>W=6n-5P_5-4P_4-3P_3-2P_2-1P_1</math></li> </ul>
38	Крутящие (вращающие) моменты на выходе $M_{\text{вых}}$ и входе $M_{\text{вх}}$ зубчатой передачи связаны соотношением ... <ul style="list-style-type: none"> <li>– <math>M_{\text{вых}}=M_{\text{вх}} \cdot \eta_{\Sigma} \cdot U_{\Sigma}</math></li> <li>– <math>M_{\text{вх}}=M_{\text{вых}} \cdot \eta_{\Sigma} \cdot U_{\Sigma}</math></li> <li>– <math>M_{\text{вых}}=M_{\text{вх}} \cdot \eta_{\Sigma}</math></li> <li>– <math>M_{\text{вых}}=M_{\text{вх}} \cdot U_{\Sigma}</math></li> </ul>
39	Материал БрА9Ж4 рекомендуется использовать для ... <ul style="list-style-type: none"> <li>– венца червячного колеса</li> <li>– червяка</li> <li>– ступицы червячного колеса</li> <li>– изготовления червячного колеса целиком</li> </ul>
40	Для соединения несоосных валов используют муфты ... <ul style="list-style-type: none"> <li>– сцепные</li> <li>– не компенсирующие или «глухие»</li> <li>– предохранительные</li> <li>– компенсирующие</li> </ul>

Перечень тем контрольных работ по дисциплине обучающихся заочной формы обучения, представлены в таблице 19.

Таблица 19 – Перечень контрольных работ

№ п/п	Перечень контрольных работ
-------	----------------------------

10.4. Методические материалы, определяющие процедуры оценивания индикаторов, характеризующих этапы формирования компетенций, содержатся в локальных нормативных актах ГУАП, регламентирующих порядок и процедуру проведения текущего контроля успеваемости и промежуточной аттестации обучающихся ГУАП.

#### 11. Методические указания для обучающихся по освоению дисциплины

Целью дисциплины является получение студентами необходимых знаний в области расчета, проектирования и конструирования механических и электромеханических элементов и устройств, используемых в системах ориентации, стабилизации и навигации, привитие студентам умений и навыков инженерных расчетов, создание поддерживающей образовательной среды преподавания, нацеленной на предоставление студентам возможности развить и продемонстрировать полученные навыки применительно к анализу, расчету, проектированию и конструированию типовых систем, приборов, деталей и узлов.

##### 11.1. Методические указания для обучающихся по освоению лекционного материала.

Основное назначение лекционного материала – логически стройное, системное, глубокое и ясное изложение учебного материала. Назначение современной лекции в рамках дисциплины не в том, чтобы получить всю информацию по теме, а в освоении фундаментальных проблем дисциплины, методов научного познания, новейших достижений научной мысли. В учебном процессе лекция выполняет методологическую, организационную и информационную функции. Лекция раскрывает понятийный аппарат конкретной области знания, её проблемы, дает цельное представление о дисциплине, показывает взаимосвязь с другими дисциплинами.

##### Планируемые результаты при освоении обучающимися лекционного материала:

- получение современных, целостных, взаимосвязанных знаний, уровень которых определяется целевой установкой к каждой конкретной теме;
- получение опыта творческой работы совместно с преподавателем;
- развитие профессионально-деловых качеств, любви к предмету и самостоятельного творческого мышления.
- появление необходимого интереса, необходимого для самостоятельной работы;
- получение знаний о современном уровне развития науки и техники и о прогнозе их развития на ближайшие годы;
- научиться методически обрабатывать материал (выделять главные мысли и положения, приходить к конкретным выводам, повторять их в различных формулировках);
- получение точного понимания всех необходимых терминов и понятий.

Лекционный материал может сопровождаться демонстрацией слайдов и использованием раздаточного материала при проведении коротких дискуссий об особенностях применения отдельных тематик по дисциплине.

##### Структура предоставления лекционного материала:

соответствует темам лекций п. 4.2

##### 11.2. Методические указания для обучающихся по прохождению практических занятий

Практическое занятие является одной из основных форм организации учебного процесса, заключающаяся в выполнении обучающимися под руководством преподавателя комплекса учебных заданий с целью усвоения научно-теоретических основ учебной дисциплины, приобретения умений и навыков, опыта творческой деятельности.

Целью практического занятия для обучающегося является привитие обучающимся умений и навыков практической деятельности по изучаемой дисциплине.

Планируемые результаты при освоении обучающимися практических занятий:

- закрепление, углубление, расширение и детализация знаний при решении конкретных задач;
- развитие познавательных способностей, самостоятельности мышления, творческой активности;
- овладение новыми методами и методиками изучения конкретной учебной дисциплины;
- выработка способности логического осмысления полученных знаний для выполнения заданий;
- обеспечение рационального сочетания коллективной и индивидуальной форм обучения.

#### Требования к проведению практических занятий

Практические занятия по дисциплине «Прикладная механика» проводятся в аудитории общего назначения.

Цель практических занятий – обобщение и систематизация знаний, полученных обучающимися в ходе изучения дисциплины «Прикладная механика».

Практические занятия проводятся в не интерактивной форме.

Практические занятия включают в себя

- изучение основных понятий и законов механики в приложении к вопросам оптимального построения структурных и кинематических схем механизмов, расчета на прочность и жесткость деталей и узлов механизмов, оптимизации конструктивных параметров и проектирования механизмов;
- решение студентами типовых задач по расчету на прочность и жесткость деталей и узлов механизмов, кинематическому и силовому исследованию механизмов; расчету геометрических параметров типовых узлов механизмов;
- ответы преподавателем на вопросы студентов (с возможным дальнейшим обсуждением), возникающие при выполнении обучающимися практических заданий, а также самостоятельного изучения теоретического материала.

На практических занятиях осуществляется текущий контроль результатов изучения дисциплины «Прикладная механика».

Учебно-методическая литература:

1. 539 О-60 Опалихина, О.В. Расчеты на прочность и жесткость элементов конструкций/ О. В. Опалихина; С.-Петербург. гос. ун-т аэрокосм. приборостроения. - СПб.: Изд-во ГУАП, 2016. - 98 с. Имеются экземпляры в отделах: фонд учебного корпуса Гастелло (21), студ. отдел (БМ) (3).

2. 621.8 О-60 Опалихина, О.В. Расчет и проектирование механических устройств и их элементов/О. В. Опалихина; С.-Петербург. гос. ун-т аэрокосм. приборостроения. - СПб.: Изд-во ГУАП, 2018. – 86 с. Имеются экземпляры в отделах: фонд учебного корпуса Гастелло (7).

11.3. Методические указания для обучающихся по прохождению курсового проектирования/выполнения курсовой работы

Курсовой проект/ работа проводится с целью формирования у обучающихся опыта комплексного решения конкретных задач профессиональной деятельности.

Курсовая работа позволяет обучающемуся:

- систематизировать и закрепить полученные теоретические знания и практические умения по профессиональным учебным дисциплинам и модулям в соответствии с требованиями к уровню подготовки, установленными программой учебной дисциплины, программой подготовки специалиста соответствующего уровня, квалификации;
- применить полученные знания, умения и практический опыт при решении комплексных задач, в соответствии с основными видами профессиональной деятельности по направлению/ специальности/ программе;
- углубить теоретические знания в соответствии с заданной темой;
- сформировать умения применять теоретические знания при решении нестандартных задач;
- приобрести опыт аналитической, расчётной, конструкторской работы и сформировать соответствующие умения;
- сформировать умения работы со специальной литературой, справочной, нормативной и правовой документацией и иными информационными источниками;
- сформировать умения формулировать логически обоснованные выводы, предложения и рекомендации по результатам выполнения работы;
- развить профессиональную письменную и устную речь обучающегося;
- развить системное мышление, творческую инициативу, самостоятельность, организованность и ответственность за принимаемые решения;
- сформировать навыки планомерной регулярной работы над решением поставленных задач.

#### Структура пояснительной записки курсовой работы

Цель курсовой работы по дисциплине «Прикладная механика»: расчет кинематических и силовых параметров механизма, состоящего из двигателя и редуктора. В качестве редуктора предлагаются зубчатые передачи (цилиндрические прямозубые и косозубые, конические и червячные), планетарные и волновые передачи. Темой курсовой работы также может быть расчет механизмов преобразования движения (винтовых).

Курсовая работа содержит расчетную часть. Расчетная часть оформляется в виде пояснительной записки и включает в себя следующие разделы:

1. Выбор двигателя.
2. Кинематический расчет редуктора.
3. Расчет моментов и усилий.
4. Расчет модуля и размеров зубчатых колес.
5. Расчет валов.
6. Расчет и выбор подшипников.
7. Расчет точности передачи.
8. Расчет элементов крепления.
9. Разработка конструкции и последовательности сборки и разборки механизма.

#### Требования к оформлению пояснительной записки курсовой работы

Все расчеты выполняются в соответствии с требованиями ЕСКД.

Пояснительная записка к курсовой работе оформляется в соответствии со следующими ГОСТ:

1. ГОСТ 7.32-2017 «Отчет о научно-исследовательской работе. Структура и правила оформления».
2. ГОСТ 2.105-2019 «ЕСКД. Общие требования к текстовым документам».
3. ГОСТ 7.1-2003 «Библиографическое описание документа. Общие требования и правила составления».

ГОСТы можно найти в Интернете на сайте ГУАП

<http://guap.ru/guap/standart/>



Учебно-методическая литература:

1. 621.8 Р 24 Расчет и проектирование механизмов приборов: методические указания к выполнению курсового проекта /А.И. Скалон, И.Н. Лукьяненко и др.; С.-Петербург. гос. ун-т аэрокосм. приборостроения. – СПб.: Изд-во ГУАП, 2016. – 78 с. Имеются экземпляры в отделах: фонд учебного корпуса Гастелло (27), студ. отдел (БМ) (5).

2. 621.83 Р 24 Расчет и проектирование волновых и планетарных редукторов: методические указания к выполнению курсовой работы/ А.И. Скалон, И.Н. Лукьяненко и др.; С.-Петербург. гос. ун-т аэрокосм. приборостроения. – СПб.: Изд-во ГУАП, 2016. – 54 с. Имеются экземпляры в отделах: фонд учебного корпуса Гастелло (27), студ. отдел (БМ) (3).

3. 539 О-60 Опалихина, О.В. Расчеты на прочность и жесткость элементов конструкций/ О. В. Опалихина ; С.-Петербург. гос. ун-т аэрокосм. приборостроения. - СПб. : Изд-во ГУАП, 2016. - 98 с. Имеются экземпляры в отделах: фонд учебного корпуса Гастелло (21), студ. отдел (БМ) (3).

4. 621.8 О-60 Опалихина, О.В. Расчет и проектирование механических устройств и их элементов/О. В. Опалихина; С.-Петербург. гос. ун-т аэрокосм. приборостроения. - СПб.: Изд-во ГУАП, 2018. – 86 с. Имеются экземпляры в отделах: фонд учебного корпуса Гастелло (7)..

11.4. Методические указания для обучающихся по прохождению самостоятельной работы

В ходе выполнения самостоятельной работы, обучающийся выполняет работу по заданию и при методическом руководстве преподавателя, но без его непосредственного участия.

В процессе выполнения самостоятельной работы, у обучающегося формируется целесообразное планирование рабочего времени, которое позволяет им развивать умения и навыки в усвоении и систематизации приобретаемых знаний, обеспечивает высокий уровень успеваемости в период обучения, помогает получить навыки повышения профессионального уровня.

Методическими материалами, направляющими самостоятельную работу обучающихся являются:

- учебные пособия;
- методические указания.

В ходе выполнения самостоятельной работы обучающийся изучает теоретический материал дисциплины, решает типовые задачи и задания курсовой работы, размещенные в ИСО ГУАП: <http://pro.guap.ru/>, <https://lms.guap.ru/>.

11.5. Методические указания для обучающихся по прохождению текущего контроля успеваемости.

Текущий контроль успеваемости предусматривает контроль качества знаний обучающихся, осуществляемого в течение семестра с целью оценивания хода освоения дисциплины.

Текущий контроль успеваемости обучающихся проводится в соответствии с СТО ГУАП СМК 3.76 «Положение о текущем контроле успеваемости и промежуточной аттестации студентов и аспирантов ГУАП, обучающихся по образовательным программам высшего образования».

По дисциплине «Прикладная механика» предусматриваются следующие возможные методы текущего контроля успеваемости обучающихся:

- устный опрос на занятиях;
- защита курсовых работ;
- тестирование.

11.6. Методические указания для обучающихся по прохождению промежуточной аттестации.

Промежуточная аттестация обучающихся предусматривает оценивание промежуточных и окончательных результатов обучения по дисциплине. В соответствии с СТО ГУАП СМК 3.76 «Положение о текущем контроле успеваемости и промежуточной аттестации студентов и аспирантов ГУАП, обучающихся по образовательным программам высшего образования» она включает в себя:

– экзамен – форма оценки знаний, полученных обучающимся в процессе изучения всей дисциплины или ее части, навыков самостоятельной работы, способности применять их для решения практических задач. Экзамен, как правило, проводится в период экзаменационной сессии и завершается аттестационной оценкой «отлично», «хорошо», «удовлетворительно», «неудовлетворительно».

Вариантом промежуточной аттестации наряду с устным экзаменом по прикладной механике может быть письменное тестирование.

Лист внесения изменений в рабочую программу дисциплины

Дата внесения изменений и дополнений. Подпись внесшего изменения	Содержание изменений и дополнений	Дата и № протокола заседания кафедры	Подпись зав. кафедрой