

МИНИСТЕРСТВО НАУКИ И ВЫСШЕГО ОБРАЗОВАНИЯ РОССИЙСКОЙ ФЕДЕРАЦИИ

Федеральное государственное автономное образовательное учреждение высшего  
образования

«САНКТ-ПЕТЕРБУРГСКИЙ ГОСУДАРСТВЕННЫЙ УНИВЕРСИТЕТ  
АЭРОКОСМИЧЕСКОГО ПРИБОРОСТРОЕНИЯ»

---

Кафедра №31

«УТВЕРЖДАЮ»

Руководитель направления

д.т.н., проф.

(должность, уч. степень, звание)



Е.Г. Семенова

(подпись)

08.06.2020г

РАБОЧАЯ ПРОГРАММА ДИСЦИПЛИНЫ

«Электротехника и электроника»

(Название дисциплины)

Код направления	27.03.02
Наименование направления/ специальности	Управление качеством
Наименование направленности	Управление качеством в производственно- технологических системах
Форма обучения	заочная

Санкт-Петербург 2020 г.

## Лист согласования рабочей программы дисциплины

Программу составил(а)

Доцент, к.т.н., доцент

должность, уч. степень, звание



подпись, дата

В.А.Голубков

инициалы, фамилия

Программа одобрена на заседании кафедры № 31

08.06.2020 г, протокол № 8

Заведующий кафедрой № 31

д.т.н.,проф.

должность, уч. степень, звание



подпись, дата

В.Ф. Шишлаков

инициалы, фамилия

Ответственный за ОП 27.03.02(01)

проф.,д.т.н.,доц.

должность, уч. степень, звание



подпись, дата

Е.А. Фролова

инициалы, фамилия

Заместитель директора института (декана факультета) № ФПТИ по методической работе

Доц.,к.т.н.,доц.

должность, уч. степень, звание



подпись, дата

В.А. Голубков

инициалы, фамилия

## Аннотация

Дисциплина «Электротехника и электроника» входит в вариативную часть образовательной программы подготовки обучающихся по направлению 27.03.02 «Управление качеством» направленность «Управление качеством в производственно-технологических системах». Дисциплина реализуется кафедрой №31.

Дисциплина нацелена на формирование у выпускника

профессиональных компетенций:

ПК-19 «способность применять знание задач своей профессиональной деятельности, их характеристики (модели), характеристики методов, средств, технологий, алгоритмов для решения этих задач».

Содержание дисциплины охватывает круг вопросов, связанных с:

- законами теории электрических цепей;
- расчетом и анализом параметров электрических цепей постоянного и переменного токов в установившихся режимах работы линейных схем замещения;
- проведением экспериментальных испытаний электрических цепей, электротехнических устройств с анализом результатов испытаний.

Преподавание дисциплины предусматривает следующие формы организации учебного процесса: лекции, лабораторные работы, самостоятельная работа студента, консультации.

Программой дисциплины предусмотрены следующие виды контроля: текущий контроль успеваемости, промежуточная аттестация в форме зачета.

Общая трудоемкость освоения дисциплины составляет 3 зачетных единицы, 108 часов.

Язык обучения по дисциплине «русский».

## 1. Перечень планируемых результатов обучения по дисциплине

### 1.1. Цели преподавания дисциплины

Целью преподавания дисциплины является формирование у студентов необходимых знаний о законах и методах расчета электрических цепей электротехнических устройств, приобретение навыков расчета и анализа параметров электрических цепей, токов и напряжений в установившихся режимах работы линейных схем замещения электрических цепей, умение пользоваться электроизмерительными приборами. Обучающиеся должны освоить дисциплину на уровне, позволяющем им использовать на практике методы расчета и анализа электрических цепей. Уровень освоения дисциплины должен позволять студентам проводить типовые расчеты основных электрических схем, проводить элементарные лабораторные испытания электротехнических устройств.

### 1.2. Перечень планируемых результатов обучения по дисциплине, соотнесенных с планируемыми результатами освоения ОП

В результате освоения дисциплины обучающийся должен обладать следующими компетенциями:

ПК-19 «способность применять знание задач своей профессиональной деятельности, их характеристики (модели), характеристики методов, средств, технологий, алгоритмов для решения этих задач»:

знать – принципы работы элементов электрических цепей

уметь – рассчитывать основные величины, характеризующие работу электрической цепи

владеть навыками – расчетов электрических цепей

иметь опыт деятельности – в области анализа и расчета электрических цепей;

## 2. Место дисциплины в структуре ОП

Дисциплина базируется на знаниях, ранее приобретенных обучающимися при изучении следующих дисциплин:

- математика. Аналитическая геометрия и линейная алгебра;
- математика. Математический анализ;
- физика;

Знания, полученные при изучении материала данной дисциплины, имеют как самостоятельное значение, так и используются при изучении других дисциплин:

- методы и средства измерений, испытаний и контроля
- электроника

## 3. Объем дисциплины в ЗЕ/академ. час

Данные об общем объеме дисциплины, трудоемкости отдельных видов учебной работы по дисциплине (и распределение этой трудоемкости по семестрам) представлены в таблице 1

Таблица 1 – Объем и трудоемкость дисциплины

Вид учебной работы	Всего	Трудоемкость по семестрам
		№3
1	2	3
<b>Общая трудоемкость дисциплины, ЗЕ/(час)</b>	3/ 108	3/ 108
<i>Аудиторные занятия</i> , всего час.,	16	16

<b>В том числе</b>		
лекции (Л), (час)	8	8
Практические/семинарские занятия (ПЗ), (час)		
лабораторные работы (ЛР), (час)	8	8
курсовой проект (работа) (КП, КР), (час)		
Экзамен, (час)		
<b>Самостоятельная работа</b> , всего	92	92
<b>Вид промежуточного контроля:</b> зачет, дифф. зачет, экзамен ( <b>Зачет, Дифф. зач, Экз.</b> )	Зачет	Зачет

#### 4. Содержание дисциплины

##### 4.1. Распределение трудоемкости дисциплины по разделам и видам занятий

Разделы и темы дисциплины и их трудоемкость приведены в таблице 2.

Таблица 2. – Разделы, темы дисциплины и их трудоемкость

Разделы, темы дисциплины	Лекции (час)	ПЗ (СЗ) (час)	ЛР (час)	КП (час)	СРС (час)
Семестр 3					
Раздел 1. Основные понятия теории электрических цепей. Тема 1.1. Предмет и цель курса «Электротехника». Электромагнитная модель устройства и системы. Тема 1.2 Электрическая цепь. Система величин, используемая при описании цепи. Структурные элементы цепи.	0.4  0.4		1		
Раздел 2 Законы электрической цепи. Тема 2.1 Основные топологические элементы и множества. Закон токов Кирхгофа. Закон напряжений Кирхгофа. Тема 2.2 Математическая модель цепи - «уравнение цепи».	0.8  0.8		1		14
Раздел 3 Методы анализа цепей постоянного тока. Тема 3.1 Анализ цепей методами эквивалентных преобразований, по законам Кирхгофа, методами узловых напряжений и токов связей. Тема 3.2 Методы проверки расчетов: по балансу мощностей, законам	0.8  0.8		2		14

Кирхгофа.					
Раздел 4 Линейные цепи в гармоническом режиме. Тема 4.1 Основные величины характеризующие гармонический режим. Тема 4.2 Комплексные изображения гармонических величин. Тема 4.3 Расчет пассивных двухполюсников со смешанным соединением элементов.	0.8 0.8 0.8		2		33
Раздел 5 Резонанс в линейных электрических цепях. Тема 5.1 условия и виды резонанса. Определение резонансных величин. Тема 5.2 Резонанс в последовательном контуре (резонанс напряжений) Тема 5.3 Резонанс в параллельном контуре (резонанс токов)	0.2 0.4 0.2		2		31
Итого за семестр	8		8		92

#### 4.2. Содержание разделов и тем лекционных занятий

Содержание разделов и тем лекционных занятий приведено в таблице 3.

Таблица 3 - Содержание разделов и тем лекционных занятий

Номер раздела	Название и содержание разделов и тем лекционных занятий
Раздел 1	Введение. Основные понятия теории электрических цепей.
Тема 1.1	Предмет и цель курса «Электротехника». Электромагнитная модель устройства и системы. Классификация моделей: линейные и нелинейные; стационарные и нестационарные; с сосредоточенными и распределенными параметрами
Тема 1.2	Электрическая цепь. Система величин, используемая при описании цепи. Структурные элементы цепи, активные и пассивные элементы, их свойства, уравнения и параметры. Линейные и нелинейные элементы. Цепи с сосредоточенными и распределенными параметрами
Раздел 2	Законы электрической цепи.
Тема 2.1	Основные топологические элементы и множества: двухполюсник, узел, сечение, контур, граф электрической цепи. Закон токов Кирхгофа. Закон напряжений Кирхгофа. Закон электромагнитной индукции

Тема 2.2	Математическая модель цепи - «уравнение цепи». Совокупность уравнений элементов и уравнений их соединений. Ветвь как двухполюсник, ток и напряжение которого связаны уравнением ветви
Раздел 3	Методы анализа цепей постоянного тока.
Тема 3.1	Анализ цепей методами эквивалентных преобразований, по законам Кирхгофа, методами узловых напряжений и токов связей.
Тема 3.2	Методы проверки расчетов: по балансу мощностей, законам Кирхгофа.
Раздел 4	Линейные цепи в гармоническом режиме.
Тема 4.1	Основные величины характеризующие гармонический режим. Мгновенное, среднее и действующее значения. Вращающиеся векторы, векторные диаграммы. Пассивные элементы в гармоническом режиме. Мощность.
Тема 4.2	Комплексные изображения гармонических величин. Комплексные амплитуды и действующие значения. Комплексные сопротивления и проводимости. Уравнения соединений в комплексной форме. Комплексная мощность. Мощности: активная, реактивная, полная. Баланс активных и реактивных мощностей
Тема 4.3	Расчет пассивных двухполюсников со смешанным соединением элементов. Входные и эквивалентные сопротивления и проводимости. Резонанс: условия и виды резонанса. Определение резонансных величин.
Раздел 5	Резонанс в линейных электрических цепях.
Тема 5.1	Условия и виды резонанса. Определение резонансных величин.
Тема 5.2	Резонанс в последовательном контуре (резонанс напряжений) Волновое сопротивление. Добротность. Полоса пропускания и частотные характеристики последовательного контура
Тема 5.3	Резонанс в параллельном контуре (резонанс токов) Волновая проводимость. Добротность. Полоса пропускания и частотные характеристики параллельного контура

#### 4.3. Практические (семинарские) занятия

Темы практических занятий и их трудоемкость приведены в таблице 4.

Таблица 4 – Практические занятия и их трудоемкость

№ п/п	Темы практических занятий	Формы практических занятий	Трудоемкость, (час)	№ раздела дисциплины
Учебным планом не предусмотрено				
Всего:				

#### 4.4. Лабораторные занятия

Темы лабораторных занятий и их трудоемкость приведены в таблице 5.

Таблица 5 – Лабораторные занятия и их трудоемкость

№ п/п	Наименование лабораторных работ	Трудоемкость, (час)	№ раздела дисциплины
Семестр 3			
1	Передача энергии от источника к приемнику	2	3
2	Разветвленная линейная электрическая цепь постоянного тока	2	3
3	Исследование простых электрических цепей в гармоническом режиме	2	4
4	Электрическая цепь переменного тока с последовательным соединением (резонанс напряжений)	2	5

#### 4.5. Курсовое проектирование (работа)

Учебным планом не предусмотрено

#### 4.6. Самостоятельная работа обучающихся

Виды самостоятельной работы и ее трудоемкость приведены в таблице 6.

Таблица 6 Виды самостоятельной работы и ее трудоемкость

Вид самостоятельной работы	Всего, час	Семестр 3, час
1	2	3
<b>Самостоятельная работа, всего</b>	92	92
изучение теоретического материала дисциплины (ТО)	46	46
контрольные работы заочников (КРЗ)	46	46
Оформление отчетов по ЛР		



## 5. Перечень учебно-методического обеспечения для самостоятельной работы обучающихся по дисциплине (модулю)

Учебно-методические материалы для самостоятельной работы обучающихся указаны в п.п. 8-10.

## 6. Перечень основной и дополнительной литературы

### 6.1. Основная литература

Перечень основной литературы приведен в таблице 7.

Таблица 7 – Перечень основной литературы

Шифр	Библиографическая ссылка / URL адрес	Количество экземпляров в библиотеке (кроме электронных экземпляров)
621.3 А 86	Электротехника. Линейная электрическая цепь с сосредоточенными параметрами в установившемся режиме [Текст] : учебное пособие / Б. А. Артемьев ; С.-Петербург. гос. ун-т аэрокосм. приборостроения. - СПб. : Изд-во ГУАП, 2013. - 86 с. :	150 экз
621.3 Л 13	Лавров В.Я. Линейные электрические цепи. Установившиеся процессы: учебное пособие. СПб.: ГУАП. 2010. - 232 с.	225

### 6.2. Дополнительная литература

Перечень дополнительной литературы приведен в таблице 8.

Таблица 8 – Перечень дополнительной литературы

Шифр	Библиографическая ссылка/ URL адрес	Кол-во экз. в библиотеке (кроме электронных экземпляров)
621.3 Б 47	Электротехника: лабораторный практикум.СПб.: ГУАП, 2017.-190 с. С.И.Бардинский, В.А.Голубков, А.А.Ефимов, В.Д.Косулин, С.Ю.Мельников.	50экз
621.3 Б 43	Белов, Н. В. Электротехника и основы электроники [Текст] : учебное пособие / Н. В. Белов, Ю. С. Волков. - СПб. [и др.] : Лань, 2012. - 430 с. : ил. -	10экз
621.372 К 60	Колесников В.В. Основы теории цепей. Переходные процессы и четырехполюсники: учебное пособие. СПб. : ГУАП, 2006. – 111 с.	197 экз.
621.372 К 60	Колесников В.В. Основы теории цепей. Установившиеся режимы: учебное пособие. СПб.: ГУАП, 2006. – 101 с.	194 экз.
621.372 К 60	Колесников В.В. Основы теории цепей. Нелинейные цепи, длинные линии: учебное пособие. СПб.: ГУАП, 2007. – 104 с.	167 экз

## 7. Перечень ресурсов информационно-телекоммуникационной сети ИНТЕРНЕТ, необходимых для освоения дисциплины

Перечень ресурсов информационно-телекоммуникационной сети ИНТЕРНЕТ, необходимых для освоения дисциплины приведен в таблице 9.

Таблица 9 – Перечень ресурсов информационно-телекоммуникационной сети ИНТЕРНЕТ, необходимых для освоения дисциплины

URL адрес	Наименование
www.kurstoe.ru	Курс лекций по ТОЭ

www.bourabai.ru	Теоретические основы электротехники и электроники
www.toehelp.ru	Текции и задачи по ТОЭ

## **8. Перечень информационных технологий, используемых при осуществлении образовательного процесса по дисциплине**

### **8.1. Перечень программного обеспечения**

Перечень используемого программного обеспечения представлен в таблице 10.

Таблица 10 – Перечень программного обеспечения

№ п/п	Наименование
	Не предусмотрено

### **8.2. Перечень информационно-справочных систем**

Перечень используемых информационно-справочных систем представлен в таблице 11.

Таблица 11 – Перечень информационно-справочных систем

№ п/п	Наименование
	Не предусмотрено

## **9. Материально-техническая база, необходимая для осуществления образовательного процесса по дисциплине**

Состав материально-технической базы представлен в таблице 12.

Таблица 12 – Состав материально-технической базы

№ п/п	Наименование составной части материально-технической базы	Номер аудитории (при необходимости)
1	Лекционная аудитория общего доступа.	на ул. Гастелло, 15.
2	Специализированные лаборатории «Линейные электрические цепи»	ауд.14-04 и 14-06 на ул. Гастелло, 15.

## **10. Фонд оценочных средств для проведения промежуточной аттестации обучающихся по дисциплине**

10.1. Состав фонда оценочных средств приведен в таблице 13

Таблица 13 - Состав фонда оценочных средств для промежуточной аттестации

Вид промежуточной аттестации	Примерный перечень оценочных средств
Зачет	Список вопросов; Тесты.

10.2. Перечень компетенций, относящихся к дисциплине, и этапы их формирования в процессе освоения образовательной программы приведены в таблице 14.

Таблица 14 – Перечень компетенций с указанием этапов их формирования в процессе освоения образовательной программы

Номер семестра	Этапы формирования компетенций по дисциплинам/практикам в процессе освоения ОП
ПК-19 «способность применять знание задач своей профессиональной деятельности, их характеристики (модели), характеристики методов, средств, технологий, алгоритмов для решения этих задач»	
1	Физика
2	Физика
2	Учебная практика по получению первичных профессиональных умений и навыков
3	Электротехника и электроника
3	Материаловедение
4	Производственная практика по получению профессиональных умений и опыта профессиональной деятельности
4	Производственная практика по получению профессиональных умений и опыта профессиональной деятельности
5	Проектно-ориентированные методы разработки продукции
5	Статистические методы в управлении сложными техническими системами
5	Производственная практика по получению профессиональных умений и опыта профессиональной деятельности
6	Проектно-ориентированные методы разработки продукции
6	Производственная технологическая практика
6	Методы и средства измерений, испытаний и контроля
7	Техническое регулирование
7	Основы обеспечения качества
7	Инновационный менеджмент
8	Управление качеством электронных средств
8	Производственная технологическая практика
8	Методы и средства процессов проектирования
8	Организация проектно-конструкторской деятельности
8	Автоматизированные производственные системы
9	Управление экологической безопасностью проектов
10	Управление процессами
10	Производственная преддипломная практика

10.3. В качестве критериев оценки уровня сформированности (освоения) у обучающихся компетенций применяется шкала модульно–рейтинговой системы университета. В таблице 15 представлена 100–балльная и 4–балльная шкалы для оценки сформированности компетенций.

Таблица 15 –Критерии оценки уровня сформированности компетенций

Оценка компетенции		Характеристика сформированных компетенций
100-балльная	4-балльная шкала	

шкала		
$85 \leq K \leq 100$	«отлично» «зачтено»	<ul style="list-style-type: none"> <li>- обучающийся глубоко и всесторонне усвоил программный материал;</li> <li>- уверенно, логично, последовательно и грамотно его излагает;</li> <li>- опираясь на знания основной и дополнительной литературы, тесно привязывает усвоенные научные положения с практической деятельностью направления;</li> <li>- умело обосновывает и аргументирует выдвигаемые им идеи;</li> <li>- делает выводы и обобщения;</li> <li>- свободно владеет системой специализированных понятий.</li> </ul>
$70 \leq K \leq 84$	«хорошо» «зачтено»	<ul style="list-style-type: none"> <li>- обучающийся твердо усвоил программный материал, грамотно и по существу излагает его, опираясь на знания основной литературы;</li> <li>- не допускает существенных неточностей;</li> <li>- увязывает усвоенные знания с практической деятельностью направления;</li> <li>- аргументирует научные положения;</li> <li>- делает выводы и обобщения;</li> <li>- владеет системой специализированных понятий.</li> </ul>
$55 \leq K \leq 69$	«удовлетворительно» «зачтено»	<ul style="list-style-type: none"> <li>- обучающийся усвоил только основной программный материал, по существу излагает его, опираясь на знания только основной литературы;</li> <li>- допускает несущественные ошибки и неточности;</li> <li>- испытывает затруднения в практическом применении знаний направления;</li> <li>- слабо аргументирует научные положения;</li> <li>- затрудняется в формулировании выводов и обобщений;</li> <li>- частично владеет системой специализированных понятий.</li> </ul>
$K \leq 54$	«неудовлетворительно» «не зачтено»	<ul style="list-style-type: none"> <li>- обучающийся не усвоил значительной части программного материала;</li> <li>- допускает существенные ошибки и неточности при рассмотрении проблем в конкретном направлении;</li> <li>- испытывает трудности в практическом применении знаний;</li> <li>- не может аргументировать научные положения;</li> <li>- не формулирует выводов и обобщений.</li> </ul>

#### 10.4. Типовые контрольные задания или иные материалы:

##### 1. Вопросы (задачи) для экзамена (таблица 16)

Таблица 16 – Вопросы (задачи) для экзамена

№ п/п	Перечень вопросов (задач) для экзамена
	Учебным планом не предусмотрено

##### 2. Вопросы (задачи) для зачета / дифференцированного зачета (таблица 17)

Таблица 17 – Вопросы (задачи) для зачета / дифф. зачета

№ п/п	Перечень вопросов (задач) для зачета / дифференцированного зачета
1.	Элементы электрической цепи. Источники и приемники. Реальные и идеализированные пассивные элементы.
2.	Неуправляемые и управляемые источники. Реальные и идеализированные активные элементы.
3.	Электрический ток, напряжение и ЭДС. Мощность и энергия.
4.	Топология электрических цепей. Граф, дерево графа, ветви связи. Ветвь, узел, контур, сечение. Главный контур и главное сечение.

5.	Последовательное, параллельное и смешанное соединение элементов электрической цепи.
6.	Закон Ома для участка цепи. Законы Кирхгофа.
7.	Расчет электрических цепей методом токов связей.
8.	Расчет электрических цепей методом узловых напряжений.
9.	Согласование сопротивления нагрузки и сопротивления источника. Условие передачи максимальной мощности. Режим холостого хода и короткого замыкания.
10.	Переменный ток, напряжение, ЭДС. Основные характеристики гармонического тока (напряжения, ЭДС).
11.	Метод комплексных амплитуд.
12.	Сопротивление, индуктивность и емкость в цепях гармонического тока.
13.	Последовательное и параллельное соединение сопротивления, индуктивности и емкости.
14.	Комплексное сопротивление и проводимость цепи.
15.	Анализ сложных цепей гармонического тока.
16.	Активная, реактивная и полная мощность в цепи гармонического тока.
17.	Явление резонанса в электрических цепях. Условие и признаки резонанса. Добротность, коэффициент затухания, полоса пропускания.
18.	Частотные характеристики (АЧХ, ФЧХ) последовательного контура.
19.	Что такое последовательное соединение двух резисторов?
20.	Как можно определить входное сопротивление последовательно соединённых резисторов?
21.	Какие значения сопротивления, тока и напряжения соответствуют режиму холостого хода?
22.	Что такое параллельное соединение резисторов?
23.	Как можно определить входную проводимость параллельно соединённых резисторов?
24.	Какие значения сопротивления, напряжения и тока соответствуют режиму короткого замыкания?
25.	Как нужно соединить резисторы, чтобы увеличить входное сопротивление?
26.	Как нужно соединить резисторы, чтобы уменьшить входное сопротивление?
27.	Как построить граф электрической цепи?
28.	Из каких ветвей графа состоит главный контур?
29.	Какие ветви графа составляют главное сечение?
30.	Какие уравнения составляются для главных сечений?
31.	Какие уравнения составляются для главных контуров?
32.	Чему равно число уравнений токов связей?
33.	Чему равно число уравнений угловых напряжений?
34.	Что такое комплексная амплитуда?
35.	Какими величинами связаны комплексные амплитуды напряжения и тока?
36.	Что такое индуктивное и ёмкостное сопротивление?
37.	Что называется индуктивной и ёмкостной проводимостью?
38.	Какими комплексными сопротивлениями обладают резистор, индуктивность и ёмкость?
39.	Какие комплексные проводимости имеют резистор, индуктивность и ёмкость?
40.	Какие углы между напряжением и током имеют место в резисторе, индуктивности и ёмкости ?
41.	Что такое векторная диаграмма?
42.	Какое условие должно соблюдаться, чтобы в цепи имел место режим резонанса?
43.	Полоса пропускания последовательного контура
44.	Что такое добротность и как ее рассчитать?

3. Темы и задание для выполнения курсовой работы / выполнения курсового проекта (таблица 18)

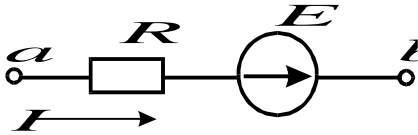
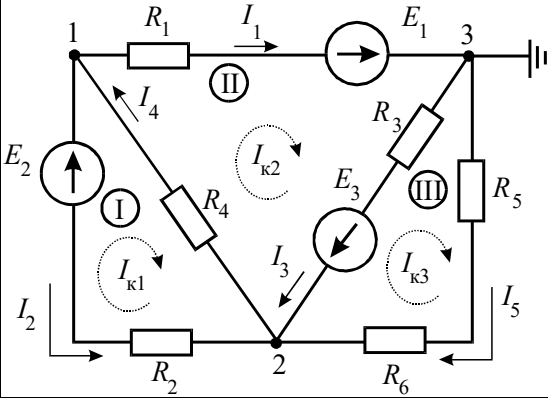
Таблица 18 – Примерный перечень тем для выполнения курсовой работы / выполнения курсового проекта

№ п/п	Примерный перечень тем для выполнения курсовой работы / выполнения курсового проекта
-------	--

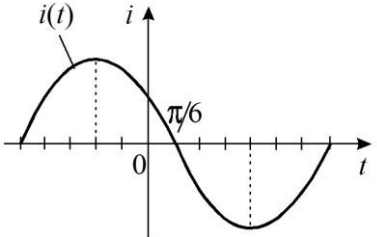
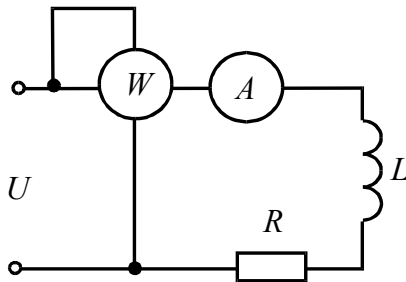
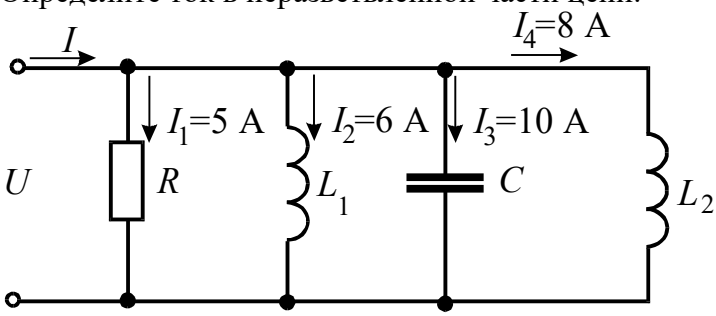
Учебным планом не предусмотрено

4. Вопросы для проведения промежуточной аттестации при тестировании (таблица 19)

Таблица 19 – Примерный перечень вопросов для тестов

№ п/п	Примерный перечень вопросов для тестов
1	<p>ЭДС – работа по перемещению единицы заряда</p> <ol style="list-style-type: none"> <li>1) по внешнему участку цепи;</li> <li>2) по всей замкнутой цепи;</li> <li>3) внутри источника;</li> <li>4) по сопротивлению нагрузки</li> </ol>
2	<p>Электрическое сопротивление – это скалярная величина равная отношению электрического напряжения на зажимах двухполюсника к...</p> <ol style="list-style-type: none"> <li>1) проводимости двухполюсника;</li> <li>2) ЭДС двухполюсника;</li> <li>3) току в двухполюснике;</li> <li>4) сопротивлению двухполюсника.</li> </ol>
3	<p>Укажите правильную формулу закона Ома для участка цепи, содержащего ЭДС.</p>  <ol style="list-style-type: none"> <li>1) <math>I = \frac{\varphi_a - \varphi_b - E}{R}</math></li> <li>2) <math>I = \frac{\varphi_a - \varphi_b + E}{R}</math></li> <li>3) <math>I = \frac{\varphi_b - \varphi_a + E}{R}</math></li> <li>4) <math>I = (\varphi_b - \varphi_a + E)R</math></li> </ol>
4	<p>Укажите, сколько уравнений по законам Кирхгофа необходимо составить для расчета токов данной схеме.</p>  <ol style="list-style-type: none"> <li>1) 6 уравнений (из них 3 – по I закону, 3 – по II закону).</li> <li>2) 5 уравнений (из них 2 – по I закону, 3 – по II закону).</li> <li>3) 3 уравнения (из них 1 – по I закону, 2 – по II закону).</li> <li>4) 5 уравнений (из них 3 – по I закону, 2 – по II закону).</li> </ol>
5	<p>Выберите графическую зависимость, соответствующую изменению напряжения от тока <math>U = f(I)</math> на зажимах идеального источника ЭДС.:</p>

		1) 4; 2) 1; 3) 2; 4) 3.
6	<p>Определите величину тока <math>I_1</math>.</p>	1) 2А; 2) 4А; 3) -2А; 4) -4А.
7	<p>Определить сопротивление <math>R_2</math> при известных значениях параметров элементов показаниях амперметров</p>	1) 15 Ом; 2) 12 Ом; 3) 20 Ом; 4) 30 Ом.
8	<p>Как изменится показание амперметра при замыкании ключа?</p>	1) не изменится; 2) увеличится; 3) станет равным нулю; 4) уменьшится.
9	<p>В цепи <math>R_1=15\text{ Ом}</math>; <math>R_2=25\text{ Ом}</math>; <math>E_1=120\text{ В}</math>; <math>E_2=40\text{ В}</math>. Определить показания вольтметра.</p>	1) 170 В; 2) 80 В; 3) 160 В; 4) 90 В.
10	<p>Какой параметр переменного тока влияет на индуктивное сопротивление катушки?</p>	1) начальная фаза тока; 2) амплитуда тока; 3) действующее значение тока; 4) период тока.
11	<p>Мгновенные значения тока и напряжения в нагрузке заданы следующими выражениями: <math>i = 0,2 \sin(376,8t + 80^\circ)</math> А, <math>u = 250 \sin(376,8t + 170^\circ)</math> В. Определить</p>	

	тип нагрузки. 1) активная; 2) активно-индуктивная; 3) активно-емкостная; 4) индуктивная.
12	Как изменится ток $i$ при увеличении расстояния между обкладками воздушного конденсатора? 1) увеличится; 2) уменьшится; 3) не изменится.
13	<p>Определите начальную фазу переменного тока, представленного на графике.</p>  <p>1) <math>\pi/6</math>; 2) <math>-\pi/6</math>; 3) <math>3\pi/6</math>; 4) <math>5\pi/6</math>.</p>
14	<p>Выберите правильную формулу связи амплитудного и действующего значения.</p> <p>1) <math>I_m = I/\sqrt{2}</math>; 2) <math>I = \sqrt{2}/I_m</math>; 3) <math>I_m = I\sqrt{2}</math>; 4) <math>I = I_m\sqrt{2}</math>.</p>
15	<p>В какой цепи можно получить резонанс напряжений?</p> <p>1) с последовательным соединением резистора и катушки; 2) с последовательным соединением резистора и емкостного элемента; 3) с последовательным соединением катушки и емкостного элемента; 4) с параллельным соединением катушки и емкостного элемента.</p>
16	<p>Определить величину сопротивления <math>X_L</math>, если <math>U = 100</math> В, ваттметр показывает 400 Вт, амперметр – 5 Ампер.</p>  <p>1) 20 Ом; 2) 12 Ом; 3) 30 Ом; 4) 60 Ом.</p>
17	<p>Определите ток в неразветвленной части цепи.</p>  <p>1) <math>\sqrt{29}</math> А; 2) <math>\sqrt{41}</math> А; 3) 12 А; 4) 29 А.</p>

5. Контрольные и практические задачи / задания по дисциплине (таблица 20)

Таблица 20 – Примерный перечень контрольных и практических задач / заданий

№ п/п	Примерный перечень контрольных и практических задач / заданий
-------	---



1	Реактивное сопротивление последовательной $RLC$ -цепи при резонансе равно: а) нулю б) активному сопротивлению в) бесконечности г) емкостному сопротивлению
2	Угол $\varphi$ сдвига фаз между напряжением источника и током в последовательной $RLC$ -цепи при резонансе: а) $-90^\circ$ б) $+90^\circ$ в) $0^\circ$ г) зависит от реактивного сопротивления
3	Полное сопротивление на резонансной частоте последовательной $RLC$ -цепи с $L=15$ мГн, $C = 0.015$ мкФ и $R = 80$ Ом равно: а) 15 кОм б) 80 Ом в) 30 Ом г) 0 Ом
4	В последовательной $RLC$ -цепи, работающей на резонансной частоте, ток а) совпадает по фазе с приложенным напряжением; б) отстает по фазе от напряжения; в) опережает по фазе напряжение
5	Если величина $C$ в последовательной $RLC$ -цепи увеличится, резонансная частота а) уменьшится б) увеличится в) не изменится
6	Если величина $L$ в последовательной $RLC$ -цепи уменьшится, резонансная частота а) уменьшится б) увеличится в) не изменится
7	Если величина $R$ в последовательной $RLC$ -цепи увеличится, резонансная частота а) уменьшится б) увеличится в) не изменится
8	В последовательной $RLC$ -цепи при резонансе $U_C = 150$ В, $U_L = 150$ В, $U_R = 50$ В. Тогда величина напряжения источника равна: а) 150 В б) 300 В в) 50 В г) 350 В
9	В последовательной $RC$ -цепи напряжение на резистивном элементе: а) совпадает по фазе с напряжением источника; б) опережает по фазе на $90^\circ$ напряжение источника; в) опережает по фазе на $90^\circ$ ток; г) совпадает по фазе с током.
10	В последовательной $RC$ -цепи напряжение на емкостном элементе: а) совпадает по фазе с напряжением источника; б) опережает по фазе на $90^\circ$ напряжение источника; в) отстает по фазе на $90^\circ$ от тока; г) совпадает по фазе с током.
11	В последовательной $RL$ -цепи напряжение на резистивном элементе: а) совпадает по фазе с напряжением источника; б) опережает по фазе на $90^\circ$ напряжение источника; в) опережает по фазе на $90^\circ$ ток; г) совпадает по фазе с током
12	В последовательной $RL$ -цепи напряжение на индуктивном элементе: а) совпадает по фазе с напряжением источника; б) опережает по фазе на $90^\circ$ ток; в) отстает по фазе на $90^\circ$ от тока; г) совпадает по фазе с током.
13	Если частота напряжения, приложенного к последовательной $RC$ -цепи, увеличится, то полное сопротивление цепи: а) уменьшится б) увеличится в) не изменится г) удвоится
14	Если частота напряжения, приложенного к последовательной $RC$ -цепи, увеличится, то полное сопротивление цепи: а) уменьшится б) увеличится в) не изменится г) удвоится
15	Если частота напряжения, приложенного к последовательной $RL$ -цепи, увеличится, то полное сопротивление цепи: а) уменьшится б) увеличится в) не изменится г) удвоится
16	Если частота напряжения, приложенного к последовательной $RL$ -цепи, увеличится, то угол $\varphi$ сдвига фаз между напряжением и током: а) уменьшится б) увеличится в) не изменится г) станет равным нулю
17	Если частота напряжения, приложенного к последовательной $RC$ -цепи, увеличится, то угол $\varphi$ сдвига фаз между напряжением и током: а) уменьшится б) увеличится в) не изменится г) станет равным нулю
18	Если в последовательной $RC$ -цепи удвоить частоту и величину активного сопротивления, то полное сопротивление цепи: а) удвоится; б) станет вчетверо больше; в) станет вдвое меньше; г) не может быть определено, если не заданы параметры цепи

19	Если в последовательной $RC$ -цепи среднееквадратичное значение напряжений $U_R = 10$ В, $U_C = 10$ В, то среднееквадратичное значение приложенного к цепи напряжения равно: а) 20 В    б) 14,4 В    в) 28,8 В    г) 10 В
20	Если в последовательной $RC$ -цепи среднееквадратичное значение напряжений $U_R = 10$ В, $U_C = 10$ В, то амплитудное значение приложенного к цепи напряжения равно: а) 20 В    б) 14,4 В    в) 28,8 В    г) 10 В
21	Если в последовательной $RC$ -цепи среднееквадратичное значение напряжений $U_R = 10$ В, $U_C = 10$ В, то амплитудное значение приложенного к цепи напряжения равно: а) 20 В    б) 14,4 В    в) 28,8 В    г) 10 В
22	В последовательной $RC$ -цепи среднееквадратичное значение напряжений $U_R = 10$ В, $U_C = 10$ В. Чтобы напряжение на резистивном элементе стало больше, чем на емкостном, частота: а) должна быть увеличена; б) уменьшена; в) оставлена неизменной; г) не оказывает влияния
23	В последовательной $RL$ -цепи среднееквадратичное значение напряжений $U_R = 10$ В, $U_L = 10$ В. Чтобы напряжение на резистивном элементе стало больше, чем на индуктивном, частота: а) должна быть увеличена; б) должна быть уменьшена; в) оставлена неизменной; г) не оказывает влияния
24	Если в последовательной $RL$ -цепи $x_L = R$ , то угол $\varphi$ сдвига фаз между током и напряжением источника равен: а) $-90^\circ$ б) $+90^\circ$ в) $0^\circ$ г) $+45^\circ$
25	Если в последовательной $RC$ -цепи $x_C = R$ , то угол $\varphi$ сдвига фаз между током и напряжением источника равен: а) $-90^\circ$ б) $-45^\circ$ в) $0^\circ$ г) $+90^\circ$
26	Если частота источника напряжения увеличится, то полное сопротивление параллельной $RC$ -цепи: а) уменьшится    б) увеличится    в) не изменится
27	Если частота источника напряжения уменьшится, то полное сопротивление параллельной $RL$ -цепи: а) уменьшится    б) увеличится    в) не изменится
28	Если частота источника напряжения увеличится, то полное сопротивление последовательной $RC$ -цепи: а) уменьшится    б) увеличится    в) не изменится
29	Если частота источника напряжения уменьшится, то полное сопротивление последовательной $RL$ -цепи: а) уменьшится    б) увеличится    в) не изменится
30	Если в параллельной $RC$ -цепи среднееквадратичное значение токов $I_C = 1$ А и $I_R = 1$ А, то среднееквадратичное значение общего для этих ветвей тока равно: а) 1 А    б) 2 А    в) 2,28 А    г) 1,414 А
31	Если в параллельной $RC$ -цепи среднееквадратичное значение токов $I_C = 1$ А и $I_R = 1$ А, то амплитудное значение общего для этих ветвей тока равно: а) 1 А    б) 2 А    в) 2,28 А    г) 1,414 А
32	Если в параллельной $RL$ -цепи среднееквадратичное значение токов $I_L = 1$ А и $I_R = 1$ А, то среднееквадратичное значение общего для этих ветвей тока равно: а) 1 А    б) 2 А    в) 2,28 А    г) 1,414 А
33	Если в параллельной $RL$ -цепи среднееквадратичное значение токов $I_L = 1$ А и $I_R = 1$ А, то амплитудное значение общего для этих ветвей тока равно: а) 1 А    б) 2 А    в) 2,28 А    г) 1,414 А
34	Коэффициент мощности равен 1, если угол $\varphi$ сдвига фаз между напряжением и током в цепи равен: а) $90^\circ$ б) $45^\circ$ в) $0^\circ$ г) $180^\circ$
35	В соответствии с законами коммутации в момент коммутации мгновенно (скачком)

	не может измениться: а) напряжение на последовательном участке, включающем индуктивность; б) ток на параллельном участке, включающем хотя бы одну индуктивность; в) ток индуктивности; г) ток на последовательном участке, включающем резистор; д) ток на емкости.
36	Как можно оценить длительность переходного процесса в цепи первого порядка? а) по величине индуктивности (емкости); б) по тому, как сильно отличается ток в индуктивности (напряжение на емкости) в установившемся режиме до и после коммутации; в) по величине постоянной времени; г) только рассчитав переходный процесс.

10.5. Методические материалы, определяющие процедуры оценивания знаний, умений, навыков и / или опыта деятельности, характеризующих этапы формирования компетенций, содержатся в Положениях «О текущем контроле успеваемости и промежуточной аттестации студентов ГУАП, обучающихся по программам высшего образования» и «О модульно-рейтинговой системе оценки качества учебной работы студентов в ГУАП».

## 11. Методические указания для обучающихся по освоению дисциплины

Целью преподавания дисциплины является формирование у студентов необходимых знаний о законах и методах расчета электрических цепей электротехнических устройств, приобретение навыков расчета и анализа параметров электрических цепей, токов и напряжений в установившихся режимах работы линейных схем замещения электрических цепей, умение пользоваться электроизмерительными приборами. Обучающиеся должны освоить дисциплину на уровне, позволяющем им использовать на практике методы расчета и анализа электрических и магнитных цепей. Уровень освоения дисциплины должен позволять студентам проводить типовые расчеты основных электрических схем, проводить элементарные лабораторные испытания электротехнических устройств.

### Методические указания для обучающихся по освоению лекционного материала

Основное назначение лекционного материала – логически стройное, системное, глубокое и ясное изложение учебного материала. Назначение современной лекции в рамках дисциплины не в том, чтобы получить всю информацию по теме, а в освоении фундаментальных проблем дисциплины, методов научного познания, новейших достижений научной мысли. В учебном процессе лекция выполняет методологическую, организационную и информационную функции. Лекция раскрывает понятийный аппарат конкретной области знания, её проблемы, дает цельное представление о дисциплине, показывает взаимосвязь с другими дисциплинами.

### Планируемые результаты при освоении обучающимися лекционного материала:

- получение современных, целостных, взаимосвязанных знаний, уровень которых определяется целевой установкой к каждой конкретной теме;
- получение опыта творческой работы совместно с преподавателем;
- развитие профессионально–деловых качеств, любви к предмету «Электротехника» и самостоятельного творческого мышления.
- появление мотиваций, необходимых для самостоятельной работы;
- получение знаний о современном уровне развития науки и техники в области электротехники и о прогнозе их развития на ближайшие годы;
- научиться методически обрабатывать материал (выделять главные мысли и положения, приходиться к конкретным выводам, повторять их в различных формулировках);
- получение точного понимания всех необходимых терминов и понятий.

Подробные методические указания по освоению лекционного материала приведены в учебных пособиях:

621.3 Л13	Лавров В.Я. Линейные электрические цепи. Установившиеся процессы: учебное пособие. СПб.: ГУАП. 2010. - 232 с. Количество экз. в библиот. - 240.
621.372 Л13	Лавров В.Я. Основы термических цепей. Переходные процессы: учебное пособие. СПб.: ГУАП. 2012. - 124 с. Количество экз. в библиот. - 100.
621.3 А 86	Электротехника. Линейная электрическая цепь с сосредоточенными параметрами в установившемся режиме [Текст] : учебное пособие / Б. А. Артемьев ; С.-Петерб. гос. ун-т аэрокосм. приборостроения. - СПб. : Изд-во ГУАП, 2013. - 86 с. :

### **Методические указания для обучающихся по прохождению лабораторных работ**

В ходе выполнения лабораторных работ обучающийся должен углубить и закрепить знания, практические навыки, овладеть современной методикой и техникой эксперимента в соответствии с квалификационной характеристикой обучающегося. Выполнение лабораторных работ состоит из экспериментально-практической, расчетно-аналитической частей и контрольных мероприятий.

Выполнение лабораторных работ обучающимся является неотъемлемой частью изучения дисциплины, определяемой учебным планом и относится к средствам, обеспечивающим решение следующих основных задач у обучающегося:

- приобретение навыков исследования процессов, явлений и объектов, изучаемых в рамках данной дисциплины;
- закрепление, развитие и детализация теоретических знаний, полученных на лекциях;
- получение новой информации по изучаемой дисциплине;
- приобретение навыков самостоятельной работы с лабораторным оборудованием и приборами.

Подробные методические указания по структуре, форме отчета и оформлению лабораторных работ приведены в

- [621.3/ Т33] Теоретические основы электротехники и основы теории цепей. Методические указания к выполнению лабораторных работ №2,3,7./Б.А. Артемьев, С.И. Бардинский, Л.Б. Свинолобова и др.//СПб.: ГУАП, 2012. – 34с. Количество
- Электротехника: лабораторный практикум.СПб.: ГУАП, 2017.-190 с. С.И.Бардинский, В.А.Голубков, А.А.Ефимов, В.Д.Косулин, С.Ю.Мельников.

### **Методические указания для обучающихся по прохождению самостоятельной работы**

В ходе выполнения самостоятельной работы, обучающийся выполняет работу по заданию и при методическом руководстве преподавателя, но без его непосредственного участия.

В процессе выполнения самостоятельной работы, у обучающихся формируется целесообразное планирование рабочего времени, которое позволяет им развивать умения и навыки в усвоении и систематизации приобретаемых знаний, обеспечивает высокий уровень успеваемости в период обучения, помогает получить навыки повышения профессионального уровня.

Методическими материалами, направляющими самостоятельную работу обучающихся являются учебно-методический материал по дисциплине.

В течение семестра №3 обучающийся должен самостоятельно более глубоко изучить теоретический материал дисциплины с использованием основной и дополнительной литературы. А

также самостоятельно подготовиться к прохождению промежуточной аттестации по дисциплине в форме зачета и экзамена.

### **Методические указания для обучающихся по прохождению промежуточной аттестации**

Промежуточная аттестация обучающихся предусматривает оценивание промежуточных и окончательных результатов обучения по дисциплине. Она включает в себя:

– зачет – это форма оценки знаний, полученных обучающимся в ходе изучения учебной дисциплины в целом или промежуточная (по окончании семестра) оценка знаний обучающимся по отдельным разделам дисциплины с аттестационной оценкой «зачтено» или «не зачтено».

Система оценок при проведении промежуточной аттестации осуществляется в соответствии с требованиями Положений «О текущем контроле успеваемости и промежуточной аттестации студентов ГУАП, обучающихся по программы высшего образования» и «О модульно-рейтинговой системе оценки качества учебной работы студентов в ГУАП».

## Лист внесения изменений в рабочую программу дисциплины

Дата внесения изменений и дополнений. Подпись внесшего изменения	Содержание изменений и дополнений	Дата и № протокола заседания кафедры	Подпись зав. кафедрой