

МИНИСТЕРСТВО НАУКИ И ВЫСШЕГО ОБРАЗОВАНИЯ РОССИЙСКОЙ  
ФЕДЕРАЦИИ  
федеральное государственное автономное образовательное учреждение высшего  
образования  
"САНКТ-ПЕТЕРБУРГСКИЙ ГОСУДАРСТВЕННЫЙ УНИВЕРСИТЕТ  
АЭРОКОСМИЧЕСКОГО ПРИБОРОСТРОЕНИЯ"

Кафедра № 31

УТВЕРЖДАЮ  
Руководитель направления

к.т.н., доц.

(должность, уч. степень, звание)

Н.В. Поваренкин

(инициалы, фамилия)

(подпись)

«22» июня 2022 г

РАБОЧАЯ ПРОГРАММА ДИСЦИПЛИНЫ

«Электротехника»  
(Наименование дисциплины)

Код направления подготовки/ специальности	11.03.01
Наименование направления подготовки/ специальности	Радиотехника
Наименование направленности	Радиотехнические средства передачи, приема и обработки сигналов
Форма обучения	заочная

Санкт-Петербург– 2022

Лист согласования рабочей программы дисциплины

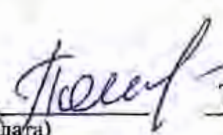
Программу составил (а)

доц., к.т.н.

(должность, уч. степень, звание)

22.06.2022

(подпись, дата)



Т.Г. Полякова

(инициалы, фамилия)

Программа одобрена на заседании кафедры № 31

«22» июня 2022 г, протокол № 7

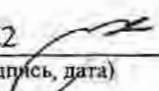
Заведующий кафедрой № 31

д.т.н., проф.

(уч. степень, звание)

22.06.2022

(подпись, дата)



В.Ф. Шипилов


(инициалы, фамилия)

Ответственный за ОП ВО 11.03.01(01)

доц., к.т.н.

(должность, уч. степень, звание)

(подпись, дата)



Ю.В. Бакшеева

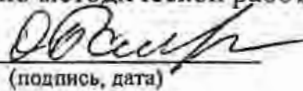
(инициалы, фамилия)

Заместитель директора института №2 по методической работе

доц., к.т.н., доц.

(должность, уч. степень, звание)

(подпись, дата)



О.Л. Бальшева

(инициалы, фамилия)

## Аннотация

Дисциплина «Электротехника» входит в образовательную программу высшего образования – программу бакалавриата по направлению подготовки/ специальности 11.03.01 «Радиотехника» направленности «Радиотехнические средства передачи, приема и обработки сигналов». Дисциплина реализуется кафедрой «№31».

Дисциплина нацелена на формирование у выпускника следующих компетенций:

ОПК-1 «Способен использовать положения, законы и методы естественных наук и математики для решения задач инженерной деятельности»

ОПК-2 «Способен самостоятельно проводить экспериментальные исследования и использовать основные приемы обработки и представления полученных данных»

Содержание дисциплины охватывает круг вопросов, связанных с

- законами теории электрических цепей;
- расчетом и анализом параметров электрических цепей постоянного и переменного токов в установившихся режимах работы линейных схем замещения;
- проведением экспериментальных испытаний электрических цепей, электротехнических устройств с анализом результатов испытаний.

Преподавание дисциплины предусматривает следующие формы организации учебного процесса: лекции, лабораторные работы, практические занятия, самостоятельная работа студента.

Программой дисциплины предусмотрены следующие виды контроля: текущий контроль успеваемости, промежуточная аттестация в форме экзамена.

Общая трудоемкость освоения дисциплины составляет 3 зачетных единицы, 108 часов.

Язык обучения по дисциплине «русский»

## 1. Перечень планируемых результатов обучения по дисциплине

### 1.1. Цели преподавания дисциплины

Целью преподавания дисциплины является формирование у студентов необходимых знаний о законах и методах расчета электрических цепей электротехнических устройств, приобретение навыков расчета и анализа параметров электрических цепей, токов и напряжений в установившихся режимах работы линейных схем замещения электрических цепей, умение пользоваться электроизмерительными приборами. Обучающиеся должны освоить дисциплину на уровне, позволяющем им использовать на практике методы расчета и анализа электрических цепей. Уровень освоения дисциплины должен позволять студентам проводить типовые расчеты основных электрических схем, проводить элементарные лабораторные испытания электротехнических устройств.

1.2. Дисциплина входит в состав обязательной части образовательной программы высшего образования (далее – ОП ВО).

1.3. Перечень планируемых результатов обучения по дисциплине, соотнесенных с планируемыми результатами освоения ОП ВО.

В результате изучения дисциплины обучающийся должен обладать следующими компетенциями или их частями. Компетенции и индикаторы их достижения приведены в таблице 1.

Таблица 1 – Перечень компетенций и индикаторов их достижения

Категория (группа) компетенции	Код и наименование компетенции	Код и наименование индикатора достижения компетенции
Общепрофессиональные компетенции	ОПК-1 Способен использовать положения, законы и методы естественных наук и математики для решения задач инженерной деятельности	ОПК-1.3.1 знать фундаментальные законы природы и основные физические и математические законы ОПК-1.У.1 уметь применять физические законы и математические методы для решения задач теоретического и прикладного характера ОПК-1.В.1 владеть навыками использования знаний физики и математики при решении практических задач
Общепрофессиональные компетенции	ОПК-2 Способен самостоятельно проводить экспериментальные исследования и использовать основные приемы обработки и представления полученных данных	ОПК-2.3.1 знать основные методы и средства проведения экспериментальных исследований, системы стандартизации и сертификации ОПК-2.У.1 уметь формулировать в рамках поставленной цели проекта совокупность взаимосвязанных задач, обеспечивающих ее достижение; оценивать достоинства и недостатки возможных вариантов решения задачи; определять ожидаемые результаты решения выделенных задач; выбирать способы и средства измерений и проводить экспериментальные исследования ОПК-2.В.1 владеть способами обработки и представления полученных данных и оценки погрешности результатов

	измерений
--	-----------

## 2. Место дисциплины в структуре ОП

Дисциплина может базироваться на знаниях, ранее приобретенных обучающимися при изучении следующих дисциплин:

- «Математика. Математический анализ»,
- «Физика».

Знания, полученные при изучении материала данной дисциплины, имеют как самостоятельное значение, так и используются при изучении других дисциплин:

- «Схемотехника аналоговых электронных устройств».

## 3. Объем и трудоемкость дисциплины

Данные об общем объеме дисциплины, трудоемкости отдельных видов учебной работы по дисциплине (и распределение этой трудоемкости по семестрам) представлены в таблице 2.

Таблица 2 – Объем и трудоемкость дисциплины

Вид учебной работы	Всего	Трудоемкость по семестрам
		№4
1	2	3
<b>Общая трудоемкость дисциплины, ЗЕ/ (час)</b>	3/ 108	3/ 108
<b>Из них часов практической подготовки</b>		
<b>Аудиторные занятия, всего час.</b>	16	16
в том числе:		
лекции (Л), (час)	6	6
практические/семинарские занятия (ПЗ), (час)	4	4
лабораторные работы (ЛР), (час)	6	6
курсовой проект (работа) (КП, КР), (час)		
экзамен, (час)	9	9
<b>Самостоятельная работа, всего (час)</b>	83	83
<b>Вид промежуточной аттестации:</b> зачет, дифф. зачет, экзамен (Зачет, Дифф. зач, Экз.**)	Экз.	Экз.

Примечание: \*\* кандидатский экзамен

## 4. Содержание дисциплины

### 4.1. Распределение трудоемкости дисциплины по разделам и видам занятий.

Разделы, темы дисциплины и их трудоемкость приведены в таблице 3.

Таблица 3 – Разделы, темы дисциплины, их трудоемкость

Разделы, темы дисциплины	Лекции (час)	ПЗ (СЗ) (час)	ЛР (час)	КП (час)	СРС (час)
Семестр 4					
Раздел 1. Основные понятия теории электрических цепей.					10
Тема 1.1. Предмет и цель курса «Электротехника». Электромагнитная модель устройства и системы.	0.4				
Тема 1.2 Электрическая цепь. Система величин,	0.4				

используемая при описании цепи. Структурные элементы цепи.					
Раздел 2 Законы электрической цепи. Тема 2.1 Основные топологические элементы и множества. Закон токов Кирхгофа. Закон напряжений Кирхгофа. Тема 2.2 Математическая модель цепи - «уравнение цепи».	0.4 0.6				10
Раздел 3 Методы анализа цепей постоянного тока. Тема 3.1 Анализ цепей методами эквивалентных преобразований, по законам Кирхгофа, методами узловых напряжений и токов связей. Тема 3.2 Методы проверки расчетов: по балансу мощностей, законам Кирхгофа.	0.6 0.6	2	2		20
Раздел 4 Линейные цепи в гармоническом режиме. Тема 4.1 Основные величины характеризующие гармонический режим. Тема 4.2 Комплексные изображения гармонических величин. Тема 4.3 Расчет пассивных двухполюсников со смешанным соединением элементов.	0.6 0.6 0.6	2	2		21
Раздел 5 Резонанс в линейных электрических цепях. Тема 5.1 условия и виды резонанса. Определение резонансных величин. Тема 5.2 Резонанс в последовательном контуре (резонанс напряжений) Тема 5.3 Резонанс в параллельном контуре (резонанс токов)	0.4 0.4 0.4		2		22
Итого в семестре:	6	4	6		83
Итого	6	4	6	0	83

Практическая подготовка заключается в непосредственном выполнении обучающимися определенных трудовых функций, связанных с будущей профессиональной деятельностью.

#### 4.2. Содержание разделов и тем лекционных занятий.

Содержание разделов и тем лекционных занятий приведено в таблице 4.

Таблица 4 – Содержание разделов и тем лекционного цикла

Номер раздела	Название и содержание разделов и тем лекционных занятий
Раздел 1	Введение. Основные понятия теории электрических цепей.
Тема 1.1	Предмет и цель курса «Электротехника». Электромагнитная модель устройства и системы. Классификация моделей: линейные и нелинейные; стационарные и нестационарные; с сосредоточенными и распределенными параметрами
Тема 1.2	Электрическая цепь. Система величин, используемая при описании цепи. Структурные элементы цепи, активные и пассивные элементы, их свойства, уравнения и параметры. Линейные и нелинейные элементы. Цепи с сосредоточенными

	и распределенными параметрами
Раздел 2	Законы электрической цепи.
Тема 2.1	Основные топологические элементы и множества: двухполюсник, узел, сечение, контур, граф электрической цепи. Закон токов Кирхгофа. Закон напряжений Кирхгофа. Закон электромагнитной индукции
Тема 2.2	Математическая модель цепи - «уравнение цепи». Совокупность уравнений элементов и уравнений их соединений. Ветвь как двухполюсник, ток и напряжение которого связаны уравнением ветви
Раздел 3	Методы анализа цепей постоянного тока.
Тема 3.1	Анализ цепей методами эквивалентных преобразований, по законам Кирхгофа, методами узловых напряжений и токов связей.
Тема 3.2	Методы проверки расчетов: по балансу мощностей, законам Кирхгофа.
Раздел 4	Линейные цепи в гармоническом режиме.
Тема 4.1	Основные величины характеризующие гармонический режим. Мгновенное, среднее и действующее значения. Вращающиеся векторы, векторные диаграммы. Пассивные элементы в гармоническом режиме. Мощность.
Тема 4.2	Комплексные изображения гармонических величин. Комплексные амплитуды и действующие значения. Комплексные сопротивления и проводимости. Уравнения соединений в комплексной форме. Комплексная мощность. Мощности: активная, реактивная, полная. Баланс активных и реактивных мощностей
Тема 4.3	Расчет пассивных двухполюсников со смешанным соединением элементов. Входные и эквивалентные сопротивления и проводимости. Резонанс: условия и виды резонанса. Определение резонансных величин.
Раздел 5	Резонанс в линейных электрических цепях.
Тема 5.1	Условия и виды резонанса. Определение резонансных величин.
Тема 5.2	Резонанс в последовательном контуре (резонанс напряжений) Волновое сопротивление. Добротность. Полоса пропускания и частотные характеристики последовательного контура
Тема 5.3	Резонанс в параллельном контуре (резонанс токов) Волновая проводимость. Добротность. Полоса пропускания и частотные характеристики параллельного контура

#### 4.3. Практические (семинарские) занятия

Темы практических занятий и их трудоемкость приведены в таблице 5.

Таблица 5 – Практические занятия и их трудоемкость

№ п/п	Темы практических занятий	Формы практических занятий	Трудоемкость, (час)	Из них практической подготовки, (час)	№ раздела дисциплины
Семестр 4					
1	Расчет резистивной цепи методом преобразований	РГЗ	0.8		3
2	Расчет резистивной	РГЗ	1.2		3

	цепи общими методами				
3	Расчет пассивного двухполюсника в комплексных амплитудах.	РГЗ	2		4
Всего			4		

#### 4.4. Лабораторные занятия

Темы лабораторных занятий и их трудоемкость приведены в таблице 6.

Таблица 6 – Лабораторные занятия и их трудоемкость

№ п/п	Наименование лабораторных работ	Трудоемкость, (час)	Из них практической подготовки, (час)	№ раздела дисциплины
Семестр 4				
1	Разветвленная линейная электрическая цепь постоянного тока	2		3
2	Исследование простых электрических цепей в гармоническом режиме	2		4
3	Электрическая цепь переменного тока с последовательным соединением (резонанс напряжений)	2		5
Всего		6		

4.5. Курсовое проектирование/ выполнение курсовой работы  
Учебным планом не предусмотрено

#### 4.6. Самостоятельная работа обучающихся

Виды самостоятельной работы и ее трудоемкость приведены в таблице 7.

Таблица 7 – Виды самостоятельной работы и ее трудоемкость

Вид самостоятельной работы	Всего, час	Семестр 4, час
1	2	3
Изучение теоретического материала дисциплины (ТО)	20	20
Расчетно-графические задания (РГЗ)	20	20
Подготовка к текущему контролю успеваемости (ТКУ)	10	10
Контрольные работы заочников (КРЗ)	23	23
Подготовка к промежуточной аттестации (ПА)	10	10
Всего:	83	83

### 5. Перечень учебно-методического обеспечения

для самостоятельной работы обучающихся по дисциплине (модулю)

Учебно-методические материалы для самостоятельной работы обучающихся указаны в п.п. 7-11.



6. Перечень печатных и электронных учебных изданий

Перечень печатных и электронных учебных изданий приведен в таблице 8.

Таблица 8– Перечень печатных и электронных учебных изданий

Шифр/ URL адрес	Библиографическая ссылка	Количество экземпляров в библиотеке (кроме электронных экземпляров)
<a href="http://e.lanbook.com/book/19345">http://e.lanbook.com/book/19345</a>	Электротехника. Линейная электрическая цепь с сосредоточенными параметрами в установившемся режиме : [ Электронный ресурс ] : учебное пособие / Б. А. Артемьев ; С.-Петерб. гос. ун-т аэрокосм. приборостроения. - Электрон. текстовые дан. - СПб. : Изд-во ГУАП, 2013. - 86 с.	
621.3(075) К89	Теоретическая электротехника : учебник / В. А. Кузовкин. - М. : Университетская книга ; М. : Логос, 2005. - 480 с.	10
621.3 К 28	Электротехника : учебник / А. С. Касаткин, М. В. Немцов. - 9-е изд., стер. - М. : Академия, 2005. - 544 с.	22
621.3 Б 43	Электротехника и основы электроники : учебное пособие / Н. В. Белов, Ю. С. Волков. - СПб. [и др.] : Лань, 2012. - 430 с.	10
621.3 Б 93	Электротехника : учебник для СПО / П. А. Бутырин. - М. : Академия, 2006. - 272 с	10
621.3 Т 33	Теоретические основы электротехники : учебник : в 3 т. / К. С. Демирчян [и др.]. - 4-е изд., доп. - ISBN 5-94723-620-6. Т. 1. - СПб. : ПИТЕР, 2006. - 463 с	18
621.3 Т 33	Теоретические основы электротехники : учебник : в 3 т. / К. С. Демирчян [и др.]. - 4-е изд., доп. - ISBN 5-94723-620-6. Т. 2. - СПб. : ПИТЕР, 2006. - 576 с.	19
621.3 Т 33	Теоретические основы электротехники : учебник : в 3 т. / К. С. Демирчян [и др.]. - 4-е изд., доп. - ISBN 5-94723-620-6. Т. 3. - СПб. : ПИТЕР, 2006. - 377 с.	20
621.3 Л 13	Линейные электрические цепи. Установившиеся режимы : учебное пособие / В. Я. Лавров ; С.-Петерб. гос. ун-т аэрокосм. приборостроения. - СПб. : Изд-во ГУАП, 2010. - 232 с.	225

7. Перечень электронных образовательных ресурсов информационно-телекоммуникационной сети «Интернет»

Перечень электронных образовательных ресурсов информационно-телекоммуникационной сети «Интернет», необходимых для освоения дисциплины приведен в таблице 9.

Таблица 9 – Перечень электронных образовательных ресурсов информационно-телекоммуникационной сети «Интернет»

URL адрес	Наименование
-----------	--------------

www.kurstoe.ru	Курс лекций по ТОЭ
www.bourabai.ru	Теоретические основы электротехники и электроники
www.toehelp.ru	Лекции и задачи по ТОЭ

## 8. Перечень информационных технологий

8.1. Перечень программного обеспечения, используемого при осуществлении образовательного процесса по дисциплине.

Перечень используемого программного обеспечения представлен в таблице 10.

Таблица 10– Перечень программного обеспечения

№ п/п	Наименование
	Не предусмотрено

8.2. Перечень информационно-справочных систем, используемых при осуществлении образовательного процесса по дисциплине

Перечень используемых информационно-справочных систем представлен в таблице 11.

Таблица 11– Перечень информационно-справочных систем

№ п/п	Наименование
	Не предусмотрено

## 9. Материально-техническая база

Состав материально-технической базы, необходимой для осуществления образовательного процесса по дисциплине, представлен в таблице 12.

Таблица 12 – Состав материально-технической базы

№ п/п	Наименование составной части материально-технической базы	Номер аудитории (при необходимости)
1	Лекционная аудитория общего доступа.	на ул. Гастелло, 15.
2	Специализированные лаборатории «Линейные электрические цепи» и «Нелинейные электрические и магнитные цепи».	ауд.14-04 и 14-06 на ул. Гастелло, 15.

## 10. Оценочные средства для проведения промежуточной аттестации

10.1. Состав оценочных средств для проведения промежуточной аттестации обучающихся по дисциплине приведен в таблице 13.

Таблица 13 – Состав оценочных средств для проведения промежуточной аттестации

Вид промежуточной аттестации	Перечень оценочных средств
Экзамен	Список вопросов к экзамену; Задачи; Тесты.

10.2. В качестве критериев оценки уровня сформированности (освоения) компетенций обучающимися применяется 5-балльная шкала оценки сформированности компетенций, которая приведена в таблице 14. В течение семестра может использоваться 100-балльная шкала модульно-рейтинговой системы Университета, правила использования которой, установлены соответствующим локальным нормативным актом ГУАП.

Таблица 14 –Критерии оценки уровня сформированности компетенций

Оценка компетенции	Характеристика сформированных компетенций
5-балльная шкала	
«отлично» «зачтено»	<ul style="list-style-type: none"> <li>– обучающийся глубоко и всесторонне усвоил программный материал;</li> <li>– уверенно, логично, последовательно и грамотно его излагает;</li> <li>– опираясь на знания основной и дополнительной литературы, тесно привязывает усвоенные научные положения с практической деятельностью направления;</li> <li>– умело обосновывает и аргументирует выдвигаемые им идеи;</li> <li>– делает выводы и обобщения;</li> <li>– свободно владеет системой специализированных понятий.</li> </ul>
«хорошо» «зачтено»	<ul style="list-style-type: none"> <li>– обучающийся твердо усвоил программный материал, грамотно и по существу излагает его, опираясь на знания основной литературы;</li> <li>– не допускает существенных неточностей;</li> <li>– увязывает усвоенные знания с практической деятельностью направления;</li> <li>– аргументирует научные положения;</li> <li>– делает выводы и обобщения;</li> <li>– владеет системой специализированных понятий.</li> </ul>
«удовлетворительно» «зачтено»	<ul style="list-style-type: none"> <li>– обучающийся усвоил только основной программный материал, по существу излагает его, опираясь на знания только основной литературы;</li> <li>– допускает несущественные ошибки и неточности;</li> <li>– испытывает затруднения в практическом применении знаний направления;</li> <li>– слабо аргументирует научные положения;</li> <li>– затрудняется в формулировании выводов и обобщений;</li> <li>– частично владеет системой специализированных понятий.</li> </ul>
«неудовлетворительно» «не зачтено»	<ul style="list-style-type: none"> <li>– обучающийся не усвоил значительной части программного материала;</li> <li>– допускает существенные ошибки и неточности при рассмотрении проблем в конкретном направлении;</li> <li>– испытывает трудности в практическом применении знаний;</li> <li>– не может аргументировать научные положения;</li> <li>– не формулирует выводов и обобщений.</li> </ul>

### 10.3. Типовые контрольные задания или иные материалы.

Вопросы (задачи) для экзамена представлены в таблице 15.

Таблица 15 – Вопросы (задачи) для экзамена

№ п/п	Перечень вопросов (задач) для экзамена	Код индикатора
1	Элементы электрической цепи. Источники и приемники.	ОПК-1.3.1
2	Реальные и идеализированные пассивные элементы.	ОПК-2.3.1
2	Неуправляемые и управляемые источники. Реальные и идеализированные активные элементы.	ОПК-2.3.1
3	Электрический ток, напряжение и ЭДС. Мощность и энергия.	ОПК-1.3.1
4	Топология электрических цепей. Граф, дерево графа, ветви связи. Ветвь, узел, контур, сечение. Главный контур и главное сечение.	ОПК-1.У.1
5	Последовательное, параллельное и смешанное соединение элементов электрической цепи.	ОПК-2.3.1
6	Закон Ома для участка цепи. Законы Кирхгофа.	ОПК-1.3.1
7	Расчет электрических цепей методом токов связей.	ОПК-1.У.1
8	Расчет электрических цепей методом узловых напряжений.	ОПК-1.У.1

9	Согласование сопротивления нагрузки и сопротивления источника. Условие передачи максимальной мощности. Режим холостого хода и короткого замыкания.	ОПК-2.У.1
10	Переменный ток, напряжение, ЭДС. Основные характеристики гармонического тока (напряжения, ЭДС).	ОПК-1.3.1
11	Метод комплексных амплитуд.	ОПК-1.В.1
12	Сопротивление, индуктивность и емкость в цепях гармонического тока.	ОПК-2.3.1
13	Последовательное и параллельное соединение сопротивления, индуктивности и емкости. Комплексное сопротивление и проводимость цепи.	ОПК-2.3.1
14	Анализ сложных цепей гармонического тока.	ОПК-1.У.1
15	Активная, реактивная и полная мощность в цепи гармонического тока.	ОПК-1.В.1
16	Явление резонанса в электрических цепях. Условие и признаки резонанса. Добротность, коэффициент затухания, полоса пропускания.	ОПК-1.3.1
17	Частотные характеристики (АЧХ, ФЧХ) последовательного контура.	ОПК-2.В.1
18	Что такое последовательное соединение двух резисторов?	ОПК-1.В.1
19	Как можно определить входное сопротивление последовательно соединённых резисторов?	ОПК-1.В.1
20	Какие значения сопротивления, тока и напряжения соответствуют режиму холостого хода?	ОПК-2.У.1
21	Что такое параллельное соединение резисторов?	ОПК-1.В.1
22	Как можно определить входную проводимость параллельно соединённых резисторов?	ОПК-2.У.1
23	Какие значения сопротивления, напряжения и тока соответствуют режиму короткого замыкания?	ОПК-2.У.1
24	Как нужно соединить резисторы, чтобы увеличить входное сопротивление?	ОПК-1.В.1
25	Как нужно соединить резисторы, чтобы уменьшить входное сопротивление?	ОПК-1.В.1
26	Как построить граф электрической цепи?	ОПК-2.В.1
27	Из каких ветвей графа состоит главный контур?	ОПК-2.В.1
28	Какие ветви графа составляют главное сечение?	ОПК-2.В.1
29	Какие уравнения составляются для главных сечений?	ОПК-2.В.1
30	Какие уравнения составляются для главных контуров?	ОПК-2.В.1
31	Чему равно число уравнений токов связей?	ОПК-2.В.1
32	Чему равно число уравнений угловых напряжений?	ОПК-2.В.1
33	Что такое комплексная амплитуда?	ОПК-1.У.1
34	Какими величинами связаны комплексные амплитуды напряжения и тока?	ОПК-1.У.1
35	Что такое индуктивное и ёмкостное сопротивление?	ОПК-1.В.1
36	Что называется индуктивной и ёмкостной проводимостью?	ОПК-1.В.1
37	Какими комплексными сопротивлениями обладают резистор, индуктивность и ёмкость?	ОПК-1.В.1
38	Какие комплексные проводимости имеют резистор, индуктивность и ёмкость?	ОПК-1.В.1
39	Какие углы между напряжением и током имеют место в резисторе, индуктивности и ёмкости?	ОПК-1.В.1
40	Что такое векторная диаграмма?	ОПК-2.В.1

Вопросы (задачи) для зачета / дифф. зачета представлены в таблице 16.  
Таблица 16 – Вопросы (задачи) для зачета / дифф. зачета

№ п/п	Перечень вопросов (задач) для зачета / дифф. зачета	Код индикатора
	Учебным планом не предусмотрено	

Перечень тем для курсового проектирования/выполнения курсовой работы представлены в таблице 17.

Таблица 17 – Перечень тем для курсового проектирования/выполнения курсовой работы

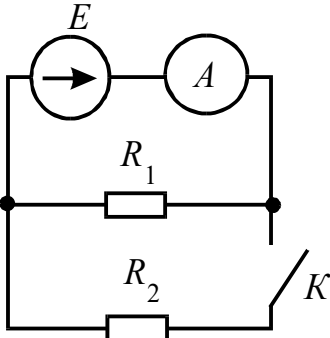
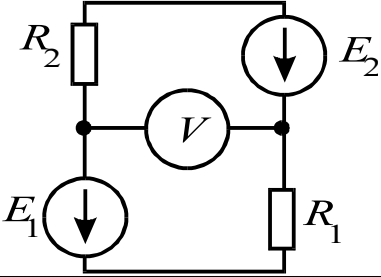
№ п/п	Примерный перечень тем для курсового проектирования/выполнения курсовой работы
	Учебным планом не предусмотрено

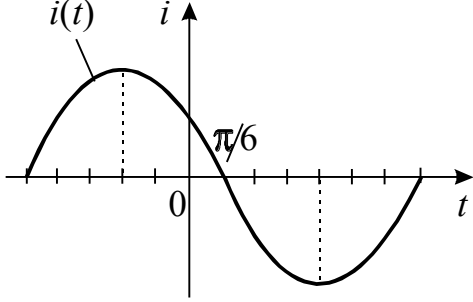
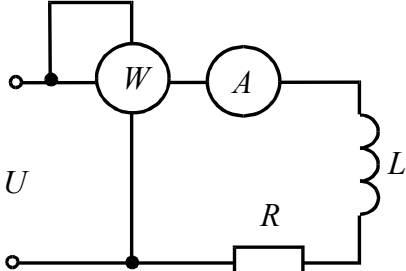
Вопросы для проведения промежуточной аттестации в виде тестирования представлены в таблице 18.

Таблица 18 – Примерный перечень вопросов для тестов

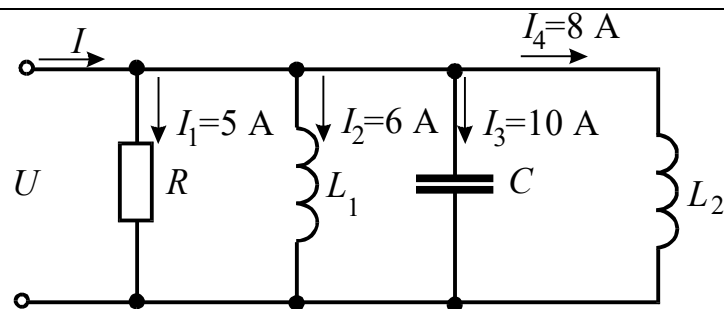
№ п/п	Примерный перечень вопросов для тестов	Код индикатора
1	ЭДС – работа по перемещению единицы заряда 1) по внешнему участку цепи; 2) по всей замкнутой цепи; 3) внутри источника; 4) по сопротивлению нагрузки	ОПК-1.3.1
2	Электрическое сопротивление – это скалярная величина равна отношению электрического напряжения на зажимах двухполюсника к... 1) проводимости двухполюсника; 2) ЭДС двухполюсника; 3) току в двухполюснике; 4) сопротивлению двухполюсника.	ОПК-1.3.1
3	Укажите правильную формулу закона Ома для участка цепи, содержащего ЭДС.  1) $I = \frac{\varphi_a - \varphi_b - E}{R}$ 2) $I = \frac{\varphi_a - \varphi_b + E}{R}$ 3) $I = \frac{\varphi_b - \varphi_a + E}{R}$ 4) $I = (\varphi_b - \varphi_a + E)R$	ОПК-1.3.1
4	Укажите, сколько уравнений по законам Кирхгофа необходимо составить для расчета токов данной схеме.	ОПК-1.В.1

	<p>1) 6 уравнений (из них 3 – по I закону, 3 – по II закону).</p> <p>2) 5 уравнений (из них 2 – по I закону, 3 – по II закону).</p> <p>3) 3 уравнения (из них 1 – по I закону, 2 – по II закону).</p> <p>4) 5 уравнений (из них 3 – по I закону, 2 – по II закону).</p>	
5	<p>Выберите графическую зависимость, соответствующую изменению напряжения от тока <math>U = f(I)</math> на зажимах идеального источника ЭДС:.</p> <p>1) 4; 2) 1; 3) 2; 4) 3.</p>	ОПК-2.В.1
6	<p>Определите величину тока <math>I_1</math>.</p> <p>1) 2A; 2) 4A; 3) -2A; 4) -4A.</p>	ОПК-1.У.1
7	<p>Определить сопротивление <math>R_2</math> при известных значениях параметров элементов и показаниях амперметров</p> <p>1) 15 Ом; 2) 12 Ом; 3) 20 Ом; 4) 30 Ом.</p>	ОПК-1.У.1

8	<p>Как изменится показание амперметра при замыкании ключа?</p>  <p>1) не изменится ; 2) увеличится; 3) станет равным нулю; 4) уменьшится.</p>	ОПК-1.У.1
9	<p>В цепи <math>R_1=15</math> Ом; <math>R_2=25</math> Ом; <math>E_1=120</math> В; <math>E_2=40</math> В. Определить показания вольтметра.</p>  <p>1) 170 В; 2) 80 В; 3) 160 В; 4) 90 В .</p>	ОПК-1.У.1
10	<p>Какой параметр переменного тока влияет на индуктивное сопротивление катушки?</p> <p>1) начальная фаза тока; 2) амплитуда тока; 3) действующее значение тока; 4) период тока.</p>	ОПК-2.У.1
11	<p>Мгновенные значения тока и напряжения в нагрузке заданы следующими выражениями: <math>i = 0,2 \sin(376,8t + 80^\circ)</math> А, <math>u = 250 \sin(376,8t + 170^\circ)</math> В. Определить тип нагрузки.</p> <p>1) активная; 2) активно-индуктивная; 3) активно-емкостная; 4) индуктивная.</p>	ОПК-2.У.1
12	<p>Как изменится ток <math>i</math> при увеличении расстояния между обкладками воздушного конденсатора?</p> <p>1) увеличится; 2) уменьшится; 3) не изменится.</p>	ОПК-2.У.1
13	<p>Определите начальную фазу переменного тока, представленного на графике.</p>	ОПК-2.В.1

	 <p>1) <math>\pi/6</math>;</p> <p>2) минус <math>\pi/6</math>;</p> <p>3) <math>3\pi/6</math>;</p> <p>4) <math>5\pi/6</math>.</p>	
14	<p>Выберите правильную формулу связи амплитудного и действующего значения.</p> <p>1) <math>I_m = I/\sqrt{2}</math>; 2) <math>I = \sqrt{2}/I_m</math>; 3) <math>I_m = I\sqrt{2}</math>; 4) <math>I = I_m\sqrt{2}</math>.</p>	ОПК-1.У.1
15	<p>В какой цепи можно получить резонанс напряжений?</p> <p>1) с последовательным соединением резистора и катушки;</p> <p>2) с последовательным соединением резистора и емкостного элемента;</p> <p>3) с последовательным соединением катушки и емкостного элемента;</p> <p>4) с параллельным соединением катушки и емкостного элемента.</p>	ОПК-1.3.1
16	<p>Определить величину сопротивления <math>X_L</math>, если <math>U = 100</math> В, ваттметр показывает 400 Вт, амперметр – 5 Ампер.</p>  <p>1) 20 Ом;</p> <p>2) 12 Ом ;</p> <p>3) 30 Ом;</p> <p>4) 60 Ом.</p>	ОПК-1.В.1
17	<p>Определите ток в неразветвленной части цепи.</p>	ОПК-1.В.1





- 1)  $\sqrt{29}$  А; 2)  $\sqrt{41}$  А; 3) 12 А; 4) 29А.

29 А.

Перечень тем контрольных работ по дисциплине обучающихся заочной формы обучения, представлены в таблице 19.

Таблица 19 – Перечень контрольных работ

№ п/п	Перечень контрольных работ
1	Реактивное сопротивление последовательной RLC-цепи при резонансе равно: а) нулю б) активному сопротивлению в) бесконечности г) емкостному сопротивлению
2	Угол $\varphi$ сдвига фаз между напряжением источника и током в последовательной RLC-цепи при резонансе: а) $-90^\circ$ б) $+90^\circ$ в) $0^\circ$ г) зависит от реактивного сопротивления
3	Полное сопротивление на резонансной частоте последовательной RLC-цепи с $L=15$ мГн, $C = 0.015$ мкФ и $R = 80$ Ом равно: а) 15 кОм б) 80 Ом в) 30 Ом г) 0 Ом
4	В последовательной RLC-цепи, работающей на резонансной частоте, ток а) совпадает по фазе с приложенным напряжением; б) отстает по фазе от напряжения; в) опережает по фазе напряжение
5	Если величина $C$ в последовательной RLC-цепи увеличится, резонансная частота а) уменьшится б) увеличится в) не изменится
6	Если величина $L$ в последовательной RLC-цепи уменьшится, резонансная частота а) уменьшится б) увеличится в) не изменится
7	Если величина $R$ в последовательной RLC-цепи увеличится, резонансная частота а) уменьшится б) увеличится в) не изменится
8	В последовательной RLC-цепи при резонансе $UC = 150$ В, $UL = 150$ В, $UR = 50$ В. Тогда величина напряжения источника равна: а) 150 В б) 300 В в) 50 В г) 350 В
9	В последовательной RC-цепи напряжение на резистивном элементе: а) совпадает по фазе с напряжением источника; б) опережает по фазе на $90^\circ$ напряжение источника; в) опережает по фазе на $90^\circ$ ток; г) совпадает по фазе с током.
10	В последовательной RC-цепи напряжение на емкостном элементе: а) совпадает по фазе с напряжением источника; б) опережает по фазе на $90^\circ$ напряжение источника; в) отстает по фазе на $90^\circ$ от тока; г) совпадает по фазе с током.
11	В последовательной RL-цепи напряжение на резистивном элементе: а) совпадает по фазе с напряжением источника; б) опережает по фазе на $90^\circ$ напряжение источника; в) опережает по фазе на $90^\circ$ ток; г) совпадает по фазе с

	током
12	В последовательной $RL$ -цепи напряжение на индуктивном элементе: а) совпадает по фазе с напряжением источника; б) опережает по фазе на $90^\circ$ ток; в) отстает по фазе на $90^\circ$ от тока; г) совпадает по фазе с током.
13	Если частота напряжения, приложенного к последовательной $RC$ -цепи, увеличится, то полное сопротивление цепи: а) уменьшится б) увеличится в) не изменится г) удвоится
14	Если частота напряжения, приложенного к последовательной $RC$ -цепи, увеличится, то полное сопротивление цепи: а) уменьшится б) увеличится в) не изменится г) удвоится
15	Если частота напряжения, приложенного к последовательной $RL$ -цепи, увеличится, то полное сопротивление цепи: а) уменьшится б) увеличится в) не изменится г) удвоится
16	Если частота напряжения, приложенного к последовательной $RL$ -цепи, увеличится, то угол $\varphi$ сдвига фаз между напряжением и током: а) уменьшится б) увеличится в) не изменится г) станет равным нулю
17	Если частота напряжения, приложенного к последовательной $RC$ -цепи, увеличится, то угол $\varphi$ сдвига фаз между напряжением и током: а) уменьшится б) увеличится в) не изменится г) станет равным нулю
18	Если в последовательной $RC$ -цепи удвоить частоту и величину активного сопротивления, то полное сопротивление цепи:
19	Если в последовательной $RC$ -цепи среднеквадратичное значение напряжений $U_R = 10$ В, $U_C = 10$ В, то среднеквадратичное значение приложенного к цепи напряжения равно: а) 20 В б) 14,4 В в) 28,8 В г) 10 В
20	Если в последовательной $RC$ -цепи среднеквадратичное значение напряжений $U_R = 10$ В, $U_C = 10$ В, то амплитудное значение приложенного к цепи напряжения равно: а) 20 В б) 14,4 В в) 28,8 В г) 10 В
21	Если в последовательной $RC$ -цепи среднеквадратичное значение напряжений $U_R = 10$ В, $U_C = 10$ В, то амплитудное значение приложенного к цепи напряжения равно: а) 20 В б) 14,4 В в) 28,8 В г) 10 В
22	В последовательной $RC$ -цепи среднеквадратичное значение напряжений $U_R = 10$ В, $U_C = 10$ В. Чтобы напряжение на резистивном элементе стало больше, чем на емкостном, частота: а) должна быть увеличена; б) уменьшена; в) оставлена неизменной; г) не оказывает влияния
23	В последовательной $RL$ -цепи среднеквадратичное значение напряжений $U_R = 10$ В, $U_L = 10$ В. Чтобы напряжение на резистивном элементе стало больше, чем на индуктивном, частота: а) должна быть увеличена; б) должна быть уменьшена; в) оставлена неизменной; г) не оказывает влияния
24	Если в последовательной $RL$ -цепи $x_L = R$ , то угол $\varphi$ сдвига фаз между током и напряжением источника равен: а) $-90^\circ$ б) $+90^\circ$ в) $0^\circ$ г) $+45^\circ$
25	Если в последовательной $RC$ -цепи $x_C = R$ , то угол $\varphi$ сдвига фаз между током и напряжением источника равен: а) $-90^\circ$ б) $-45^\circ$ в) $0^\circ$ г) $+90^\circ$
26	Если частота источника напряжения увеличится, то полное сопротивление параллельной $RC$ -цепи: а) уменьшится б) увеличится в) не изменится

27	Если частота источника напряжения уменьшится, то полное сопротивление параллельной $RL$ -цепи: а) уменьшится б) увеличится в) не изменится
28	Если частота источника напряжения увеличится, то полное сопротивление последовательной $RC$ -цепи: а) уменьшится б) увеличится в) не изменится
29	Если частота источника напряжения уменьшится, то полное сопротивление последовательной $RL$ -цепи: а) уменьшится б) увеличится в) не изменится
30	Если в параллельной $RC$ -цепи среднееквадратичное значение токов $I_C = 1$ А и $I_R = 1$ А, то среднееквадратичное значение общего для этих ветвей тока равно: а) 1 А б) 2 А в) 2,28 А г) 1,414 А
31	Если в параллельной $RC$ -цепи среднееквадратичное значение токов $I_C = 1$ А и $I_R = 1$ А, то амплитудное значение общего для этих ветвей тока равно: а) 1 А б) 2 А в) 2,28 А г) 1,414 А
32	Если в параллельной $RL$ -цепи среднееквадратичное значение токов $I_L = 1$ А и $I_R = 1$ А, то среднееквадратичное значение общего для этих ветвей тока равно: а) 1 А б) 2 А в) 2,28 А г) 1,414 А
33	Если в параллельной $RL$ -цепи среднееквадратичное значение токов $I_L = 1$ А и $I_R = 1$ А, то амплитудное значение общего для этих ветвей тока равно: а) 1 А б) 2 А в) 2,28 А г) 1,414 А
34	Коэффициент мощности равен 1, если угол $\varphi$ сдвига фаз между напряжением и током в цепи равен: а) $90^\circ$ б) $45^\circ$ в) $0^\circ$ г) $180^\circ$

10.1. Методические материалы, определяющие процедуры оценивания индикаторов, характеризующих этапы формирования компетенций, содержатся в локальных нормативных актах ГУАП, регламентирующих порядок и процедуру проведения текущего контроля успеваемости и промежуточной аттестации обучающихся ГУАП.

## 11. Методические указания для обучающихся по освоению дисциплины

Целью преподавания дисциплины является формирование у студентов необходимых знаний о законах и методах расчета электрических цепей электротехнических устройств, приобретение навыков расчета и анализа параметров электрических цепей, токов и напряжений в установившихся режимах работы линейных схем замещения электрических цепей, умение пользоваться электроизмерительными приборами. Обучающиеся должны освоить дисциплину на уровне, позволяющем им использовать на практике методы расчета и анализа электрических и магнитных цепей. Уровень освоения дисциплины должен позволять студентам проводить типовые расчеты основных электрических схем, проводить элементарные лабораторные испытания электротехнических устройств.

### 11.1. Методические указания для обучающихся по освоению лекционного материала

Основное назначение лекционного материала – логически стройное, системное, глубокое и ясное изложение учебного материала. Назначение современной лекции в рамках дисциплины не в том, чтобы получить всю информацию по теме, а в освоении фундаментальных проблем дисциплины, методов научного познания, новейших достижений научной мысли. В учебном процессе лекция выполняет методологическую, организационную и информационную функции. Лекция раскрывает понятийный аппарат

конкретной области знания, её проблемы, дает цельное представление о дисциплине, показывает взаимосвязь с другими дисциплинами.

Планируемые результаты при освоении обучающимися лекционного материала:

- получение современных, целостных, взаимосвязанных знаний, уровень которых определяется целевой установкой к каждой конкретной теме;
- получение опыта творческой работы совместно с преподавателем;
- развитие профессионально-деловых качеств, любви к предмету и самостоятельного творческого мышления.
- появление необходимого интереса, необходимого для самостоятельной работы;
- получение знаний о современном уровне развития науки и техники и о прогнозе их развития на ближайшие годы;
- научиться методически обрабатывать материал (выделять главные мысли и положения, приходить к конкретным выводам, повторять их в различных формулировках);
- получение точного понимания всех необходимых терминов и понятий.

Структура предоставления лекционного материала:

- Основные понятия теории электрических цепей;
- Законы электрической цепи;
- Методы анализа цепей постоянного тока;
- Линейные цепи в гармоническом режиме;
- Резонанс в линейных электрических цепях.

Подробные методические указания по освоению лекционного материала приведены в учебных пособиях:

- 1) Основы теории цепей. Установившиеся режимы: [ Электронный ресурс ] : тест лекций / В. В. Колесников ; С.-Петербург. гос. ун-т аэрокосм. приборостроения. - Документ включает в себя 1 файл, размер: (1175 Kb). - СПб. : Изд-во ГУАП, 2006. - 100 с.
- 2) Электротехника. Линейная электрическая цепь с сосредоточенными параметрами в установившемся режиме: [ Электронный ресурс ] : учебное пособие / Б. А. Артемьев ; С.-Петербург. гос. ун-т аэрокосм. приборостроения. - Электрон. текстовые дан. - СПб. : Изд-во ГУАП, 2013. - 86 с.

## 11.2. Методические указания для обучающихся по прохождению практических занятий

Практическое занятие является одной из основных форм организации учебного процесса, заключающаяся в выполнении обучающимися под руководством преподавателя комплекса учебных заданий с целью усвоения научно-теоретических основ учебной дисциплины, приобретения умений и навыков, опыта творческой деятельности.

Целью практического занятия для обучающегося является привитие обучающимся умений и навыков практической деятельности по изучаемой дисциплине.

Планируемые результаты при освоении обучающимися практических занятий:

- закрепление, углубление, расширение и детализация знаний при решении конкретных задач;
- развитие познавательных способностей, самостоятельности мышления, творческой активности;
- овладение новыми методами и методиками изучения конкретной учебной дисциплины;
- выработка способности логического осмысления полученных знаний для выполнения заданий;

– обеспечение рационального сочетания коллективной и индивидуальной форм обучения.

Подробные методические указания по проведению практических занятий приведены в

Расчет электрических цепей: [ Электронный ресурс ] : методические указания к выполнению практических заданий по электротехническим курсам дисциплин. Ч. 1 / С.-Петербург. гос. ун-т аэрокосм. приборостроения ; сост.: В. А. Голубков [и др.]. - Электрон. текстовые дан. - СПб. : Изд-во ГУАП, 2018. - 59 с

11.3. Методические указания для обучающихся по выполнению лабораторных работ

В ходе выполнения лабораторных работ обучающийся должен углубить и закрепить знания, практические навыки, овладеть современной методикой и техникой эксперимента в соответствии с квалификационной характеристикой обучающегося. Выполнение лабораторных работ состоит из экспериментально-практической, расчетно-аналитической частей и контрольных мероприятий.

Выполнение лабораторных работ обучающимся является неотъемлемой частью изучения дисциплины, определяемой учебным планом, и относится к средствам, обеспечивающим решение следующих основных задач обучающегося:

- приобретение навыков исследования процессов, явлений и объектов, изучаемых в рамках данной дисциплины;
- закрепление, развитие и детализация теоретических знаний, полученных на лекциях;
- получение новой информации по изучаемой дисциплине;
- приобретение навыков самостоятельной работы с лабораторным оборудованием и приборами.

Подробные методические указания с заданиями, рекомендациями по структуре, форме отчета и оформлению лабораторных работ приведены в

Электротехника : [ Электронный ресурс ] : лабораторный практикум / С. И. Бардинский [и др.] ; С.-Петербург. гос. ун-т аэрокосм. приборостроения. - Электрон. текстовые дан. - СПб. : Изд-во ГУАП, 2017. - 190 с.

11.4. Методические указания для обучающихся по прохождению самостоятельной работы

В ходе выполнения самостоятельной работы, обучающийся выполняет работу по заданию и при методическом руководстве преподавателя, но без его непосредственного участия.

Для обучающихся по заочной форме обучения, самостоятельная работа может включать в себя контрольную работу.

В процессе выполнения самостоятельной работы, у обучающегося формируется целесообразное планирование рабочего времени, которое позволяет им развивать умения и навыки в усвоении и систематизации приобретаемых знаний, обеспечивает высокий уровень успеваемости в период обучения, помогает получить навыки повышения профессионального уровня.

Методическими материалами, направляющими самостоятельную работу обучающихся являются:

- учебно-методический материал по дисциплине;
- методические указания по выполнению контрольных работ (для обучающихся по заочной форме обучения).

11.5. Методические указания для обучающихся по прохождению текущего контроля успеваемости.

Текущий контроль успеваемости предусматривает контроль качества знаний обучающихся, осуществляемого в течение семестра с целью оценивания хода освоения дисциплины.

Текущий контроль успеваемости студентов проводится путем мониторинга результатов выполнения лабораторных работ, контрольным вопросам на защите практических и лабораторных работ, путем получения обратной связи во время проведения лекций.

Своевременная сдача отчетов по лабораторным и практическим заданиям и положительный результат на защите этих работ может учитываться при проведении промежуточной аттестации.

11.6. Методические указания для обучающихся по прохождению промежуточной аттестации.

Промежуточная аттестация обучающихся предусматривает оценивание промежуточных и окончательных результатов обучения по дисциплине. Она включает в себя:

– экзамен – форма оценки знаний, полученных обучающимся в процессе изучения всей дисциплины или ее части, навыков самостоятельной работы, способности применять их для решения практических задач. Экзамен, как правило, проводится в период экзаменационной сессии и завершается аттестационной оценкой «отлично», «хорошо», «удовлетворительно», «неудовлетворительно».

Система оценок при проведении промежуточной аттестации осуществляется в соответствии с требованиями Положений «О текущем контроле успеваемости и промежуточной аттестации студентов ГУАП, обучающихся по программы высшего образования» и «О модульно-рейтинговой системе оценки качества учебной работы студентов в ГУАП».

Лист внесения изменений в рабочую программу дисциплины

Дата внесения изменений и дополнений. Подпись внесшего изменения	Содержание изменений и дополнений	Дата и № протокола заседания кафедры	Подпись зав. кафедрой