

МИНИСТЕРСТВО НАУКИ И ВЫСШЕГО ОБРАЗОВАНИЯ РОССИЙСКОЙ  
ФЕДЕРАЦИИ  
федеральное государственное автономное образовательное учреждение высшего  
образования  
"САНКТ-ПЕТЕРБУРГСКИЙ ГОСУДАРСТВЕННЫЙ УНИВЕРСИТЕТ  
АЭРОКОСМИЧЕСКОГО ПРИБОРОСТРОЕНИЯ"

Кафедра № 32

УТВЕРЖДАЮ

Руководитель направления

доц., к.т.н., доц.

(должность, уч. степень, звание)

С.В. Солёный

(инициалы, фамилия)



(подпись)

«22» июня 2023 г.

РАБОЧАЯ ПРОГРАММА ДИСЦИПЛИНЫ

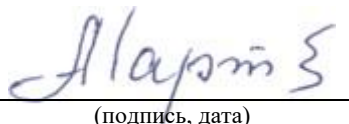
«Энергетическая электроника»  
(Наименование дисциплины)

Код направления подготовки	13.03.02
Наименование направления подготовки	Электроэнергетика и электротехника
Наименование направленности	Цифровая энергетика
Форма обучения	заочная

## Лист согласования рабочей программы дисциплины

Программу составил (а)

\_\_\_\_\_  
ДОЦ., К.Т.Н., ДОЦ.  
(должность, уч. степень, звание)


  
\_\_\_\_\_  
(подпись, дата)

\_\_\_\_\_  
А.А. Мартынов  
(инициалы, фамилия)

Программа одобрена на заседании кафедры № 32  
«24» апреля 2023 г, протокол № 6

Заведующий кафедрой № 32


\_\_\_\_\_  
К.Т.Н., ДОЦ.  
(уч. степень, звание)

  
\_\_\_\_\_  
(подпись, дата)

\_\_\_\_\_  
С.В. Солёный  
(инициалы, фамилия)

Ответственный за ОП ВО 13.03.02(03)

\_\_\_\_\_  
ДОЦ., К.Т.Н., ДОЦ.  
(должность, уч. степень, звание)

  
\_\_\_\_\_  
(подпись, дата)

\_\_\_\_\_  
О.Я. Солёная  
(инициалы, фамилия)

Заместитель директора института №3 по методической работе

\_\_\_\_\_  
ст. преподаватель  
(должность, уч. степень, звание)

  
\_\_\_\_\_  
(подпись, дата)

\_\_\_\_\_  
Н.В. Решетникова  
(инициалы, фамилия)

## Аннотация

Дисциплина «Энергетическая электроника» входит в образовательную программу высшего образования – программу бакалавриата по направлению подготовки 13.03.02 «Электроэнергетика и электротехника» направленности «Цифровая энергетика». Дисциплина реализуется кафедрой «№32».

Дисциплина не является обязательной при освоении обучающимся образовательной программы и направлена на углубленное формирование следующих компетенций:

ПК-5 «Способен проводить анализ и контроль параметров и условий работы отдельных компонентов электроэнергетической системы»

Содержание дисциплины охватывает круг вопросов, связанных с

- устройства, принципа работы и характеристик полупроводниковых приборов энергетической электроники;
- устройства, принципа работы и характеристик полупроводниковых преобразователей энергетической энергии;
- устройств защиты устройств энергетической электроники от сверхтоков и перенапряжений;
- проблемы электромагнитной совместимости устройств энергетической электроники.

В области воспитания личности целью подготовки по данной дисциплине является формирование основ общекультурных и профессиональных компетенций для приобретения качеств, необходимых специалисту по энергетической электронике, таких как целеустремленность, организованность, трудолюбие, ответственность, гражданственность, коммуникативность и способность к саморазвитию и самообразованию и др.

Преподавание дисциплины предусматривает следующие формы организации учебного процесса: лекции, лабораторные работы, самостоятельная работа обучающегося.

Программой дисциплины предусмотрены следующие виды контроля: текущий контроль успеваемости, промежуточная аттестация в форме дифференцированного зачета.

Общая трудоемкость освоения дисциплины составляет 2 зачетных единицы, 72 часа.

Язык обучения по дисциплине «русский».

## 1. Перечень планируемых результатов обучения по дисциплине

### 1.1. Цели преподавания дисциплины

Целью дисциплины является формирование у студентов необходимых знаний и умений по современным устройствам и системам энергетической электроники, что позволит им успешно решать теоретические и практические задачи в их профессиональной деятельности. Обучающиеся должны освоить дисциплину на уровне, позволяющем им ориентироваться в схемных решениях, математических моделях, свойствах и характеристиках устройств и систем энергетической электроники. Уровень освоения дисциплины должен позволять студентам проводить типовые расчеты основных параметров и характеристик устройств и систем энергетической электроники, проводить элементарные лабораторные испытания устройств и систем энергетической электроники.

1.2. Дисциплина является факультативной дисциплиной по направлению образовательной программы высшего образования (далее – ОП ВО).

1.3. Перечень планируемых результатов обучения по дисциплине, соотнесенных с планируемыми результатами освоения ОП ВО.

В результате изучения дисциплины обучающийся должен обладать следующими компетенциями или их частями. Компетенции и индикаторы их достижения приведены в таблице 1.

Таблица 1 – Перечень компетенций и индикаторов их достижения

Категория (группа) компетенции	Код и наименование компетенции	Код и наименование индикатора достижения компетенции
Профессиональные компетенции	ПК-5 Способен проводить анализ и контроль параметров и условий работы отдельных компонентов электроэнергетической системы	ПК-5.Д.1 анализирует зависимости между параметрами и характеристиками компонентов электроэнергетической системы

## 2. Место дисциплины в структуре ОП

Дисциплина может базироваться на знаниях, ранее приобретенных обучающимися при изучении следующих дисциплин:

- Электротехника;
- Электроника;

Знания, полученные при изучении материала данной дисциплины, имеют как самостоятельное значение, так и используются при изучении других дисциплин:

- Электрический привод;
- Проектирование электроприводов.

## 3. Объем и трудоемкость дисциплины

Данные об общем объеме дисциплины, трудоемкости отдельных видов учебной работы по дисциплине (и распределение этой трудоемкости по семестрам) представлены в таблице 2.

Таблица 2 – Объем и трудоемкость дисциплины

Вид учебной работы	Всего	Трудоемкость по семестрам
		№6
1	2	3
<b>Общая трудоемкость дисциплины, ЗЕ/ (час)</b>	2/ 72	2/ 72

<b>Из них часов практической подготовки</b>	2	2
<b>Аудиторные занятия, всего час.</b>	4	4
в том числе:		
лекции (Л), (час)	2	2
практические/семинарские занятия (ПЗ), (час)		
лабораторные работы (ЛР), (час)	2	2
курсовой проект (работа) (КП, КР), (час)		
экзамен, (час)		
<b>Самостоятельная работа, всего (час)</b>	68	68
<b>Вид промежуточной аттестации:</b> зачет, дифф. зачет, экзамен (Зачет, Дифф. зач, Экз.**)	Дифф. Зач.	Дифф. Зач.

Примечание: \*\* кандидатский экзамен

#### 4. Содержание дисциплины

4.1. Распределение трудоемкости дисциплины по разделам и видам занятий.

Разделы, темы дисциплины и их трудоемкость приведены в таблице 3.

Таблица 3 – Разделы, темы дисциплины, их трудоемкость

Разделы, темы дисциплины	Лекции (час)	ПЗ (СЗ) (час)	ЛР (час)	КП (час)	СРС (час)
Семестр 6					
Раздел 1. Выпрямители	0,5		1,0		20
Тема 1.1. Классификация выпрямителей и основные параметры и характеристики выпрямителей.					
Тема 1.2. Многофазные выпрямители					
Тема 1.3. Коммутация тока в выпрямителях и влияние ее на характеристики выпрямителя					
Тема 1.4. Искажение формы тока, потребляемого выпрямителем из питающей сети					
Тема 1.5. Система импульсно-фазового управления					
Тема 1.6. Энергетические показатели выпрямителя.					
Раздел 2. Зависимые инверторы	0,5				18
Раздел 3. Автономные инверторы	0,5		1,0		20
Тема 3.1. Однофазные инверторы тока					
Тема 3.2. Однофазные инверторы напряжения					
Тема 3.3. Трехфазные инверторы напряжения					
Раздел 4. Регуляторы напряжения переменного тока	0,5				10

Итого в семестре:	2	0	2	0	68
Итого	2	0	2	0	68

Практическая подготовка заключается в непосредственном выполнении обучающимися определенных трудовых функций, связанных с будущей профессиональной деятельностью.

#### 4.2. Содержание разделов и тем лекционных занятий.

Содержание разделов и тем лекционных занятий приведено в таблице 4.

Таблица 4 – Содержание разделов и тем лекционного цикла

Номер раздела	Название и содержание разделов и тем лекционных занятий
Раздел 1.	Выпрямители
Тема 1.1	Классификация выпрямителей и основные параметры и характеристики выпрямителей.
Тема 1.2	Многофазные выпрямители: схемы, характеристики, достоинства и недостатки многофазных схем выпрямления. Внешние и регулировочные характеристики. Передаточная функция управляемого выпрямителя.
Тема 1.3	Коммутация тока в выпрямителях и влияние ее на характеристики выпрямителя
Тема 1.4	Искажение формы тока, потребляемого выпрямителем из питающей сети. Коэффициент искажения формы тока, потребляемого выпрямителем из питающей сети
Тема 1.5	Система импульсно-фазового управления (СИФУ): устройство, принцип работы, регулировочные характеристики СИФУ при линейной и косинусоидальной форме опорного сигнала. Передаточная функция СИФУ.
Тема 1.6	Энергетические показатели выпрямителей. Влияние фазности выпрямителя на энергетические показатели управляемого выпрямителя. Энергетические показатели активного выпрямителя.
Раздел 2	Зависимые инверторы. Устройство, принцип работы, внешние характеристики зависимого инвертора, выполненного на однооперационных тиристорах
Раздел 3	Автономные инверторы
Тема 3.1	Устройства, принцип работы, характеристики однофазных инверторов тока параллельного и последовательного типа
Тема 3.2	Устройства, принцип работы, характеристики однофазного инвертора напряжения
Тема 3.3	Устройства, принцип работы, характеристики трехфазного инвертора напряжения с широтно-импульсным регулированием выходного напряжения

Раздел 4	Регуляторы напряжения переменного тока: устройство, принцип работы, характеристики
----------	--

#### 4.3. Практические (семинарские) занятия

Темы практических занятий и их трудоемкость приведены в таблице 5.

Таблица 5 – Практические занятия и их трудоемкость

№ п/п	Темы практических занятий	Формы практических занятий	Трудоемкость, (час)	Из них практической подготовки, (час)	№ раздела дисциплины
Учебным планом не предусмотрено					
Всего					

#### 4.4. Лабораторные занятия

Темы лабораторных занятий и их трудоемкость приведены в таблице 6.

Таблица 6 – Лабораторные занятия и их трудоемкость

№ п/п	Наименование лабораторных работ	Трудоемкость, (час)	Из них практической подготовки, (час)	№ раздела дисциплины
Семестр 6				
1	Трехфазный мостовой управляемый выпрямитель	1,0	1,0	1
2	Трехфазный мостовой инвертор напряжения	1,0	1,0	2
Всего		2	2	

#### 4.5. Курсовое проектирование/ выполнение курсовой работы

Учебным планом не предусмотрено

#### 4.6. Самостоятельная работа обучающихся

Виды самостоятельной работы и ее трудоемкость приведены в таблице 7.

Таблица 7 – Виды самостоятельной работы и ее трудоемкость

Вид самостоятельной работы	Всего, час	Семестр 6, час
1	2	3
Изучение теоретического материала дисциплины (ТО)	40	40
Курсовое проектирование (КП, КР)		
Расчетно-графические задания (РГЗ)		
Выполнение реферата (Р)		
Подготовка к текущему контролю успеваемости (ТКУ)	4	4
Домашнее задание (ДЗ)		

Контрольные работы заочников (КРЗ)	20	20
Подготовка к промежуточной аттестации (ПА)	4	4
Всего:	68	68

5. Перечень учебно-методического обеспечения для самостоятельной работы обучающихся по дисциплине (модулю)  
Учебно-методические материалы для самостоятельной работы обучающихся указаны в п.п. 7-11.

6. Перечень печатных и электронных учебных изданий  
Перечень печатных и электронных учебных изданий приведен в таблице 8.  
Таблица 8– Перечень печатных и электронных учебных изданий

Шифр/ URL адрес	Библиографическая ссылка	Количество экземпляров в библиотеке (кроме электронных экземпляров)
621.314 M29	Мартынов А.А. Силовая электроника. Часть I. Выпрямители и регуляторы переменного напряжения. ГУАП. СПб. 2011. 186 с.	70
621.314 M29	Мартынов А.А. Силовая электроника. Часть II. Инверторы и преобразователи частоты. ГУАП. СПб. 2012. 146с.	70
621.314.5 M29	Мартынов А.А. Проектирование импульсных полупроводниковых преобразователей постоянного напряжения в постоянное напряжение: учеб. пособие/А.А.Мартынов. СПб.: СПбГУАП, 2011. 216 с.:	70
621.314 M29	Мартынов А.А. Силовая электроника: учеб. –метод. Пособие/А.А. Мартынов.-СПб.: ГУАП, 2015.-214с.	70

7. Перечень электронных образовательных ресурсов информационно-телекоммуникационной сети «Интернет»  
Перечень электронных образовательных ресурсов информационно-телекоммуникационной сети «Интернет», необходимых для освоения дисциплины приведен в таблице 9.  
Таблица 9 – Перечень электронных образовательных ресурсов информационно-телекоммуникационной сети «Интернет»

URL адрес	Наименование
<a href="http://194.226.30/32/book.htm">URL:http://194.226.30/32/book.htm</a>	Библиотека Администрации Президента РФ [Электронный ресурс]
URL: <a href="http://imin.urc.ac.ru">http://imin.urc.ac.ru</a>	Виртуальные библиотеки [Электронный ресурс].
URL: <a href="http://www.rsl.ru">http://www.rsl.ru</a>	Российская национальная библиотека [Электронный ресурс].
URL: <a href="http://web.ido.ru">http://web.ido.ru</a>	Электронная библиотека [Электронный ресурс].
URL: <a href="http://gpntb.ru">http://gpntb.ru</a>	Государственная публичная научно-техническая библиотека России [Электронный ресурс].
<a href="http://window.edu.ru/">http://window.edu.ru/</a>	Информационный портал «Единое окно доступа к



	образовательным ресурсам» [Электронный ресурс]
--	--

## 8. Перечень информационных технологий

8.1. Перечень программного обеспечения, используемого при осуществлении образовательного процесса по дисциплине.

Перечень используемого программного обеспечения представлен в таблице 10.

Таблица 10– Перечень программного обеспечения

№ п/п	Наименование
	Не предусмотрено

8.2. Перечень информационно-справочных систем,используемых при осуществлении образовательного процесса по дисциплине

Перечень используемых информационно-справочных систем представлен в таблице 11.

Таблица 11– Перечень информационно-справочных систем

№ п/п	Наименование
	Не предусмотрено

## 9. Материально-техническая база

Состав материально-технической базы, необходимой для осуществления образовательного процесса по дисциплине, представлен в таблице12.

Таблица 12 – Состав материально-технической базы

№ п/п	Наименование составной части материально-технической базы	Номер аудитории (при необходимости)
1	Лекционная аудитория	21-21
2	Специализированная лаборатория «Энергетическая электроника»	51-06-01

## 10. Оценочные средства для проведения промежуточной аттестации

10.1. Состав оценочных средств для проведения промежуточной аттестации обучающихся по дисциплине приведен в таблице 13.

Таблица 13 – Состав оценочных средств для проведения промежуточной аттестации

Вид промежуточной аттестации	Перечень оценочных средств
Дифференцированный зачёт	Список вопросов; Примерный перечень вопросов для тестов; Перечень контрольных работ.

10.2. В качестве критериев оценки уровня сформированности (освоения) компетенций обучающимися применяется 5-балльная шкала оценки сформированности компетенций, которая приведена в таблице 14. В течение семестра может использоваться 100-балльная шкала модульно-рейтинговой системы Университета, правила использования которой, установлены соответствующим локальным нормативным актом ГУАП.

Таблица 14 –Критерии оценки уровня сформированности компетенций

Оценка компетенции	Характеристика сформированных компетенций
5-балльная шкала	

Оценка компетенции 5-балльная шкала	Характеристика сформированных компетенций
«отлично» «зачтено»	<ul style="list-style-type: none"> <li>– обучающийся глубоко и всесторонне усвоил программный материал;</li> <li>– уверенно, логично, последовательно и грамотно его излагает;</li> <li>– опираясь на знания основной и дополнительной литературы, тесно привязывает усвоенные научные положения с практической деятельностью направления;</li> <li>– умело обосновывает и аргументирует выдвигаемые им идеи;</li> <li>– делает выводы и обобщения;</li> <li>– свободно владеет системой специализированных понятий.</li> </ul>
«хорошо» «зачтено»	<ul style="list-style-type: none"> <li>– обучающийся твердо усвоил программный материал, грамотно и, по существу, излагает его, опираясь на знания основной литературы;</li> <li>– не допускает существенных неточностей;</li> <li>– увязывает усвоенные знания с практической деятельностью направления;</li> <li>– аргументирует научные положения;</li> <li>– делает выводы и обобщения;</li> <li>– владеет системой специализированных понятий.</li> </ul>
«удовлетворительно» «зачтено»	<ul style="list-style-type: none"> <li>– обучающийся усвоил только основной программный материал, по существу, излагает его, опираясь на знания только основной литературы;</li> <li>– допускает несущественные ошибки и неточности;</li> <li>– испытывает затруднения в практическом применении знаний направления;</li> <li>– слабо аргументирует научные положения;</li> <li>– затрудняется в формулировании выводов и обобщений;</li> <li>– частично владеет системой специализированных понятий.</li> </ul>
«неудовлетворительно» «не зачтено»	<ul style="list-style-type: none"> <li>– обучающийся не усвоил значительной части программного материала;</li> <li>– допускает существенные ошибки и неточности при рассмотрении проблем в конкретном направлении;</li> <li>– испытывает трудности в практическом применении знаний;</li> <li>– не может аргументировать научные положения;</li> <li>– не формулирует выводов и обобщений.</li> </ul>

### 10.3. Типовые контрольные задания или иные материалы.

Вопросы (задачи) для экзамена представлены в таблице 15.

Таблица 15 – Вопросы (задачи) для экзамена

№ п/п	Перечень вопросов (задач) для экзамена	Код индикатора
	Учебным планом не предусмотрено	

Вопросы для дифф. зачета представлены в таблице 16.

Таблица 16 – Вопросы для дифф. зачета

№ п/п	Перечень вопросов для дифф. зачета	Код индикатора
1	Однофазный однотактный выпрямитель: схема, временные диаграммы, принцип работы, вывод расчетных соотношений.	ПК-5.Д.1
2	Однофазный мостовой выпрямитель: схема, временные диаграммы, принцип работы, вывод расчетных соотношений.	ПК-5.Д.1
3	Трехфазный однотактный выпрямитель: схема, временные диаграммы, принцип работы, вывод расчетных соотношений.	ПК-5.Д.1
4	Особенности работы трансформатора в трехфазном однотактном	ПК-5.Д.1

	выпрямителе.	
5	Трехфазный мостовой управляемый выпрямитель: схема, временные диаграммы, вывод основных расчетных соотношений.	ПК-5.Д.1
6	Шестифазный однотактный выпрямитель: схема, временные диаграммы, вывод основных расчетных соотношений.	ПК-5.Д.1
7	Влияние индуктивности нагрузки на работу управляемого выпрямителя. Пояснить на примере любой схемы выпрямителя.	ПК-5.Д.1
8	Коммутация тока в выпрямителях: влияние на величину выпрямленного напряжения, вывод выражения для угла коммутации	ПК-5.Д.1
9	Внешняя характеристика управляемого выпрямителя.	ПК-5.Д.1
10	Регулировочная характеристика управляемого выпрямителя.	ПК-5.Д.1
11	Коэффициент пульсаций выпрямленного напряжения, С-фильтр, L-фильтр, L-C фильтр, вывод выражения коэффициента сглаживания.	ПК-5.Д.1
12	Зависимый инвертор: схема, принцип работы, условия перевода управляемого выпрямителя в режим инвертирования.	ПК-5.Д.1
13	Однофазный мостовой инвертор тока параллельного типа: схема, временные диаграммы, принцип работы, вывод основных расчетных соотношений.	ПК-5.Д.1
14	Однофазный мостовой инвертор последовательного типа: схема, временные диаграммы, принцип работы, вывод основных расчетных соотношений.	ПК-5.Д.1
15	Однофазный мостовой инвертор напряжения: схема, временные диаграммы, принцип работы, вывод выражений для $Pd1$ , $Pd2$ , $Pd$ .	ПК-5.Д.1
16	Широтное регулирование выходного напряжения инвертора напряжения; зависимость гармонического состава выходного напряжения от длительности импульса полуволны выходного напряжения.	ПК-5.Д.1
17	Широтно-импульсное регулирование выходного напряжения инвертора напряжения; гармонический состав выходного напряжения.	ПК-5.Д.1
18	Трехфазный транзисторный инвертор напряжения с: схема, временные диаграммы, принцип работы, вывод выражения действующих значений напряжений УФ и УЛ.	ПК-5.Д.1
19	Трехфазный транзисторный инвертор напряжения с: схема, временные диаграммы, принцип работы, вывод выражения действующих значений напряжений УФ и УЛ.	ПК-5.Д.1
20	Преобразователи частоты со звеном постоянного тока: основные структурные схемы, достоинства, недостатки.	ПК-5.Д.1
21	Преобразователь частоты без звена постоянного тока с естественной коммутацией: схема, временные диаграммы, принцип работы.	ПК-5.Д.1
22	Тиристорный регулятор напряжения переменного тока – работа на активную нагрузку.	ПК-5.Д.1
23	Система импульсно-фазового управления: устройство, принцип работы	ПК-5.Д.1
24	Энергетические показатели работы преобразователя	ПК-5.Д.1

Перечень тем для курсового проектирования/выполнения курсовой работы представлены в таблице 17.

Таблица 17 – Перечень тем для курсового проектирования/выполнения курсовой работы

№ п/п	Примерный перечень тем для курсового проектирования/выполнения курсовой работы
-------	--

Учебным планом не предусмотрено
---------------------------------

Вопросы для проведения промежуточной аттестации в виде тестирования представлены в таблице 18.

Таблица 18 – Примерный перечень вопросов для тестов

№ п/п	Примерный перечень вопросов для тестов	Код индикатора
	Вопрос №1. Нарисуйте схему трехфазного однотактного управляемого выпрямителя.	ПК-5.Д.1
	Вопрос №2. Нарисуйте схему трехфазного мостового неуправляемого выпрямителя.	ПК-5.Д.1
	Вопрос №3. Укажите для каких целей в выпрямителях применяют трансформаторы.	ПК-5.Д.1
	Вопрос №4. Укажите для каких целей в выпрямителях применяют сглаживающие фильтры.	ПК-5.Д.1
	Вопрос №5. Определите, чему будет равно среднее значение выпрямленного напряжения однофазного мостового неуправляемого выпрямителя, если на его вход подано напряжение переменного тока, равное 100 В?	ПК-5.Д.1
	Вопрос №6. Определите, чему будет равно среднее значение выпрямленного напряжения трехфазного мостового неуправляемого выпрямителя, если на его вход подано напряжение переменного тока, равное 100 В?	ПК-5.Д.1
	Вопрос №7. Определите, чему будет равно среднее значение выпрямленного напряжения трехфазного однотактного неуправляемого выпрямителя, если на его вход подано напряжение переменного тока, равное 100 В?	ПК-5.Д.1
	Вопрос №8. Определите, чему равно среднее значение тока диода однофазного мостового неуправляемого выпрямителя, если ток нагрузки равен 100 А.	ПК-5.Д.1
	Вопрос №9. Определите, чему равно среднее значение тока диода трехфазного однотактного неуправляемого выпрямителя, если ток нагрузки равен 150 А.	ПК-5.Д.1
	Вопрос №10. Определите, чему равно среднее значение тока диода трехфазного мостового неуправляемого выпрямителя, если ток нагрузки равен 150 А.	ПК-5.Д.1
	Вопрос №11. Определите, чему равно максимальное амплитудное значение обратного напряжения диода однофазного мостового неуправляемого выпрямителя, если на его вход подано напряжение переменного тока, действующее значение которого равно 100 В?	ПК-5.Д.1
	Вопрос №12. Определите, чему равно максимальное амплитудное значение обратного напряжения диода трехфазного мостового неуправляемого выпрямителя, если на его вход подано напряжение переменного тока, действующее значение которого равно 100 В?	ПК-5.Д.1
	Вопрос №13. Определите, чему равно максимальное амплитудное значение обратного напряжения диода трехфазного однотактного неуправляемого выпрямителя, если на его вход подано напряжение переменного тока, действующее значение которого равно 100 В?	ПК-5.Д.1
	Вопрос №14. Укажите величину коэффициента пульсаций выпрямленного напряжения однофазного мостового неуправляемого выпрямителя.	ПК-5.Д.1

	Вопрос №15. Укажите величину коэффициента пульсаций выпрямленного напряжения трехфазного мостового неуправляемого выпрямителя.	ПК-5.Д.1
	Вопрос №16. Укажите величину коэффициента пульсаций выпрямленного напряжения трехфазного однотактного неуправляемого выпрямителя.	ПК-5.Д.1
	Вопрос №17. Укажите величину коэффициента пульсаций выпрямленного напряжения трехфазного однотактного неуправляемого выпрямителя.	ПК-5.Д.1
	Вопрос №18. Укажите в каком из выпрямителей - однофазном мостовом, трехфазном однотактном или трехфазном мостовом, имеет место вынужденное подмагничивание сердечника магнитопровода трансформатора постоянным потоком.	ПК-5.Д.1
	Вопрос №19. Дайте определение понятию «Угол регулирования $\alpha$ ».	ПК-5.Д.1
	Вопрос №20. Дайте определение понятию «Угол коммутации $\gamma$ ».	ПК-5.Д.1
	Вопрос №21. Дайте определение понятию «граничное значение угла регулирования $\alpha_{гр}$ ».	ПК-5.Д.1
	Вопрос №22. Укажите значение угла $\alpha_{гр}$ для однофазного мостового управляемого выпрямителя, работающего на чисто активную нагрузку.	ПК-5.Д.1
	Вопрос №23. Укажите значение угла $\alpha_{гр}$ для трехфазного мостового управляемого выпрямителя, работающего на чисто активную нагрузку.	ПК-5.Д.1
	Вопрос №24. Укажите значение угла $\alpha_{гр}$ для трехфазного однотактного управляемого выпрямителя, работающего на чисто активную нагрузку.	ПК-5.Д.1
	Вопрос №25. Дайте определение понятию «угол запираания $\alpha_{зап}$ ».	ПК-5.Д.1
	Вопрос №26. Укажите значение угла $\alpha_{зап}$ для однофазного мостового управляемого выпрямителя, работающего на чисто активную нагрузку.	ПК-5.Д.1
	Вопрос №27. Укажите значение угла $\alpha_{зап}$ для трехфазного мостового управляемого выпрямителя, работающего на чисто активную нагрузку.	ПК-5.Д.1
	Вопрос №28. Укажите значение угла $\alpha_{зап}$ для трехфазного однотактного управляемого выпрямителя, работающего на чисто активную нагрузку.	ПК-5.Д.1
	Вопрос №29. Укажите как влияет ток нагрузки на величину угла коммутации $\gamma$ (увеличивает его или уменьшает).	ПК-5.Д.1
	Вопрос №30. Укажите как влияет напряжение переменного тока на величину угла коммутации $\gamma$ (увеличивает его или уменьшает).	ПК-5.Д.1
	Вопрос №31. Укажите как влияет индуктивное сопротивление рассеяния обмотки сетевого трансформатора на величину угла коммутации $\gamma$ (увеличивает его или уменьшает).	ПК-5.Д.1
	Вопрос №32. Укажите как влияет увеличение угла коммутации $\gamma$ управляемого выпрямителя на величину его коэффициента мощности $\chi$ (увеличивает его или уменьшает).	ПК-5.Д.1
	Вопрос №33. Укажите как влияет увеличение угла регулирования $\alpha$ управляемого выпрямителя на величину его коэффициента мощности $\chi$ (увеличивает его или уменьшает).	ПК-5.Д.1
	Вопрос №34. Укажите по какой формуле (№1 или №2) следует рассчитывать коэффициент полезного действия выпрямителя $\eta_v$ :	ПК-5.Д.1

	$\eta = P_d/P_2 \text{ (1);}$ $\eta = P_2/P_d \text{ (2),}$ <p>где <math>P_d=U_d I_d</math> - мощность цепи постоянного тока преобразователя;  <math>P_2=m_2 U_2 I_2 \cos\varphi</math> – активная мощность цепи переменного тока преобразователя.</p>	
	<p>Вопрос №35. Укажите какое из трех нижеприведенных определений инвертора (1, 2 или 3) - правильное:</p> <ol style="list-style-type: none"> <li>1. Инвертор преобразует электрическую энергию переменного тока в электрическую энергию постоянного тока;</li> <li>2. Инвертор преобразует электрическую энергию постоянного тока в электрическую энергию переменного тока;</li> <li>3. Инвертор преобразует электрическую энергию постоянного тока с напряжением <math>U_1</math> в электрическую энергию постоянного тока с напряжением <math>U_2</math>.</li> </ol>	ПК-5.Д.1
	<p>Вопрос №36. Укажите в каких пределах <math>0 &lt; \alpha &lt; 90^\circ</math> или <math>90^\circ &lt; \alpha &lt; 180^\circ</math> должен находиться угол регулирования <math>\alpha</math> в режиме инвертирования.</p>	ПК-5.Д.1
	<p>Вопрос №37. Укажите следует ли изменять полярность напряжения цепи постоянного тока выпрямителя на противоположное при переводе выпрямителя в режим инвертирования.</p>	ПК-5.Д.1
	<p>Вопрос №38. Укажите параметры зависимого инвертора, воздействуя на которые можно регулировать величину мощности, отдаваемой зависимым инвертором в сеть переменного тока.</p>	ПК-5.Д.1
	<p>Вопрос №39. Укажите по какой формуле (№1 или №2) следует рассчитывать коэффициент полезного действия зависимого инвертора <math>\eta_{з.и}</math>:</p> $\eta = P_d/P_2 \text{ (1);}$ $\eta = P_2/P_d \text{ (2),}$ <p>где <math>P_d=U_d I_d</math> - мощность цепи постоянного тока преобразователя;  <math>P_2=m_2 U_2 I_2 \cos\varphi</math> – активная мощность цепи переменного тока преобразователя.</p>	ПК-5.Д.1

Перечень тем контрольных работ по дисциплине обучающихся заочной формы обучения, представлены в таблице 19.

Таблица 19 – Перечень контрольных работ

№ п/п	ЗАДАЧИ
	<p>Первая задача - по разделу «Выпрямители»,  Вторая задача по разделу «Автономные инверторы».  Для студентов заочников эти задачи служат контрольными заданиями.  Контрольное задание выполняется студентом самостоятельно. Номера вариантов заданий как первой, так и второй задачи одинаковы и соответствуют порядковому номеру фамилии студента в списке учебной группы. Отчет о выполнении</p>

контрольного задания оформляется на листах формата А4 и содержит текстовый материал и необходимые рисунки, и временные диаграммы.

При решении первой задачи контрольного задания необходимо для заданного варианта схемы управляемого выпрямителя (смотри таблицу 17):

- нарисовать схему выпрямителя;
- построить временные диаграммы напряжений сети переменного тока для указанной схемы выпрямления.

Используя временные диаграммы напряжений сети переменного тока, построить временную диаграмму напряжения нагрузки для заданных значений угла регулирования и индуктивности цепи нагрузки.

Пользуясь графо-аналитическим методом по временной диаграмме напряжения нагрузки определить коэффициент пульсаций выпрямленного напряжения ( $k_{п1} =$ )

Схема управляемого выпрямителя задана двумя параметрами:

- числом фаз сети переменного тока выпрямителя,  $m_2 =$ , и коэффициентом тактности выпрямителя  $k_t =$ .

Напомним, что схемы выпрямителей с выводом нулевой точки трансформатора имеют коэффициент тактности  $k_t = 1$ , а мостовые схемы имеют коэффициент тактности  $k_t = 2$ .

Угол регулирования  $\alpha$  задан в градусах, ( $\alpha =$ , град.);

Характер нагрузки зависит от наличия или отсутствия индуктивности в цепи нагрузки.

При наличии индуктивности в цепи нагрузки  $L_d = L_{dN}$  нагрузки имеет активно-индуктивный характер, а при отсутствии индуктивности в цепи нагрузки  $L_d = 0$  нагрузка имеет чисто индуктивный характер.

Варианты задания

Таблица 19-1

Вар.	1	2	3	4	5	6	7	8	9	10
$m_2$	1	1	1	1	1	1	1	1	3	3
$k_t$	2	2	2	2	2	2	2	2	1	1
$\alpha$ , град.	30	45	45	90	90	30	120	150	30	60
$L_d$	0	$L_{dN}$	0	$L_{dN}$	0	$L_{dN}$	0	0	0	0

Продолжение таблицы 19-1

Вар.	11	12	13	14	15	16	17	18	19	20
$m_2$	3	3	3	3	3	3	3	3	3	3
$k_t$	1	1	1	1	2	2	2	2	2	2
$\alpha$ , град.	60	90	90	120	30	60	60	90	90	0
$L_d$	$L_{dN}$	0	$L_{dN}$	0	0	0	$L_{dN}$	0	$L_{dN}$	0

Методические рекомендации для выполнения первого задания приведены в [1], раздел 3.5. Методические рекомендации по расчету коэффициента пульсаций выпрямленного напряжения приведены в [1], стр. 94-95.

В качестве примера в приложении 1 приведен пример решения задачи №1 для случая однофазной мостовой схемы выпрямления, активно-индуктивном характере нагрузки и значении угла регулирования  $\alpha = 60^\circ$ .

При решении второй задачи необходимо для одной заданной схемы инвертора (А,Б

или В) выполнить расчет параметров силовой схемы, включая и параметры выходного фильтра.

Принятые в таблице 19-2 обозначения схем однофазных инверторов напряжения:

- схема А – однофазная схема с выводом нулевой точки первичной обмотки трансформатора;

- схема Б -полумостовая схема;

- схема В -полномостовая (мостовая) схема.

Исходные данные, необходимые для расчета:

Схема инвертора;

Напряжение нагрузки,  $U_{нгN} = B$ ;

Ток нагрузки,  $I_{нгN} = A$ ;

Частота выходного напряжения,  $f = \text{Гц}$ ;

Напряжение входной сети,  $U_{вхN} = B$ ;

Допустимое отклонение напряжения входной сети  $\pm \Delta U_{вх} = \%$ ;

Требуемый коэффициент гармоник выходного напряжения,  $k_{г.вых} = .$

Коэффициент мощности нагрузки,  $\cos \varphi_{нг} = .$  (Угол  $\varphi_{нг} = .$ ).

Регулирование выходного напряжения осуществляется посредством широтного способа регулирования.

По разделу «инверторы» необходимо выполнить расчет параметров однофазного инвертора напряжения с выходным фильтром и выполнить выбор его элементов.

Требуется:

- нарисовать схему инвертора;

- построить временные диаграммы, поясняющие принцип работы инвертора;

- рассчитать загрузку элементов схемы (транзисторов, диодов) по току и напряжению;

- рассчитать требуемый диапазон изменения коэффициента скважности  $\gamma$ ;

Варианты заданий сведены в таблицу 19-2.

Таблица 19-2

Параметры	Варианты заданий									
	1	2	3	4	5	6	7	8	9	10
Схема инвертора	А	Б	В	А	Б	В	А	Б	В	А
$U_{нгN}, B$	3 6	1 1 5	2 2 0	6 0	70	80	90	10 0	1 1 5	2 2 0
$I_{нгN}, A$	1	1, 0	0, 8	4	5	4	3	2	1, 0	0, 8
$f, \text{Гц}$	5 0	4 0 0	5 0	3 0 0	40 0	30 0	20 0	10 0	4 0 0	5 0
$U_{вхN}, B$	1 2	1 0	1 5	1 2	24	36	12	24	1 2	1 8
$\pm \Delta U_{вх}, \%$	1 0	0, 1	0, 1	1 0	15	20	15	10	1 0	1 5
$k_{г.вых}$	0,	0,	0,	0,	0,0	0,0	0,0	0,0	0,	0,



	0 5	8	7	0 5	5	5	5	5	1	1
$\cos\varphi_{нз}$	1, 0	0, 9	0, 8	0, 7	0,8	0,9	1,0	0,9	0, 8	0, 7

## Продолжение таблицы 19-2

Параметры	Варианты заданий								
	11	12	13	14	15	16	17	1 8	19
Схема инвертора	Б	В	А	Б	В	А	Б	В	А
$U_{нН}, В$	11 5	22 0	11 5	22 0	20 0	12 7	36	4 8	11 5
$I_{нН}, А$	1, 0	0, 8	1, 5	0, 9	0,7	0,9	2,0	1, 5	1, 0
$f, Гц$	40 0	50	40 0	50	40 0	50	50	5 0	40 0
$U_{вхН}, В$	12	18	24	36	48	60	11 0	1 2	12
$\pm\Delta U_{вх}, \%$	10	15	20	25	10	15	20	2 5	10
$k_{г.в.ых}$	0, 1	0, 1	0, 1	0, 1	0,0 8	0,0 8	0,0	0, 0 8	0, 0 1
$\cos\varphi_{нз}$	0, 8	0, 7	0, 8	0, 9	1,0	0,9	0,8	0, 7	0, 8

## Требуется:

- нарисовать схему инвертора;
- построить временные диаграммы, поясняющие принцип работы инвертора;
- рассчитать загрузку элементов схемы (транзисторов, диодов) по току и напряжению;
- рассчитать требуемый диапазон регулирования коэффициента скважности  $\gamma$ ;
- рассчитать параметры трансформатора, необходимые для его выбора (напряжения и токи первичной и вторичной обмоток, расчетную мощность трансформатора);
- рассчитать выходной фильтр, необходимый для достижения требуемого по заданию коэффициента гармоник выходного напряжения (кг.вых.).

Варианты заданий второй задачи задаются студентам из таблицы 18.

Расчетные соотношения для определения загрузки транзисторов по току и напряжению приведены в [2], стр. 14-20, стр.40-45. Методика расчета выходного фильтра для всех трех схем одинакова и приведена в [2], стр.45-47.

Методические рекомендации по выполнению контрольного задания.

Перед выполнением контрольного задания следует внимательно изучить разделы учебного пособия, в которых изложены вопросы устройства, принципа работы и расчетные соотношения для определения загрузки элементов схемы по току и напряжению, как для выпрямителей, так и инверторов напряжения 2. Порядок

выполнения контрольной работы изложен в разделе 3.5 учебного пособия [1], в котором приведен пример решения первой задачи контрольной работы, и в разделах 1.4, 1.9 и 1.10 учебного пособия [2], в которых приведены примеры расчета однофазного инвертора напряжения с выводом нулевой точки первичной обмотки трансформатора и расчета однофазного мостового инвертора напряжения (1.10).

10.4. Методические материалы, определяющие процедуры оценивания индикаторов, характеризующих этапы формирования компетенций, содержатся в локальных нормативных актах ГУАП, регламентирующих порядок и процедуру проведения текущего контроля успеваемости и промежуточной аттестации обучающихся ГУАП.

#### 11. Методические указания для обучающихся по освоению дисциплины

Целью дисциплины является – получение студентами необходимых знаний, умений и навыков в области современных устройств и систем энергетической электроники, что позволит им успешно решать теоретические и практические задачи в их профессиональной деятельности. Обучающиеся должны освоить дисциплину на уровне, позволяющем им ориентироваться в схемных решениях, математических моделях, свойствах и характеристиках устройств и систем энергетической электроники. Уровень освоения дисциплины должен позволять студентам проводить типовые расчеты основных параметров и характеристик устройств и систем энергетической электроники, проводить элементарные лабораторные испытания устройств и систем энергетической электроники.

##### 11.1. Методические указания для обучающихся по освоению лекционного материала

Основное назначение лекционного материала – логически стройное, системное, глубокое и ясное изложение учебного материала. Назначение современной лекции в рамках дисциплины не в том, чтобы получить всю информацию по теме, а в освоении фундаментальных проблем дисциплины, методов научного познания, новейших достижений научной мысли. В учебном процессе лекция выполняет методологическую, организационную и информационную функции. Лекция раскрывает понятийный аппарат конкретной области знания, её проблемы, дает цельное представление о дисциплине, показывает взаимосвязь с другими дисциплинами.

##### Планируемые результаты при освоении обучающимися лекционного материала:

- получение современных, целостных, взаимосвязанных знаний, уровень которых определяется целевой установкой к каждой конкретной теме;
- получение опыта творческой работы совместно с преподавателем;
- развитие профессионально-деловых качеств, любви к предмету и самостоятельного творческого мышления.
- появление необходимого интереса, необходимого для самостоятельной работы;
- получение знаний о современном уровне развития науки и техники и о прогнозе их развития на ближайшие годы;
- научиться методически обрабатывать материал (выделять главные мысли и положения, приходить к конкретным выводам, повторять их в различных формулировках);
- получение точного понимания всех необходимых терминов и понятий.

##### Структура предоставления лекционного материала:

Лекционный материал может сопровождаться демонстрацией слайдов и использованием раздаточного материала при проведении коротких дискуссий об особенностях применения отдельных тематик по дисциплине.

### 11.2. Методические указания для обучающихся по выполнению лабораторных работ

В ходе выполнения лабораторных работ обучающийся должен углубить и закрепить знания, практические навыки, овладеть современной методикой и техникой эксперимента в соответствии с квалификационной характеристикой обучающегося. Выполнение лабораторных работ состоит из экспериментально-практической, расчетно-аналитической частей и контрольных мероприятий.

Выполнение лабораторных работ обучающимся является неотъемлемой частью изучения дисциплины, определяемой учебным планом, и относится к средствам, обеспечивающим решение следующих основных задач обучающегося:

- приобретение навыков исследования процессов, явлений и объектов, изучаемых в рамках данной дисциплины;
- закрепление, развитие и детализация теоретических знаний, полученных на лекциях;
- получение новой информации по изучаемой дисциплине;
- приобретение навыков самостоятельной работы с лабораторным оборудованием и приборами.

Задание и требования к проведению лабораторных работ  
в методических указаниях к выполнению лабораторных работ [5], [6].

Структура и форма отчета о лабораторной работе  
в методических указаниях к выполнению лабораторных работ [5], [6].

Требования к оформлению отчета о лабораторной работе  
в методических указаниях к выполнению лабораторных работ [5], [6].

### 11.3. Методические указания для обучающихся по прохождению самостоятельной работы

В ходе выполнения самостоятельной работы, обучающийся выполняет работу по заданию и при методическом руководстве преподавателя, но без его непосредственного участия.

Для обучающихся по заочной форме обучения, самостоятельная работа может включать в себя контрольную работу.

В процессе выполнения самостоятельной работы, у обучающегося формируется целесообразное планирование рабочего времени, которое позволяет им развивать умения и навыки в усвоении и систематизации приобретаемых знаний, обеспечивает высокий уровень успеваемости в период обучения, помогает получить навыки повышения профессионального уровня.

Методическими материалами, направляющими самостоятельную работу обучающихся, являются:

- учебно-методический материал по дисциплине;
- методические указания по выполнению контрольных работ (для обучающихся по заочной форме обучения).

### 11.4. Методические указания для обучающихся по прохождению текущего контроля успеваемости

Текущий контроль успеваемости предусматривает контроль качества знаний обучающихся, осуществляемого в течение семестра с целью оценивания хода освоения дисциплины.

Текущий контроль успеваемости проводится в течение семестра с использованием тестовых вопросов (табл.18). В конце семестра по результатам текущего контроля выставляется оценка, которая учитывается при выставлении оценки по результатам промежуточной аттестации.

#### 11.5. Методические указания для обучающихся по прохождению промежуточной аттестации

Промежуточная аттестация обучающихся предусматривает оценивание промежуточных и окончательных результатов обучения по дисциплине. Она включает в себя:

– дифференцированный зачет – это форма оценки знаний, полученных обучающимся при изучении дисциплины, при выполнении курсовых проектов, курсовых работ, научно-исследовательских работ и прохождении практик с аттестационной оценкой «отлично», «хорошо», «удовлетворительно», «неудовлетворительно».

Промежуточная аттестация проводится по вопросам, приведенным в таблице 16.

При оценке окончательных результатов обучения по дисциплине учитывается оценка по текущему контролю, а также отсутствие или наличие задолженности по лабораторным работам. При наличии задолженностей по лабораторным работам итоговая оценка снижается на 0,5 балла за каждую не выполненную и не защищенную лабораторную работу или не решенную задачу.

Система оценок при проведении промежуточной аттестации осуществляется в соответствии с требованиями Положений «О текущем контроле успеваемости и промежуточной аттестации студентов ГУАП, обучающихся по программы высшего образования» и «О модульно-рейтинговой системе оценки качества учебной работы студентов в ГУАП».

## Лист внесения изменений в рабочую программу дисциплины

Дата внесения изменений и дополнений. Подпись внесшего изменения	Содержание изменений и дополнений	Дата и № протокола заседания кафедры	Подпись зав. кафедрой